




A
KİTAPÇIĞI



İSPARTA MİLLİ EĞİTİM MÜDÜRLÜĞÜ
Ölçme Değerlendirme Merkezi

Türkçe

Matematik

Sosyal Bilgiler

5
sınıf

1. OTURUMU

DESTEKLEME VE YETİŞTİRME KURSLARI
DÖNEM SONU KAZANIM
DEĞERLENDİRME SINAVI

Adı ve Soyadı :

Sınıfı / Şubesi :

Okulu :

Kitapçık Türü ve Oturum Bilgilerini Optik Forma Kodlamayı Unutmayınız

ÖĞRENCİLERİN DİKKATİNE

- Cevap kâğıdının kendinize ait olup olmadığını kontrol ediniz.
- Kitapçık türünü cevap kâğıdındaki ilgili alana kodlayınız.
- Cevap kâğıdı üzerindeki kodlamaları kurşun kalemle yapınız.

Soru Sayısı : 60

Sınav Süresi : 100 dakika

SINAV BAŞLAMADAN ÖNCE KİTAPÇIĞIN ARKA KAPAĞINDAKİ UYARILARI MUTLAKA OKUYUNUZ.

1. Geçiyor, göz ilerde, baş yüksekte, vücut dik,
Geçiyor, milletin göz bebeği Mehmetçik.
(ZAFER ARIKBAĞ)

Şiirde altı çizili kelime grubu Mehmetçiğin hangi özelliğini belirtmektedir?

- A) Çok sevimliliği
B) Çok bilinmeleri
C) Çok cesur olmaları
D) Çok çalışmaları

2.



Çeşmeler vardır Anadolu'da,
Akar yaz kış, oluk oluk ...
Dökülür avuçlara, yağmur yağmur,
Mutluluk...

Dörtlüğün teması aşağıdakilerden hangisidir?

- A) Anadolu'da çeşmelerin çok önemli olması
B) Her mevsim hiç durmadan akması
C) Çeşmelerden su içen insanların mutlu olması
D) Yaz kış demeden oluklarından akan sudan hayvanların da faydalanması

3. "gün, gezi, yaptığımız, sürdürü, iki, Anıtkabir'e"

Yukarıda karışık olarak verilen kelimelerden anlamlı ve kurallı bir cümle oluşturduğumuzda sondan ikinci kelime hangisi olur?

- A) Anıtkabir'e
B) gezi
C) iki
D) gün

4.

Oyunlar	Oyuncaklar	Doğa	Canlılar
beştaş	oyuncak tren	ağaç	?
körebe	oyuncak araba	?	arı
yakan top	?	çiçek	balık
?	oyuncak helikopter	göl	kuzu

Yukarıda aynı kavram alanına giren kelimeler verilmiştir. Her sütunda bir satır boş bırakılmıştır ve buralara soru işareti konmuştur. Tabloda (?) olan yerlere gelebilecek kelimeler tabloda sırasıyla hangisinde doğru olarak verilmiştir?

- A) uzuneşek , söğüt dalından atlar, kitap, kuş
B) üçtaş, oyuncak deniz motoru, çiçek, kalem
C) yedi kiremit, deniz kumu, çiçek, kurabiye
D) köşe kapmaca, çocuk bebekleri, ırmak, kuş

5. Çocuklar, dünyanın en saf ve masum insanlarıdır. Onlarda, insanlara karşı kin, öfke, düşmanlık duyguları olmaz. Var olan duyguları ise çocukça ve masumanedir. Tertemizdirler. Onlar için dünya, bir oyundan ibarettir ve doyasıya oynayıp eğlenmek isterler. Ömrümüz boyunca hatırladığımız, tekrar yaşamak istediğimiz anılarımız olur. Bu anıların da çoğu çocukluğumuza aittir. Çocuk olmak gibisi yok. Bu dünyanın kötülüklerinden, dertlerinden, çilelerinden uzaktır onlar.

Paragrafın ana fikri hangisidir?

- A) Hayatımızın en önemli dönemi çocukluk dönemidir.
B) Çocuklar olumsuz duygulardan arınmış, kötülük nedir bilmezler.
C) Çocuklar kişiliklerini geliştiren, oyunlar oynamalıdır.
D) Oyun oynamak her çocuğun en doğal hakkıdır.

6 ve 7. soruları bu paragrafa göre cevaplayınız.

Önceleri köylünün işi çok zordu. Sadece ailelerin biraz kalabalık olması, işlerin yürütülmesini kolaylaştırıyordu. Çünkü bütün işler **el emeğiyle** yapılır, sırf insan gücüyle başarılıydı. Köylü yiyeceği ekmeği kendi eliyle ektiği tohumdan **elde eder**. Yağını, peynirini, reçelini, salçasını vb. hep kendisi yapar. Kışa hazırlanırdı. Lakin şu bir gerçektir ki köylünün başını kaşıyacak vakti yoktu. Bahar, yaz hazırlığının; yaz, kış hazırlığının telaşı içinde geçirdi. Köy cıvılcıvılcı hayat doluydu. Canlıydı. Herkes dost canlısıydı. Birbirine karşı saygılı, sevecen, ve sevgi doluydu. Hayat bu şekilde devam ederken yavaş yavaş gurbet kapıları açılmaya başladı. Gençler birer ikişer büyük şehirlerin **yolunu tutmaya** oldu. Bir süre sonra köydeki gençlerin sayısı yok denecek kadar azaldı. Kocaman köyler, **yaşını başını almış** yaşlı insanlara kaldı. Köy eski şenliğini kaybetmeye başladı. Çehresini yalnızlık bürüdü.

6. Paragrafta yazarın şikayet ettiği konu nedir?

- A) Köyün işinin hiç bitmemesi, yaz ve kış hazırlıklarının devam etmesi.
- B) Köyün işlerinin zor olması, hep insan gücüyle yapılması.
- C) Şimdiki köylülerin dost canlısı, güler yüzlü olmaması.
- D) Gençlerin şehirlere gitmesiyle köyün ihtiyarlara kalması.

7. Parçada altı çizilen deyimlerin anlamları aşağıda verilmiştir.

1. Bir şeye sahip olmak.
2. Elle yapılan işe harcanan emek.
3. İşleri çok ve sıkışık durumda olmak
4. Yaşı epeyce ilerlemiş olmak

Yukarıda anlamı olmayan deyim hangisidir?

- A) El emeği
- B) Elde etmek
- C) Yolunu tutmak
- D) Yaşını başını almak

8. (1)Çocuk eğitiminde davranışlar sözlerden daha etkilidir. (Öznel Anlatım) (2)Çocuklar anne babaların söylediklerini test etmek için sağır dinleme yapar. (Amaç-sonuç) (3)Duydukları halde duymamış gibi yaparak onaylamadığımız davranışlarını sürdürürler. (Sebeup Sonuç) (4)Daha önce defalarca annelerinin konuştuğunu, nasihat ettiğini, bağırdığını, boş tehditler savurduğunu ama bir icraatta bulunmadığını deneyerek öğrenmişlerdir.(Düşüncenin yönünü değiştiren ifadeler var.)

Parçada numaralanmış cümlelerin sonunda parantez içinde verilen bilgilerden hangisi yanlıştır?

- A) 4
- B) 3
- C) 2
- D) 1

9. (I) Önce Güneş yüzünü gösterdi. (II) Sonra güzel kokulu çiçekler Güneş'e merhaba dedi. (III) Bahçemizdeki yeni gelin gibi duran erik ağacı meyvelerini cömertçe ikram etti gelen geçenlere.(IV) Hep beraber yeni güne başlamış olduk.

Numaralandırılmış cümlelerin hangisinde hem benzetme hem kişileştirme vardır?

- A) IV
- B) III
- C) II
- D) I

10. Adamın biri sabaha karşı güneşin doğuşunun keyfini çıkarmak için okyanus sahiline iner. Uzakta birini görür. Biraz yaklaştığında sahile vuran deniz yıldızlarını okyanusa atan bir çocuğun olduğunu fark eder. Çocuğa yaklaşarak sorar:

– Deniz yıldızlarını neden okyanusa atıyorsun?

Çocuk der ki:

– Güneş yükseldi mi, sular çekiliyor. Onları suya atmazsam susuzluktan ölecekler.

Adam devam eder:

– Sahil kilometrelerce uzanıyor ve binlerce deniz yıldızı var, hangi birini atacaksın. Ne fark edecek ki?

Çocuk, adamı dinledikten sonra bir deniz yıldızını daha okyanusa atar ve cevap verir:

– Bu deniz yıldızı için fark etti.

Metinden çıkardığınız ders aşağıdakilerden hangisidir?

- A) Deniz yıldızını önemsemeli ve onu korumalıyız.
- B) Deniz yıldızı görmek için sahile gitmeliyiz.
- C) Küçük iyilikler, yapılan için çok önemli olabilir.
- D) İyilik yapmak için büyük olmamız gerekmez.

11. Genellikle iş sonrası veya evde televizyon karşısında amaçsızca, kanal kanal dolaşarak zaman boşa geçiriliyor. Oysaki bu zaman kitap okuyarak geçirilebilecek en verimli zamandır. Bunun yanı sıra otobüs, tren, taksi ve uçak gibi ulaşım araçlarında seyahat ederken zorunlu olarak geçen boş zaman da kitap okuyarak değerlendirilebilecek anlardır. Özellikle bekleme yapılan yerlerde kitap okumak, geçirilen zamanı hem zevkli hale getirecek hem de boş zamanını değerlendirmesine vesile olacaktır.

Metne en uygun başlık hangisidir?

- A) Okuyarak Zaman Kazanmak
- B) Televizyon Yerine Okumak
- C) Yolculuk ve Okumak
- D) Okumak ve Öğrenmek

12. *O gün köyün sessizliği er saatte bozguna uğradı. Köy ayaklanmıştı sanki. Her perşembe sabahı böyle olurdu zaten. Köy tümüyle uyanırdı. Köylü, kazanın hafta pazarına giderdi o gün. Keçiye, davara daha bir gün öncesinden yol verilir; pazara götürülecek sığır takımı da er horozda yola katılırdı.*

Paragraftan aşağıda verilen bilgilerden hangisine kesin olarak ulaşılabilir?

- A) Olay sınırdaki bir şehrimizin bir mahallesinde geçmektedir.
- B) Olay sabahın erken saatlerinde bir köyde yaşanmıştır.
- C) Perşembe günü köylünün geç saatte pazardan dönüşünü anlatmaktadır.
- D) Ahmet Amca'nın pazarda mallarının hepsini satmasını anlatmaktadır.

13. **Hangi seçenekte** “zaman, mekân ve üçüncü kişi ağzıyla anlatım” **unsurlarının üçüne birden yer verilmiştir?**

- A) Çocuk, eliyle kadını gösterdi. Ufacık gözleri, pırıl pırıl dişleri, bembeyaz yüzü vardı. Kadına bakınca anneannemin süt kokan yüzünü görmüş gibi oldum.
- B) Elli yaşında adam, ellisine yakın kadın, fiskiyeleler, toplar... Onlar benden de çocuk. Seni görememenin sıkıntısı dağılıyor, seviniyorum.
- C) Hayri'nin sabit fikri gündün güne onu sarsmaya başlamıştı. Geceleri yatakta kendi kendine şu soruları sormaya başlamıştı: “Acaba şu dünyada gerçekten faydasız mıyım?”
- D) Günler şu son harpten evvel uzun uzun böyle geçmişti. Harp başladıktan sonra telaş ve endişe herkesin gündemi olmuştu. İşte o günlerde onu teselli eden bir arkadaşı oldu.

14. Ataberk, altı çizili sözcüklerin hangi anlamda kullanıldığını inceleyip karşısına gerçek anlam ise (G), mecaz anlam ise (M), terim anlam ise (T) yazmıştır.

- 1. Ayağı kayınca birden yere düştü. (...G...)
- 2. Sarı renk seni çok açtı. (...M...)
- 3. Derste üçgenler konusunu işledik. (...G...)
- 4. Tiyatronun ikinci perdesi çok sönük geçti (...T...)
- 5. Korkudan dizlerinin bağı çözüldü. (... T...)

Ataberk, cümlelerdeki altı çizili kelimelerden hangilerinin anlam özelliğini yanlış yazmıştır?

- A) 3-5
- B) 2-4
- C) 1-3
- D) 1-4

15. Bir zamanlar dümdüz bir ovada bir köy varmış. Yemyeşil bitkilerin arasında kırmızı güller açarmış. İnsanlar bu köyde çok mutluymuşlar. Çünkü bu köyde hiç haksızlık ve de kavga yokmuş. Hasta olan her canlı bu köye girdiğinde iyileşiyormuş. Yalnız bu köye yalan söyleyenler ve kötüler giremezmiş. Yıllar sonra araştırma yapan arkeologlar bu köyün bir kapısı olduğunu görmüşler ve kapının üzerinde şöyle yazıyormuş : “Sevgi mutluluğun anahtarıdır.”

Bu köyle ilgili verilen bilgilerden hangisi mutlu insanların olumlu özelliklerinden biri değildir?

- A) Bir zamanlar dümdüz bir ovada bir köy varmış
- B) Çünkü bu köyde hiç haksızlık ve kavga yokmuş.
- C) Bu köye yalan söyleyenler ve kötüler giremezmiş.
- D) Köyde yaşayan insanların sevgi dolu olması.

16. Merve, tema boyunca öğrendiği kelimelerden sözlük defteri oluşturmaktadır. Sözlük defterindeki kelimeler alfabetik sıraya göre dizilecektir.

Aşağıdaki kelimelerden hangisi, Merve'nin sözlük defterinde sonuncu sıradadır?

- A) kayak
- B) kayık
- C) kaymak
- D) kaynak

17. Türkçe Öğretmeni Selma Hanım, noktanın kullanıldığı yerlerle ilgili açıklama cümleleri vermiş ve öğrencilerden açıklamaya uygun örnekler vermelerini istemiştir.

1. Kısaltmalardan sonra kullanılır.
Gökhan: Dr. Hakan Bey bizim mahallededir.
2. Sayılardan sonra –ıncı/-inci anlamında kullanılır.
İsmail: Yarışmada 2. oldum.
3. Tarihleri yazarken gün ay ve yıl arasında kullanılır.
Uğur: Ben 15 Nisan 2007'de doğdum.
4. Zamanı gösterirken saat ve dakika arasına getirilir.
Burçin: Dersimiz, 8.30'da başlıyor.

Açıklamaya uymayan örneği hangi öğrenci vermiştir?

- A) Uğur
- B) İsmail
- C) Gökhan
- D) Burçin

18.



Görseldeki elektronik postadan hangi bilgiye ulaşamaz?

- A) Elektronik postanın konusu
- B) Sergiye kimlerin katılacağı
- C) Serginin yapılacağı tarih
- D) Sergiyi kimlerin düzenlediği

19. Berke, gerçek hayatla ilgisi olmayan olayların yer aldığı kitapları sevmemektedir. Şiir okumak ise zevkli değildir. Okuduğu kitapta, günün olağan akışı içinde yaşanabilecek olaylar ve kişiler yer almalı. Hele öyle devler, cüceler, periler hiç ona göre değil. Hayvanların da insan gibi konuşması ve düşünmesi ona mantıklı gelmiyor.

Sizce Berke, aşağıdaki hangi kitabı okumaktan hoşlanır?

- A) **ANDERSEN MASALLARI**
Hans C. ANDERSEN
- B) **101 FABL**
La FONTAINE
- C) **MEMLEKET HİKÂYELERİ**
Refik Halid KARAY
- D) **ŞİİR GEZİSİ**
Ayla ÇINAROĞLU

20.

BİLGİNİN YOLCULUĞU



Yukarıdaki görsel ve başlıktan hareketle bir metin yazılacaktır. Hangi seçenek bu metnin konusu olamaz?

- A) Kitapların bizi farklı maceralara sürüklemesi
- B) Öğrendiğimiz bilgilerin bizi farklı dünyalara götürmesi
- C) Görmediğimiz dünyaların kapılarının okudukça açılması
- D) Gökyüzünün bilginin yeri ve kaynağı olması

TÜRKÇE TESTİ BİTTİ.
CEVAPLARINIZI KONTROL EDİNİZ.

1. Bir telefon satıcısı tanesi 799TL olan telefonlardan bir ayda 36 tane, tanesi 985TL olan telefonlardan aynı ay içinde 25 tane satmıştır. Bu satıcının bir ayda yaptığı toplam satış kaç liradır?

A) 1784 B) 24625
C) 28764 D) 53389

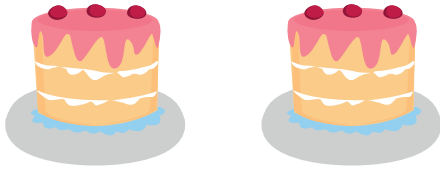
2.

<p>İSTANBUL Nüfus :14804116 Rakım: 30</p>
--

Yukarıdaki tabelaya göre İstanbul nüfusuyla ilgili verilenlerden hangisi yanlıştır?

- A) Milyonlar bölüğündeki sayının rakamlar toplamı 5 tir.
B) Yüzler ve yüz binler basamağındaki sayıların sayı değeri toplamı 9 dur.
C) Birler bölüğündeki sayı 116 dir.
D) Binler bölüğündeki sayı 408 dir.

3.



Doğum günü için aynı pastadan iki tane alan Mustafa pastalardan birisini 5 eşit parçaya diğerini 15 eşit parçaya ayırmıştır. 5 parçaya ayırdığı pastadan 2 parçasını yiyen Mustafa 15 parçaya ayırdığı pastanın bir kısmını arkadaşına vermiştir. Mustafa'nın yediği pasta büyüklüğü ile arkadaşına verdiği pasta büyüklüğü eşit olduğuna göre Mustafa arkadaşına kaç parça pasta vermiştir?

A) 6 B) 5
C) 4 D) 2

4. $\frac{25}{4}$ bileşik kesri hangi tam sayılar arasındadır?

A) 3 ile 4 B) 4 ile 5
C) 5 ile 6 D) 6 ile 7

5. Arkadaşından 2320 TL borç alan Özkan borcunun yarısını ödedikten sonra kalan borcunu 8 eşit taksitle ödemiştir. Buna göre Özkan'ın ödediği bir taksit tutarı kaç TL dir?

A) 135 B) 140
C) 145 D) 150

6. $2 + \frac{4}{10}$ toplamı aşağıdakilerden hangisine eşit değildir?

A) $2\frac{4}{10}$ B) $\frac{24}{10}$
C) $\frac{12}{5}$ D) $\frac{16}{10}$

7. 65×12 işleminin çözümünde hangi basamakta hata yapılmıştır?

$$65 \times 12$$

- I) $=60 \times 12 + 5 \times 12$
 II) $=720 + 60$
 III) $=780$

- A) I. Adımda
 B) II. Adımda
 C) III. Adımda
 D) Hata yapılmamıştır.

8.

SUBAT-2019

P	S	Ç	P	C	Ct	Pz
				1	2	3
4	5	6	7	8	9	10
11	12	13	14	15	16	17
18	19	20	21	22	23	24
25	26	27	28			

Mehmet Şubat ayında her gün eşit mesafede aracı ile yol gidecektir. Mehmet toplam 4620 km yol gideceğine göre bir günde kaç km yol gitmelidir?

- A) 160
 B) 165
 C) 175
 D) 185

9. Bir öğrenci hafta sonu tatilinde birinci gün 7² sayfa ikinci gün ise 4³ sayfa kitap okumuştur. Bu öğrenci hafta sonu tatilinin ikinci günü kaç sayfa fazla kitap okumuştur?

- A) 113
 B) 37
 C) 15
 D) 9

10.

$$58+2=60$$

$$60+75=135$$

$$135-2=133$$

Yukarıda çözümü verilen soru hangi seçenekteki işleme ait olabilir.

- A) $58+75$
 B) $55+78$
 C) $60+73$
 D) $63+70$

11. Çıkarma işleminin sonucunu tahmin etmek isteyen Mehmet sayıları en yakın onluğa yuvarlayarak işlem yapmıştır. Buna göre $4766 - 524$ işleminin sonucunu tahmin eden Mehmet bu işlemin sonucunu kaç bulmuştur?

- A) 4242
 B) 4246
 C) 4250
 D) 4254

12.



Roman okumaya başlayan Eylül ilk gün 60 sayfa sonraki her gün bir önceki günden 15 sayfa daha fazla kitap okumaktadır. Buna göre Eylül 5. Gün kaç sayfa kitap okumuştur?

- A) 135
 B) 120
 C) 105
 D) 90

13. Bir yılda toplam 1028TL elektrik faturası ödeyen Arif Bey aylık elektrik faturasını tahmin etmek için sayıları en yakın onluğa yuvarlayarak işlem yapıyor. Buna göre Arif Bey hangi işlemi yapmalıdır?

- A) $1030 \div 10$ B) $1020 \div 10$
C) $1028 \div 10$ D) $1030 \div 12$

14. Atatürk Ortaokulu'ndaki kız öğrenci sayısı 354 tür. Erkek öğrenci sayısı ise kızların sayısının 268 fazlasının yarısına eşittir. Buna Atatürk Ortaokulu'nun toplam öğrenci sayısını bulalım?

- A) 268 B) 311
C) 354 D) 665

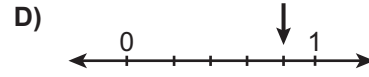
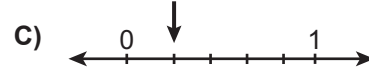

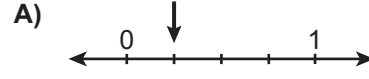
15.

$$\begin{array}{r} \triangle \\ \hline 12 \\ 5 \\ \hline \end{array}$$

Yukarıdaki bölme işleminde \triangle ifadesinin alabileceği en büyük değer kaçtır?

- A) 64 B) 69
C) 71 D) 72

16. Aşağıdakilerden hangisinde $\frac{1}{4}$ birim kesiri doğru gösterilmiştir?



$$\begin{array}{r} 4a16 \\ + 168b \\ \hline c103 \end{array}$$

Yukarıdaki toplama işleminde a, b ve c sayıları için, a+c-b değeri kaçtır?

- A) 3 B) 5
C) 9 D) 17


18.



Görseldeki tişörtün barkod numarasını okuyan görevli nasıl okumuştur?

- A) İki yüz altmış dokuz bin iki yüz on
B) Yirmi altı milyon dokuz yüz yirmi bir bin
C) İki yüz altmış dokuz bin iki yüz on
D) İki milyon altı yüz doksan iki bin yüz

19.



Mehmet amca tarlasına dikmek için 2415 domates fidanına ihtiyacı vardır. Bu fidanları 48 li fidan vıyolü ile tarlasına getirmek isteyen Mehmet amca en az kaç vıyole ihtiyaç duyar?

- A) 49
- B) 50
- C) 51
- D) 52

ISPARTA ÖLÇME DEĞERLENDİRME MERKEZİ

20. $a = \frac{3}{15}$, $b = \frac{21}{15}$, $c = \frac{7}{15}$

Yukarıda verilen bilgilere göre hangisi yanlıştır?

- A) $a < b$
- B) $b < c$
- C) $a < c$
- D) $a < c < b$

MATEMATİK TESTİ BİTTİ.
CEVAPLARINIZI KONTROL EDİNİZ.

1. Ben İrmak.Bu bayramı büyükanne ve büyükbambamla geçirmek için köyüme gittim.Bayramda köye gelen akrabalarım ile bayramlaşım, bayram harçlıklarını aldım. Gelen misafirlere büyükanne'nin yaptığı o nefis baklavadan ikram ettim.Bayramda en mutlu olduğum zaman ise uzun süre küs olan amcalarımın barışması oldu.

Bu metne göre İrmak hangi bayram anısını bizlere anlatmaktadır?

- A) Ramazan Bayramı
B) Nevruz Bayramı
C) Cumhuriyet Bayramı
D) Zafer Bayramı

2.

Yıkık temelleri gözükyor, uzakta bir ev
Yere doğru eğilmiş, hemen yıkılıp gidecek
Önünde bir kadın... Of artık istemem görmek!
Bu levha yüreğimin çarpması içinse yeter.
Tevfik Fikret

Tevfik Fikret'in bu şiirinde hangi doğal afetin etkisi anlatılmaktadır?

- A) Heyelan
B) Deprem
C) Sel
D) Çığ

3. 5.sınıf öğrencisi Ebru mahallesinde yeni açılan Gazi Ortaokulu'na gitmektedir. Ebru okulun açılmasıyla birlikte mahallesinde yeni kırtasiye, lokanta, market gibi iş yerlerinde açıldığını gözlemlemiştir.

Buna göre Ebru yeni okulun hangi alandaki etkisini fark etmiştir?

- A) Kültürel
B) Sağlık
C) Siyasi
D) Ekonomik

4.



Dede geçmişteki düğünler nasıldı?

Bizim zamanımızda düğünler evlerin önünde 2-3 gün yatılı yapıldı. Düğünlerde yöremizin oyunu olan zeybek oynanırdı. Şimdi bunların hiçbirini göremiyoruz.



Aytuğ dedesinin geçmişte yaşadıklarını merak etmiştir. Aytuğ ve dedesi arasında geçen bu diyaloga göre kültürel unsurlarla ilgili hangi yargıya ulaşabiliriz?

- A) Kültürel değişim
B) Kültürel devamlılık
C) Kültürel benzerlik
D) Kültürel etkileşim

ISPARTA ÖLÇME DEĞERLENDİRME MERKEZİ

5. Dik yamaçlarda bulunan toprağın veya kayaçların aşağıya doğru hareket ederek kaymasına heyelan denir.



Buna göre haritada gösterilen kaç numaralı alanda heyelan görülme riski daha fazladır?

- A) 1
B) 2
C) 3
D) 4

6.

Sanal dolandırıcıların "Efsane Cuma" oyunu

e-ticaret sitelerinden alışveriş yapan bazı tüke ticilerin, "Süper/Şahane/Efsane Cuma" olarak ifade edilen kampanya dönemlerinde daha da artan "indirim kuponu" ve bedava hediye çeki" vaatleriyle bazı özel bilgiler ile kredi kartı şifrelerini ele geçirebildiğini bildirdi.

Verilen bu internet haberinde olayın bizim başımıza gelmemesi için hangi önlemleri almamız gerekir?

- A) Kullandığımız şifrelerde ad-soyadımızı kullanmalıyız.
- B) Telefonla arayan kişilere kimlik bilgilerimizi doğru vermeliyiz.
- C) TC kimlik numaramızı herkesle paylaşmamalıyız.
- D) Kredi kartımızı kaybettiğimizde ilk önce yenisi çıkarmalıyız.

7.

Sanal ortam insanların hayatında önemli bir rol oynamaktadır. Sanal ortam üzerinden paylaşılan bilgiler doğru olabileceği gibi yanlış da olabilir.



Hatice Öğretmenin verdiği bu bilgilere göre güvenilir bilgiye ulaşırken hangi yöntemi kullanırsak hata yaparız?

- A) Elde edilen bilgilerin güncelliği kontrol edilmelidir.
- B) "http://" uzantılı siteler tercih edilmelidir.
- C) Farklı sitelerden yararlanılmalıdır.
- D) Elde edilen bilgilerin doğruluğu kitap ve ansiklopediden kontrol edilmelidir.

8.



Türkiye fiziki haritasına baktığımızda Marmara Bölgesinde yeşil rengin, yoğunlukta olduğunu görürüz.

Yalnız bu bilgilerden yola çıkarak hangi yargıya ulaşırız?

- A) Marmara Bölgesinde ormanlık alan fazladır.
- B) Marmara Bölgesinin yeryüzü şekilleri engebelidir.
- C) Marmara Bölgesinin yükseltisi azdır.
- D) Marmara Bölgesi yüzölçümü en az olan bölgedir.

- 9. Yasal veya toplumsal olarak bireylere tanınan yetki ve kazançlara hak denir. Öğrenci olarak bizler de birçok hakka sahibiz.

Haklardan hangisi okuldaki haklarımızdan biridir?

- A) Arkadaşlarımıza yardım etmek
- B) Barınmak
- C) Kütüphaneyi kullanmak
- D) Derse zamanında girmek

- 10. Anadolu ve Mezopotamya bölgelerinde kurulan uygarlıklar, edindikleri bilgiler ve yaptıkları faaliyetlerle insanlığa birçok katkıda bulunmuşlardır.

Buna göre medeniyet ve medeniyete ait bilgi eşleştirmelerinden hangisi yanlıştır?

- A) Hititler - Kadeş Antlaşması
- B) Frig - Tapates halı ve kilimleri
- C) Sümer- Çivi yazısı
- D) Asur- İlk yazılı Kanunlar

11.

Sağlık açısından zararlı olan gazların havadaki miktarının normalden fazla olmasına hava kirliliği denir. Hava kirliliği bitkilerin gelişimini olumsuz etkiler. İnsanlarda solunum yolları hastalıklarına, hayvanların yaşamlarını kaybetmelerine neden olabilir. Otomobillerin egzoz gazları, sanayi tesislerinin filtre edilmemiş bacalarından çıkan dumanlar, aşırı miktarda kullanılan deodorant ve spreyler hava kirliliğinin sebeplerinden bazılarıdır.

Hava kirliliği ile ilgili verilen bu parçaya en uygun başlık hangisidir?

- A) Hava Kirliliğinin Nedenleri
- B) Hava Kirliliğinin Sonuçları
- C) Hava Kirliliğinin Çok Boyutluluğu
- D) Hava Kirliliğine Karşı Alınacak Önlemler

12. Tarihi varlık: Geçmişte yaşamış insan topluluklarından günümüze kalan yapı veya alanlara denir
Doğal varlık: Doğada insan eli değmeden oluşan güzelliklere doğal varlık denir.

Yapılan açıklamalardan hareketle hangisi diğerlerinden farklıdır?

- A) Aspendos Tiyatrosu
- B) Yazılı Kanyon
- C) Eğirdir Gölü
- D) Düden Şelalesi

13. Geniş bir bölgede, uzun yıllar boyunca görülen hava olaylarının ortalamasına iklim denir. İklim insan yaşamını ve günlük faaliyetlerimizi farklı şekillerde etkiler.

Buna göre verilen bilgilerden hangisinde iklimin etkisinden bahsedilemez?

- A) Ulaşım
- B) Giyinme
- C) Konut tipi
- D) Maden çeşitliliği

14.

I.
Kişisel kimliğime ilişkin çıkarımda bulunmak

II.
Okulumun krokisini çizebilmek.



III
Görev ve sorumluluklarımızı ertelemek.

IV
Duyu organlarımızı söyleyebilmek.

5.Sınıf öğrencisi Birsen'in hangi ifadeleri Sosyal Bilgiler dersinin kendi gelişimine katkısı açısından doğrudur?

- A) I-II
- B) II-III
- C) III-IV
- D) I-IV

ISPARTA ÖLÇME DEĞERLENDİRME MERKEZİ

15. Sınırları belli bir alanda yaşayan insan sayısına nüfus denir. Nüfusun dağılışını etkileyen faktörler ise doğal ve beşeri olmak üzere ikiye ayrılır.

Bu bilgiler doğrultusunda nüfusun dağılışını etkileyen faktörlerden hangisi diğerlerinden farklıdır?

- A) İklim
- B) Yeryüzü şekilleri
- C) Sanayi
- D) Bitki örtüsü

16. Edison bütün olumsuzluklara ve başarısızlıklara rağmen çalışmalarına azimle devam etmiştir. Yapmış olduğu birçok deneyde başarısız olmuş buna rağmen "Başarısız olduğum 999 deneyden sonra 1000.' de başardım" demiştir.

Buna göre;





- I. Zeki
- II. Sabırlı
- III. Çalışkan
- IV. Kararlı

Verilen metinde bilim insanlarının hangi özelliklerinden bahsedilmiştir?

- A) I, II ve III
- B) II, III ve IV
- C) I, III ve IV
- D) III ve IV

17. Türk mutfağı bölgeden bölgeye çeşitlilik gösterdiği için dünyanın en zengin mutfaklarından biridir. Bu çeşitliliğin nedeni bölgelerin özelliklerine bağlıdır. Örneğin ülkemizde zeytin, Ege ve Akdeniz kıyılarında bolca yetiştirilir. Bu yerlerde sebze yemekleri genellikle zeytinyağı kullanılarak yapılır. Zeytinyağlı börülce, zeytinyağlı enginar, zeytinyağlı dolma sıkça yapılan yemeklerdir.

Bu bilgilerden yola çıkarak Karadeniz Bölgesinin özelliğini dikkate aldığımızda bu bölgede hangi yemek yapılır?

- A)  Baklava
- B)  Cağ Kebabı
- C)  Yaprak Sarma
- D)  Hamsili Pilav

18. Bir çizimin harita olabilmesi için gerekli bazı şartlar vardır.

- I. Kuşbakışı görünüşe göre çizilmesi
- II. Bir düzlem üzerine aktarılması
- III. Belirli bir ölçeğe göre çizilmesi
- IV. Renklendirme yapılması

Verilen bilgilerden hangisi veya hangileri haritada bulunması gereken özelliklerdendir?

- A) I, II ve III
B) I, II ve IV
C) I ve IV
D) I ve III

19. Aşağıda verilen halk oyunları ile oynandığı bölge eşleştirmelerinden hangisi doğrudur?

	<u>Halk Oyunu</u>	<u>Oynandığı Bölge</u>
A)	Horon	Marmara
B)	Bar	Ege
C)	Zeybek	Karadeniz
D)	Çayda çıra	Doğu Anadolu

20. Karasal iklimin hakim olduğu bir bölgede hangi turizm faaliyeti daha çok görülür?

- A) Kış turizmi
B) Yaz turizmi
C) Yayla turizmi
D) Kültür turizmi

SINAV BAŞLAMADAN AŞAĞIDAKİ UYARILARI MUTLAKA OKUYUNUZ!

1. Öğrenciler, sınav kurallarına ve salon görevlilerinin tüm uyarılarına uymak zorundadırlar.
2. Cevap kâğıdındaki isminizin doğruluğunu kontrol ediniz. Bilgiler size ait değilse veya cevap kâğıdı kullanılmayacak durumdaysa sınav görevlilerine bildirin.
3. Sınav başladıktan sonra öğrencilerin salon görevlileri ve birbirleri ile konuşmaları, kalem, silgi vb. şeyleri istemeleri yasaktır.
4. Değiştirmek istediğiniz bir cevabı, yumuşak silgiyle cevap kâğıdını yıpratmadan temizce siliniz ve yeni cevabınızı kodlayınız.
5. Cevaplarınızı, cevap kâğıdındaki ilgili soru numarasını dikkate alarak yuvarlağın dışına taşırmadan kodlayınız.
6. Soru kitapçığının sayfalarını kontrol ediniz, baskı hatası var ise değiştirilmesini sağlayınız.
7. Soru kitapçığı üzerinde yapılmış cevap kâğıdına işaretlenmeyen cevaplar değerlendirmeye alınmayacaktır.
8. Soru kitapçığının içindeki boş alanları çözümlerinizi için kullanabilirsiniz.
9. Cevaplamaya istediğiniz sorudan başlayabilirsiniz.
10. Cevabını bilmediğiniz sorular üzerinde fazla zaman kaybetmeden diğer sorulara geçiniz. Zamanınız kalırsa bu sorulara daha sonra dönebilirsiniz.
11. Sınav puanınızın hesaplanmasında sadece doğru cevaplarınız dikkate alınacaktır.
12. Sınav bitiminde, cevap kâğıdını salon görevlilerine teslim ediniz.
13. Sınav sırasında sözlük, hesap makinesi, saat fonksiyonu dışında özellikleri bulunan saat veya çağrı cihazı, cep telefonu, telsiz, radyo ve bilgisayar özelliği bulunan elektronik cihazları yanınızda bulundurmuyunuz.
14. Cevap kâğıdınızı sınav süresince hiçbir öğrencinin göremeyeceği şekilde önünüzde bulundurunuz.
15. Sınav süresince zorunlu haller hariç sınav salonu dışına çıkılmayacaktır.

SINAV GÖREVLİLERİNCE SINAV BAŞLAMADAN ÖNCE ÖĞRENCİLERE YAPILACAK SON UYARI

- Soracağınız bir şey var mı? Varsa, şimdi sorunuz.
- Sınav başladıktan sonra sorularınıza cevap verilmeyecektir.
- Başlama zilini bekleyiniz.

Hepinize Başarılar Dileriz.

Bu sınav, Isparta Milli Eğitim Müdürlüğü, Ölçme ve Değerlendirme Merkezince uygulanmaktadır.

Bu kitapçığın her hakkı saklıdır.

Hangi amaçla olursa olsun, kitapçığın tamamının veya bir kısmının Isparta İl Millî Eğitim Müdürlüğünün yazılı izni olmadan kopya edilmesi, fotoğraflarının çekilmesi, bilgisayar ortamına alınması, herhangi bir yolla çoğaltılması, yayımlanması veya başka bir amaçla kullanılması yasaktır. Bu yasağa uymayanlar, doğabilecek cezai sorumluluğu ve kitapçığın hazırlanmasındaki mali külfeti peşinen kabullenmiş sayılır.

ISPARTA ÖLÇME DEĞERLENDİRME MERKEZİ

<http://ispartaodm.meb.gov.tr>

(246) 280 32 55

odm32@meb.gov.tr