



A
KİTAPÇIĞI



İSPARTA MİLLİ EĞİTİM MÜDÜRLÜĞÜ
Ölçme Değerlendirme Merkezi

İngilizce

Fen Bilimleri

Din Kültürü ve
Ahlak Bilgisi

5
sınıf

2. OTURUMU

DESTEKLEME VE YETİŞTİRME KURSLARI
DÖNEM SONU KAZANIM
DEĞERLENDİRME SINAVI

Adı ve Soyadı :

Sınıfı / Şubesi :

Okulu :

Kitapçık Türü ve Oturum Bilgilerini Optik Forma Kodlamayı Unutmayınız

ÖĞRENCİLERİN DİKKATİNE

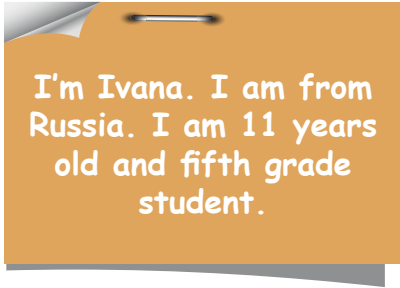
- Cevap kâğıdının kendinize ait olup olmadığını kontrol ediniz.
- Kitapçık türünü cevap kâğıdındaki ilgili alana kodlayınız.
- Cevap kâğıdı üzerindeki kodlamaları kurşun kalemle yapınız.

Soru Sayısı : 60

Sınav Süresi : 100 dakika

SINAV BAŞLAMADAN ÖNCE KİTAPÇIĞIN ARKA KAPAĞINDAKİ UYARILARI MUTLAKA OKUYUNUZ.

1. Read the text and fill in the chart.



Name	Age	Nationality
.....

- A) Ivana Eleven Russian
 B) Ivana Ten Russia
 C) Ivana Russian Ten
 D) Russian Eleven Ivana

2. Circle the correct answer.



We need a _____ to play _____.

- A) blind man's buff B) yoyo
 C) keepy uppy D) hopscotch

3. Look at the picture and answer the question.



Where are they?

- A) They are at the hospital.
 B) They are at the library.
 C) They are at the playground.
 D) They are at the toy shop.

Look at Ahmet's timetable and answer 4th and 5th questions.

Ahmet's Timetable				
Monday	Tuesday	Wednesday	Thursday	Friday
English	Turkish	Social Studies	Science	Maths
English	Turkish	Social Studies	Science	Maths
Social Studies	Turkish	Maths	English	Turkish
Social Studies	Science	Maths	English	Turkish
Science	I.T.	P.E.	Music	Art
Science	I.T.	P.E.	Music	Art

4. Ahmet likes doing sports. What is Ahmet's favorite day?

- A) Wednesday
 B) Thursday
 C) Friday
 D) Monday

5. When does he have Social Studies?





- A) On Mondays and Tuesdays
 B) On Tuesdays and Wednesdays
 C) On Mondays and Wednesdays
 D) On Tuesdays and Fridays

6. Put the sentences in the correct order and make a dialogue.

- The cinema?
- You are welcome.
- Excuse me! How can I go to the cinema?
- Yes, the cinema.
- Well, go straight ahead. Turn left into Yellow Street. It's on your right, opposite the cafe.
- Thank you.

- A) 3-4-1-5-2-6
 B) 3-5-1-4-6-2
 C) 3-6-2-1-4-5
 D) 3-1-4-5-6-2

7. Look at the table and choose the correct answer.

	Jack	Jane
Can		
Can't		

Jack can _____. Jane can't _____.

- A) play checkers / swim
- B) play chess / do origami
- C) swim / play chess
- D) do origami / play checkers

8. Read the dialogue. Circle the correct answer.



Irmak: I am Irmak. What is your name?
Eser : My name is Eser. How are you?
Irmak: Fine thanks and you?
Eser : Fine, thanks _____ ?
Irmak: At Cumhuriyet Secondary School and you?
Eser : At Cengiz Topel Secondary School.
Irmak: Nice to meet you.
Eser : Me, too.

- A) Where are you from?
- B) How old are you?
- C) Where do you study?
- D) What is your favorite class?

Read the passage and answer the questions 9 and 10.

Hello! My name is Enes. I am from Turkey. I am eleven and fifth grade student at Gazi Secondary School. I speak Turkish, English and French. I like Maths, Science and Music. My favourite day is Monday because my favorite classes are on Mondays. I can play the piano, but I can't draw picture. I play chess with my brother at home. Our home is near the library. At the weekends, we go to the library. I love my family and friends.

9. How many languages does Enes speak?

- A) One
- B) Two
- C) Three
- D) Four

10. Can his brother play chess?

- A) Yes, he can play checkers.
- B) No, he can't.
- C) Yes, he speaks English.
- D) Yes, he can.

11. Look at the picture and circle the correct answer.



Linda likes drawing colourful pictures. Her favourite class is _____.

- A) P.E
- B) Art
- C) History
- D) English

12. Read the dialogue and answer the question.



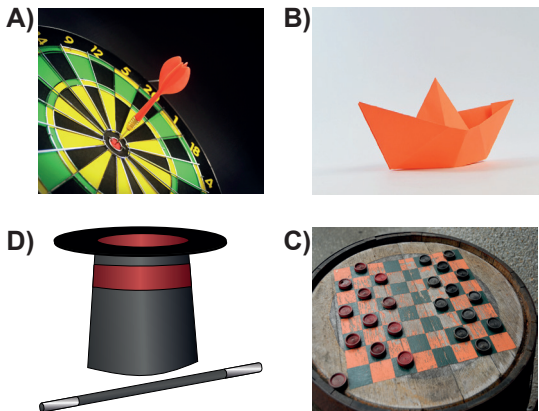
Where is HE from?

- A) He is from Spain.
- B) He is from India.
- C) He is French.
- D) He is Indian.

Read the dialogue and answer the 13th and 14th questions.

Joe: I like sculpting. Can you do sculpting?
Tim: No, I can't. I can do origami. Do you like origami?
Joe: No, I don't. Do you like doing magic?
Tim: No, I hate it. Can you play checkers?
Joe: Well, I can't.
Tim: What is your favourite activity?
Joe: I like playing dart. Do you like playing dart?
Tim: Yes, I like it.

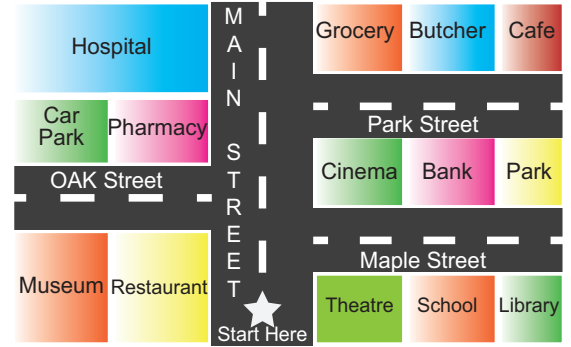
13. What is Joe's favourite activity?



14. Which activity can Tim do?

- A) He can do magic.
- B) He can play tic-tac-toe.
- C) He can do sculpting.
- D) He can do origami.

Look at the map and answer the 15th and 16th questions.



15. Look at the map and fill in the gap.

Elsie: Excuse me! How can I get to the _____?
 Brad: Well, go straight ahead. Turn right into Park Street. It's on your left between the grocery and cafe.
 Elsie: Thank you.
 Brad: You are welcome.

- A) restaurant
- B) butcher
- C) theatre
- D) library

ISPARTA ÖLÇME DEĞERLENDİRME MERKEZİ

16. Look at the map and fill in the gap.

Adam: Excuse me! Where is the car park?
 Hugh: The car park?
 Adam: Yes.
 Hugh: Go straight ahead. _____ into the Oak Street. It is on your right next to the pharmacy.
 Adam: Thanks.
 Hugh: You're welcome.

- A) Turn right.
- B) It is on the left.
- C) Turn left.
- D) It is on the right.

17. Read the text. Circle the correct answer.

Can lives in Turkey. He enjoys doing puzzles with his brother. He doesn't like singing songs or dancing. He hates rollerblading.

What is Can's hobby?

A)



B)



C)



D)



18. Look at the picture and circle the correct answer.



I like outdoor games.
My favourite activity is

- A) singing a song
B) playing tic-tac-toe
C) playing blind man's buff
D) skipping a rope

19. This is George's timetable for Friday. Which class is NOT on Friday?

FRIDAY



- A) Social Sciences
B) Music
C) Drama
D) Information Technology

20. Look at the picture and choose the correct option to complete the dialogue.



Paul: Where is the cafe?

Kate: _____.

Paul: Thank you.

- A) The fire station is next to the market.
B) The cafe is opposite the market.
C) The cafe is between the market and fire station.
D) The school is behind the fire station.

İNGİLİZCE TESTİ BİTTİ.
CEVAPLARINIZI KONTROL EDİNİZ.

1. Kodlama oyunu oynayan Gökay, oyundaki köpeğin sorularına cevap vererek köpeği belirtilen konuma götürmeye çalışmaktadır. Oyun başlangıcında köpek, başlangıç noktasından ok yönünde ilerlemeye başlayacaktır. Oyun panosundaki her bir kare, bir adımı temsil etmektedir.



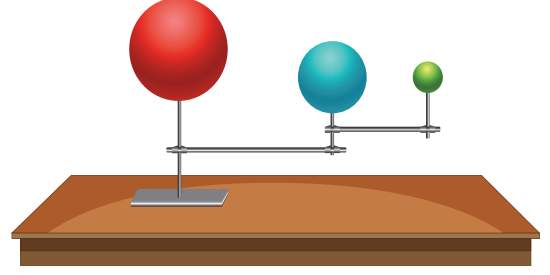
Gökay oyunu başarıyla tamamlamak için aşağıdaki kod bloklarından hangisini kullanmalıdır?

- A) **Başladığında**
3 adım git
Yönüne Dön
1 adım git
- B) **Başladığında**
5 adım git
Yönüne Dön
1 adım git
- C) **Başladığında**
3 adım git
Yönüne Dön
3 adım git
- D) **Başladığında**
1 adım git
Yönüne Dön
1 adım git

2. Ay'ın Dünya'dan bakıldığında hep aynı yüzünün görülmesinin sebebi aşağıdakilerden hangisidir?

- A) Ay'ın Dünya etrafındaki dolanma süresi ile Güneş etrafındaki dolanma süresinin eşit olması.
B) Dünyanın, Ay ile beraber Güneş'in etrafında dolanıyor olması.
C) Ay'ın kendi etrafındaki dönme hareketi ile Dünya etrafındaki dolanma hareketinin eşit sürede tamamlanması.
D) Bir yüzünün hiç güneş ışığı almıyor olması.

3. Tolga Fen Bilimleri Dersi için görseldeki modeli tasarlamıştır.



Tasarladığı modelde küreleri birbirine bağlayan çubukların bağlantı noktaları dönebilmektedir. Ancak çubukların üzerine yerleştirilen küreler hareket etmemektedir.

Tolga hazırladığı bu model ile;

- I. Ay'ın yaptığı tüm hareketleri
II. Ay'ın evreleri sırasında bulunacağı konumları
III. Dünya'nın dolanma hareketini
verilen hareketlerden hangilerini gösterebilir?

- A) Yalnız I
B) Yalnız II
C) II ve III
D) I, II ve III

4. Aşağıda gök cisimlerine ait bazı özellikler verilmiştir.

- I. Küresel bir şekle sahip olma.
II. Isı ve ışık kaynağı olma.
III. Katmanlı yapıya sahip olma.
IV. Dönme hareketini saat yönünün tersine yapma.

İfadelerden hangileri Dünya ve Güneş için ortaktır?







- A) I, II ve IV
B) I, III ve IV
C) I, II ve III
D) II, III ve IV

5. Ay'ın Dünya'yla karşılaştırıldığında çok ince bir atmosferi vardır.

Aşağıda verilen olaylardan hangisinde bu durumun etkisi yoktur?

- A) Yüzeyinde krater adı verilen çukurlar bulunması.
B) Gece – gündüz arasındaki sıcaklık farkının çok olması.
C) Hava olaylarının olmaması.
D) Dünya'dan sadece tek yüzünün görülebilmesi.

6. Merve tabloda verilen nesnelerin şekil ve büyüklüklerini de göz önünde bulundurarak Güneş ve Dünya modeli oluşturacaktır.

		
Salatalık	Basketbol Topu	Çilek
		
Tenis Topu	Biber	Futbol Topu

Buna göre hangi seçenekte tasarladığı model doğru olur?

- A) Güneş modeli için tenis topunu seçerse ,Dünya modeli için çileği seçmelidir.
 B) Dünya modeli için çileği seçerse ,Güneş modeli için salatalığı seçmelidir.
 C) Dünya modeli için tenis topunu seçerse ,Güneş modeli için futbol topunu seçmelidir.
 D) Güneş modeli için biberi seçerse,Dünya modeli için basketbol topunu seçmelidir.
7. Aşağıda Ay'ın hareketleriyle ilgili bazı bilgiler verilmiştir.
- ☒ Dünya ile beraber Güneş etrafında dolanması.
 - ☒ Dünya'nın etrafında dolanması
 - ☒ Kendi etrafında dönmesi
 - ☒ Ay'ın bir ana evresinin tamamlanması

Verilen hareketler hangi seçenekteki zaman dilimini oluşturmaz?

- A) 1 ay
 B) 1 gün
 C) 1 hafta
 D) 1 yıl
8. Tabloda bazı gök cisimlerine ait özellikler sembollerle gösterilmiştir.

	GÜNEŞ	DÜNYA	AY
Küresel şekle sahip olma	✓	✓	✓
Isı ve ışık kaynağı olma	✓	✗	✗

Buna göre hangi seçenekte verilen ifade yanlıştır?

- A) Dünya, Güneş ve Ay küresel şekle sahiptir.
 B) Güneş ısı ve ışık kaynağıdır.
 C) Dünya ışık kaynağı değildir.
 D) Ay ışık kaynağıdır.


9. Aşağıda mantarlarla ilgili bir "Doğru-Yanlış" etkinliği verilmiştir.



İfadelerin doğru veya yanlış olduğuna karar verilerek ilerlendiğinde hangi çıkışa ulaşılır?

- A) 1. çıkış
 B) 2. çıkış
 C) 3. çıkış
 D) 4. çıkış
10. "Bu grupta yer alan canlılar, çıplak gözle görülemezken yalnızca mikroskop yardımıyla görülebilirler."
 Açıklamada belirtilen canlı grubuyla ilgili aşağıda verilen ifadelerden hangisi yanlıştır?
- A) Sınırlı yaşam alanları vardır, sadece kara ortamında yaşayabilirler.
 B) Bazıları insanlar için zararlı olabilir.
 C) Bakteriler bu grupta yer alan canlılara örnek olarak verilebilir.
 D) Bu grupta yer alan canlılar boşaltım ve solunum yaparlar.

11. Ay'ın evrelerini gösteren şekil aşağıda verilmiştir.



Buna göre Ay'ın Güneş'e en yakın ve en uzak olduğu konumlarda bulunduğu evreler hangi seçenekte verilmiştir?

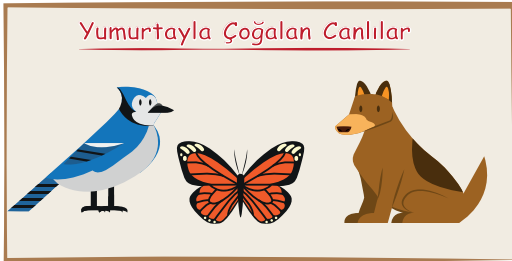
- | | En Yakın | En Uzak |
|----|------------|------------|
| A) | İlk Dördün | Son Dördün |
| B) | Yeni Ay | Dolunay |
| C) | Son Dördün | İlk Dördün |
| D) | Yeni Ay | Son Dördün |

12. Aşağıda Ali ve Aslı arasındaki yazışmalar görülmektedir. Ali fotoğrafını bulduğu bir canlının özellikleri hakkında Aslı'ya fikirlerini sormuştur.



Aslı, Ali'yle yaptığı bu yazışmada, aşağıdaki özelliklerden hangisini yazarsa **yanlış** bilgi vermiş olur?

- A) Yumurta ile çoğalır.
B) Yavrularını süt ile besler.
C) Akciğer solunumu yapar.
D) Vücudu kıllarla kaplıdır.
13. Umay şekildedeki posterde bazı hayvanlara ait resimlere yer vermiş ve posterine görseldeki başlığı atmıştır.

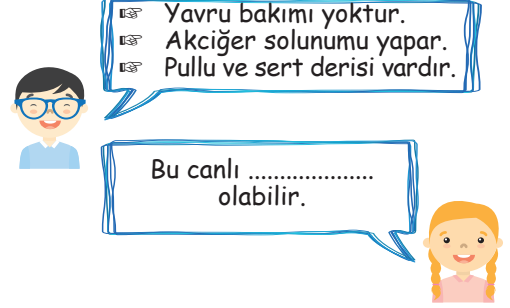


Öğretmeni Umay'ın posterini incelediğinde, posterinde hata yaptığını söylemiştir.

Buna göre posterdeki hata hangi seçenekteki uygulamayla düzeltilebilir?

- A) Kelebek yerine kurbağa konulmalıdır.
B) Köpek yerine yılan konulmalıdır.
C) Kuş yerine kedi konulmalıdır.
D) Köpek yerine kedi konulmalıdır.

14. Ali ve Buse "Canlıları Tanıyalım" oyunu oynuyorlar. Ali bir canlının üç özelliğini söylüyor, Buse ise bu canlının hangi canlı olabileceğini tahmin etmeye çalışıyor. Oyun sırasında ikili arasında geçen bir diyalog aşağıdaki gibidir.



Verilen diyalogta Buse Ali'nin sorusuna doğru cevap verdiği göre, Buse'nin cevabı hangi seçenekteki canlı olabilir?

- A) Yılan
B) Alabalık
C) Kurbağa
D) Yunus

15. Görseldeki tahtada bazı hayvan isimleri yazmaktadır.



Tahtada yazan hayvanlardan kaç tanesi omurgasız hayvanlar sınıfında yer alır?

- A) 3
B) 4
C) 5
D) 6

16. Fatih, duran bir futbol topuna kuvvet uygulayarak bir etkinlik yapmış ve top ile kalenin ağlarını şekildedeki gibi hareketlendirmiştir.



Buna göre Fatih yaptığı etkinlikte top üzerinde uyguladığı kuvvetin hangi etkisini gözlemleyebilir?

- A) Hareket yönünü değiştirme
B) Harekete geçirme
C) Yavaşlatma
D) Durdurma

17. Yağmurlu bir günde okuluna giden Ecrin görselde verilmiştir.



Ecrin elindeki şemsiyeye uyguladığı kuvveti ve yağmur damlalarının yere düşmesini sağlayan kuvveti temas gerektiren ve temas gerektirmeyen kuvvetler olarak gruplandıracaktır.

Buna göre hangi seçenekte verilen eşleştirmeyi yapmalıdır?

- A)

Temas Gerektiren	Yağmur damlalarına etki eden kuvvet
Temas Gerektirmeyen	Şemsiyeye uyguladığı kuvvet
- B)

Temas Gerektiren	Yağmur damlalarına etki eden kuvvet
Temas Gerektirmeyen	Şemsiyeye uyguladığı kuvvet
- C)

Temas Gerektiren	Yağmur damlalarına etki eden kuvvet
Temas Gerektirmeyen	Şemsiyeye uyguladığı kuvvet
- D)

Temas Gerektiren	Yağmur damlalarına etki eden kuvvet
Temas Gerektirmeyen	Şemsiyeye uyguladığı kuvvet

18. Dinamometre modeli yapmak isteyen Buse, cismi asarak, kuvveti ölçmesini sağlayacak kısmı, hangi maddeden yapması gerektiğine bir türlü karar vermiyor.

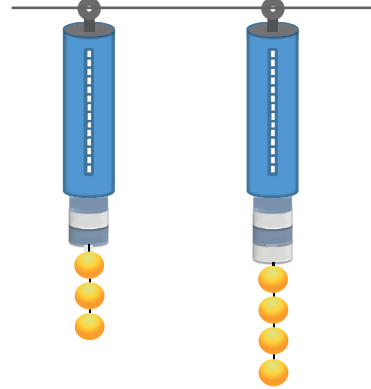
Buse;

- I. Çelik yay
II. Paket lastiği
III. Çamaşır ipi

verilen malzemelerden hangilerini parçada bahsedilen amaç için kullanabilir?

- A) Yalnız I
B) I ve II
C) II ve III
D) I, II ve III

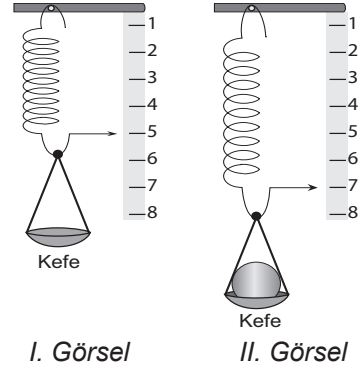
19. Mete, şekildeki özdeş dinamometrelere özdeş cisimlerden farklı sayıda takarak dinamometrelerde meydana gelen uzama miktarlarını gözlemlemiştir.



Buna göre Mete'nin dinamometrede 6 birim uzama meydana getirebilmesi için özdeş cisimlerden toplam kaç tane takması gerekir?

- A) 2
B) 4
C) 6
D) 8

20. Görselde Ahmet'in tasarladığı bir dinamometre modeli görülmektedir. Dinamometre modeli kefesinde herhangi bir yük yokken I. görseldeki gibi durmaktadır. 4 Newton'luk kuvvet uygulayan cisim kefeye konulduğunda dinamometrenin yayı II. görseldeki gibi uzamıştır.



I. Görsel

II. Görsel

Buna göre Ahmet'in yaptığı etkinlikle ilgili aşağıda verilen ifadelerden hangisi doğrudur?

- A) Asılan cismin uyguladığı kuvvet dinamometre modelindeki yayın 7 birim uzamasına sebep olmuştur.
B) Dinamometre modelindeki yaya bağlı okun 8 değerini göstermesi için 16 newtonluk kuvvet uygulanması gerekir.
C) Dinamometre modeline 6 newtonluk bir cisim asılırsa kullanılan yay 6 birim uzar.
D) Dinamometre modelindeki yayı 1 birim uzatmak için 2 newtonluk kuvvet uygulamak gerekir.

FEN BİLİMLERİ TESTİ BİTTİ.
CEVAPLARINIZI KONTROL EDİNİZ.

1. Zeynep'in maddi durumu yerinde olan babaannesesi Ayşe hanım şeker hastası olduğu için ramazan ayında oruç tutamamaktaydı. Çünkü Ayşe hanımın sağlığı için doktor oruç tutmaması gerektiğini tavsiye etmişti. İslam dininin kolaylık dini olduğunu bilen ve oruç tutacak kişinin öncelikle sağlıklı olması gerektiğini bilen Zeynep, babaannesesi Ayşe hanıma gözleri parlayarak şu tavsiyede bulundu;

"Babaanneciğim oruç tutamadığın için hiç üzülme
.....!"

Zeynep babaannesesi Ayşe hanıma ne söylerse doğru tavsiyede bulunmuş olur?

- A) Tutamadığın günleri kaza edersin!
B) Tutamadığın günler sayısınca Fidye verirsin!
C) Oruç tutmak zorunda değilsin!
D) Doktorun tavsiyesini dinlemek zorunda değilsin!

2. Ramazan ayının sonuna sağlıklı erişen her ailenin büyüğü bu ibadeti bayram öncesinde yerine getirir. Ailede bulunan kişi sayısınca verilen bu sadaka vacip olan ibadetler arasındadır. Ramazanda sağlıklı tutulan oruçlara bir teşekkür borcudur. Boynu bükük yoksulun bayramlık ihtiyacıdır aslında bu ibadet.

Ramazan ayında yapılan bu yardıma ne ad verilir?

- A) Sadaka-i Cariye
B) Zekat
C) Sadaka-i Fıtır (Fitre)
D) Fidye

3. De ki; O Allah'tır, tektir. (1)
Allah Sameddir. (2)
Doğurmamış ve doğmamıştır (3)
O'nun hiç bir dengi yoktur. (4)

İhlas Sûresinin meâlinin verildiği metinden hangisine ulaşılabilir?

- A) Allah'ın birliğine
B) Allah'ın eşi ve benzerinin olmadığına
C) Çocuklarının, anne ve babasının olmadığına
D) Varlığının kendinden olduğuna

4. Ramazan gelince kapılar herkese aralanır, zengin-fakir demeden herkesin sofrası misafir denilen bereket elçilerine açık tutulurdu. Misafir ağırlamanın çeşitli yöntemlerinden birisi de bugün artık unutulmaya yüz tutan bir gelenek olan dış kirasıdır. Dış kirasında, misafirler ayrılırken onlara küçük kadife keseler içinde hediyeler takdim edilirdi. Ev sahibi bununla; 'Misafirim oldunuz, benim sevap kazanmam için siz eziyet çektiniz, dışlerinizi yordunuz, bu da sizin dışınızın kirası olsun.' demek isterdi. Misafirler iftarını yapıp teravihe gitmek üzereyken ev sahibi tarafından kadife keseler içerisinde gümüş tabaklar, kehribar tesbihler, gümüş yüzükler, gümüş, akçe veya altın paralar bir kadife kese içerisinde dış kirası olarak verilirdi. Eski zamanlarda daha yaygın olan bu gelenek; mü'minler arasında sevgi, saygı dayanışma gibi duyguları güçlendirmekteydi.

Metinde verilen bilgilerden yola çıkılarak âyet meâllerinden hangisi ile doğrudan ilişki kurulabilir?

- A) O kimseler ki, gayba inanırlar, namazı gereği gibi kılarlar ve kendilerine verdiğimiz rızıklardan infak ederler (başkalarına verir ve yedirirler)... (Bakara, 2/35)
B) Onların mallarında isteyen ve (iffetinden dolayı durumunu açıklamayan) yoksulun bir hakkı vardır. (Zariyât, 51/19)
C) İyilik ve (Allah'ın yasaklarından) sakınma üzerinde yardımlaşın, günah ve düşmanlık üzerine yardımlaşmayın Allah'tan korkun; çünkü Allah'ın cezası çetindir. (Maide süresi 2)
D) Bütün mü'minler kardeştir. (Hucurat Suresi / 10)

5. Duâya hamd ve şükür ile başlamalıyız. Dua içerisinde Allah'ın (c.c.) güzel isimlerini anmalı ve Hz. Peygambere salavat getirmeliyiz. Bir iyilik isterken sadece kendimiz için değil ailemiz, arkadaşlarımız, sevdiğimiz ve tüm Müslümanlar için de istemeliyiz. Dualarımızda vatanımızı, milletimizi, şehitlerimizi ve mazlumları unutmamalıyız.

Duâ ile ilgili verilen bilgiler şıklarda yer alan sorulardan hangisinin en kapsamlı cevabıdır?

- A) Ne zaman ve nerede dua edilmelidir?
B) Duaya başlarken ne söylenmelidir?
C) Dua ederken nelere dikkat edilmelidir?
D) Duanın tanımı nedir?

6. Allah'ın iştirmediği hiçbir şey yoktur. Yüce Allah her şeyi yarattığı gibi evrende var olan tüm sesleri de iştir.

Yukarıda Allah'ın hangi sıfatına vurgu yapılmaktadır?

- A) Sem'i
B) Basar
C) İlim
D) Kudret
7. Öğle arası okul kantininden yiyeceklerini alan Sümeyye sınıfta tek başınaydı. Yerde duran bir miktar paraya gözü ilişti. Kantinden aldığı yiyeceklere yetecek kadar paraydı. Ne de güzel olurdu o para kendinin olsaydı. Ama belli ki bir arkadaşı düşürmüştü o parayı. Sümeyye sevinirken parayı kaybeden arkadaşı üzülecekti. Sonra içinden bir ses; Kim görecektir ki senin parayı aldığını dedi... Az önce işledikleri ders aklına geldi, her şeyi gören duyan bilen bir yaratıcı var. Yerdeki parayı alarak doğruca okul idaresinin yolunu tuttu. İçeride huzur ve mutlulukla doluydu.

Metinden hareketle Sümeyye'yi yerde duran parayı almaktan alıkoyan nedir?

- A) Okul koridorunda bulunan kameranın kendisini de çekebileceğini düşünmesi
B) Birilerinin parayı aldığını görebileceğini düşünmesi
C) Arkadaşının haline acıması
D) Her şeyi gören işiten ve bilen Allah'ın kendisini de gördüğünü bilmesi
8. Ramazan gelince her evde her mahallede iftar sofraları kurulur, camiler mahya adı verilen ışıklandırılmalarla süslenir. Ülkenin dört bir yanında fırınlarda sadece Ramazan ayına has Ramazan pideleri pişer. Birlik beraberlik içinde İftar sofralarında oruç açılır camilere koşular. Teravih namazı kılınınca sahurun esintisi duyulmaya başlanır. Ramazan davulcusu Ramazan manileri söyleyerek geçer mahalle aralarından.

Metinde Ramazan Orucunun hangi yönü vurgulanmıştır?

- A) Kültürümüzde ayrı bir yeri ve önemini olduğuna
B) Ramazan orucunun ülkemizde tutulma şekline
C) Bu ayda yapılan ibadetlere
D) Yemek ve davet çeşitlerine

9. Güneş ve ay bir hesaba göre hareket etmektedir. (Rahman suresi, 5. ayet)
O, yedi göğü tabaka tabaka yaratandır. Rahman'ın yaratmasında hiçbir uyumsuzluk göremezsin. (Mülk suresi, 3. ayet)
O, geceyi, gündüzü, güneşi ve ayı yaratandır. Her biri belirli bir yörüngede yüzmektedir. (Enbiya suresi, 33. ayet)

Âyetlerde verilen bilgiler hangisiyle ilgilidir?

- A) Evrendeki düzen
B) Evrendeki kötülük
C) Evrendeki bozukluk
D) Evrendeki kavga
10. O, yaratan, yoktan var eden, şekil veren Allah'tır. Güzel isimler O'nundur. Göklerdeki ve yerdeki her şey O'nu tesbih eder. O, mutlak güç sahibidir, hüküm ve hikmet sahibidir. Haşr Sûresi 24. Ayet'in meâlini okuyan İzgisu evrendeki eşsiz sanatı düşündü. Hiç bir şeyin kendi kendine var olamayacağından hareketle nice eşsiz varlığın bir düzen içerisinde hareket ettiklerini, tüm bunların kendilerinden olamayacağını iyice anladı.

Metinden hareketle İzgisu'ya öğretmeni hangi araştırma ödevini vermiş olabilir?

- A) Evrendeki düzeni kim sağlıyor?
B) Evrende tesadüfe yer var mıdır?
C) Evrende birden fazla yaratıcı olması mümkün müdür?
D) Her şeyin yaratıcısı ve düzen sağlayıcı kimdir?
11. Ramazan ayında aniden rahatsızlanan Ahmet hastaneye gidince kendisine serum takıldı. Bu duruma çok üzülen Ahmet orucunun bozulduğunu ve artık telafisinin olmayacağını düşünerek yattığı yerde hayıflanıyordu. Bunu duyan hastanenin din görevlisi kendisine üzülmemesi gerektiğini söyledi. Bir özre bağlı olarak bozulan orucun yerine daha sonra oruç tutulabileceğini ifade ederek onu sakinleştirdi. Bunu duyan Ahmet derin bir nefes alarak uykuya daldı.

Buna göre Ramazan ayında bir özre bağlı olarak oruç tutamayan kişilerin daha sonra tutamadığı gün sayısınca telafi etmesine ne denir?

- A) Sahur
B) Kaza
C) Kefaret
D) Fidye

12. Teknoloji hayatımızın her alanında yerini almıştır. Hayatımızın bir gerçeği olan teknolojiyi kullanırken de nezaket kurallarına uymalıyız. İnternette yayınladığımız her bilgi, belge ve fotoğrafa başkalarının rahatça ulaşabileceğini, kişisel bilgilerimiz ve fotoğraflarımızın başkalarını olumsuz etkileyebilecek olmamasına, yayınladığımız bilgi ve belgelerin başka insanların özel hayatını rencide edici olmamasına özen göstermeli bu tür davranışların sonradan bizim aleyhimize kullanılabilmesinin farkında olmalı ve bunu hiçbir zaman aklımızdan çıkarmamalıyız.

Buna göre seçeneklerden hangisini yapmak nezaket kurallarına aykırı bir davranış olur?

- A) Arkadaşının hoşlanmayacağı fotoğrafını ondan habersiz internette paylaşmak
- B) Kişisel bilgilerimizi başkalarıyla paylaşmamak
- C) İnternete araştırma ve bilgi edinme amaçlı kullanmak
- D) Kana ihtiyacı olan hasta yakınımıza sosyal paylaşım sayfamızdan yardım istemek

14. Toplum hayatında her bireyin rahat edebilmesi için kaynağını dinden alan, örf ve adetlerle desteklenen çeşitli kurallar vardır. Bu kurallar toplumun temel ilkeleridir.

- I. Selam alıp vermek
- II. Yüksek sesle müzik dinlemek
- III. Trafik kurallarına uymak
- IV. Büyüklere saygılı davranmak
- V. Yemek yerken ağızını kapatmak
- VI. Büyüklerimizin odalarına girerken kapı çalmak

Verilenlerden kaç tanesi nezaket kuralları içerisinde değerlendirilebilir?

- A) 6
- B) 5
- C) 4
- D) 3

13. Ramazan orucu toplumda suç oranının azalmasını sağlar ve böylece toplumda barış ve huzur hâkim olur. Ramazanda tok fakirin halinden anlar, kurulan iftar sofralarında toplumda birlik ve beraberlik sağlanır.

Ramazan ayında milli ve manevi değerlerin yaşanması diğer aylara göre daha fazladır böylece gönüller birbirine yaklaşır. Ramazan orucu samimiyeti ve dürüstlüğü artırır. Kişi Allah'ın kendine verdiği nimetlerin değerini daha iyi anlar.

Ramazan orucu ile ilgili verilen bilgiler ışığında hangisi metnin başlığına uygun bir ifade olur?

- A) Ramazan orucunun kıymeti
- B) Ramazan orucunun bireysel ve toplumsal faydaları
- C) Ramazanın kişiye kazandırdıkları
- D) Ramazan nedir?

15. Allah'ım! Bize dünyada iyilik, güzellik ve nimet ver, ahirette de iyilik, güzellik ve nimet ver. Bizi ateş azabından koru. (Bakara, 2/201)
Rabbimiz! Beni, anamı, babamı ve bütün mü'minleri hesap gününde (herkesin sorguya çekileceği günde) bağışla." (İbrahim, 14/41)

Rabbenâ dularının anlamları düşünüldüğünde hangi ifadeye ulaşamaz?

- A) Müslüman dünya ve ahiret mutluluğu istemelidir
- B) Mü'mine yakışan hem kendine hem diğer mü'minlere dua etmektir
- C) Hesap gününe inananlara kesin mükâfat vardır
- D) İnsan için kendisi kadar anne baba ve çevresi de önemli olmalıdır

16. İbadete çok düşkün olan Hz. Dâvûd günah işlemekten de titizlikle kaçınırdı, Allah'ı çok zikrettiği, ibadete ve salih amele düşkün olduğu Kur'ân-ı Kerîm'de de belirtilmektedir (Sâd 38/17). Hz. Peygamber de onun namazını ve orucunu şu şekilde övmüştür: "Allah'ın en sevdiği namaz Dâvûd'un namazı, en sevdiği oruç yine Dâvûd'un orucudur" (Buhârî, "Teheccüd", 7). Yaşadığı sürece gündüzleri oruç tutacağını, geceleri namaz kılacağını ifade eden Abdullah b. Amr'a Resûl-i Ekrem her ay üç gün oruç tutmasını söylemiş, bunu az görmesi üzerine bir gün oruç tutup iki gün tutmamasını tavsiye etmiş, bunu da kabul etmeyince, "Bir gün tut, bir gün tutma. Bu Dâvûd'un orucudur ve oruçların en faziletlisidir; ondan daha faziletli oruç yoktur" demiştir (Buhârî, "Savm", 55-57, 59). Öte yandan Hz. Peygamber, Dâvûd'un her gecenin yarısında uyduğunu, üçte birinde namaz kıldığını, altıda birinde yine uyduğunu haber vermiştir (Buhârî, "Teheccüd", 7; "Enbiyâ", 38).

Hz. Dâvud'la (a.s) ilgili verilen bilgiler ışığında hangisi metnin başlığına uygun bir ifade olur?

- A) Hz. Davud'un namaza verdiği önem
B) Hz. Davud'un ibadete verdiği önem
C) Hz. Davud'un Allah'ı zikretmeye verdiği önem
D) Hz. Davud'un Oruca verdiği önem
17. Hz. İbrahim Nemrut'un tüm tehditlerine rağmen hak yoldaki mücadelesinden vazgeçmeyerek Allah'ın varlığı ve birliğini anlatmış insanları akıl ve mantık çerçevesinde İslama çağırmıştır. İnsanlara taptıkları putların kendilerine ne fayda ne de zarar verebileceğini göstermek için de mabette bulunan tüm putları baltayla kırarak en büyüğünün boynuna baltayı asmıştır. İnsanlar putlara ne olduğunu sorduklarında en büyük putu göstererek bu yapmıştır, demiştir. İnsanlar Hz. İbrahim'e 'Bu nasıl kıracak?' diye itiraz ettiklerinde ise 'O zaman neden bunlara tapıyorsunuz?' diyerek mantıklı düşünmeye sevk etmiştir.

Metinde verilen bilgilerden yola çıkılarak Hz. İbrahim (a.s)'le ilgili hangisi söylenebilir?

- A) İnsanları tevhide davet ederken kaba ve sert davranmıştır.
B) Hayatı tevhid mücadelesi ile geçmiştir.
C) İnsanları akıl ve mantık çerçevesinde tevhide çağırmıştır.
D) Nemrut'un sözleri karşısında yılgınlık göstermiştir.

18. "Kim kötü söz ve davranışları bırakmazsa onun yemesini içmesini terk etmesine Allah'ın ihtiyacı yoktur." Hz. Muhammed (s.a.v)

Peygamberimizin (sav) Hadisinden yola çıkılarak hangisi söylenebilir?

- A) Oruç aynı zamanda ahlak ve davranış yönünden de insanın kendisini tutmasıdır
B) Oruç tutan insan diğer ibadetleri de yerine getirmelidir
C) Oruç insanın ahlaki yönden gelişimine katkı sağlar
D) Orucun nefsimizi terbiye eden bir yönü de vardır

19. Yine bir Ramazan iklimine girilmişti güller şehrinde. Bir tarafta gül kokulu bahçelerden gelen esintiler diğer yanda Ramazan ayının rahmet esintisi içini kaplamıştı. Oruç tutmalıyım, bu sefer başarabilirim diye düşündü. Annesine içten bir sesle beni dekaldırır mısın anne dedi. Peygamberimiz (sav)bereket vardır buyurmuş' ben de bu bereketten nasiplenmek isterim dedi. Annesi tekne orucu olursa kabul dedi. Çünkü yaşı henüz oruç tutabilecek çağa gelmemişti.

Ramazan orucu ile ilgili verilen boşluklara aşağıdaki kavramlardan hangisi getirilmelidir?

- A) Sahur
B) İftar
C) Sabah
D) İmsak

20. Adamın biri tavuk kızartması yerken bir genç gelip, 'Efendi! İmrendim. Biraz da bana ver!' demiş.
Adam : 'Vallahi, birader! Benim değil, eşimindir.' demiş.
Genç : 'Ay, işte sen yiyorsun ya!' deyince, 'Ne yapayım, arkadaş! Bana karım ye diye verdi.' demiş.

Metinde geçen diyalogta tavuk kızartması yiyen adamın hangi nezaket kuralını göz ardı ettiği söylenebilir?

- A) Eşiyile beraber yiyip içme
B) Başkalarının önünde yemek yeme
C) Yemeğinin hepsini yemek
D) Sevdiği şeyleri herkesle paylaşma

**DİN KÜLTÜRÜ VE AHLAK BİLGİSİ TESTİ BİTTİ.
CEVAPLARINIZI KONTROL EDİNİZ.**

SINAV BAŞLAMADAN AŞAĞIDAKİ UYARILARI MUTLAKA OKUYUNUZ!

1. Öğrenciler, sınav kurallarına ve salon görevlilerinin tüm uyarılarına uymak zorundadırlar.
2. Cevap kâğıdındaki isminizin doğruluğunu kontrol ediniz. Bilgiler size ait değilse veya cevap kâğıdı kullanılmayacak durumdaysa sınav görevlilerine bildirin.
3. Sınav başladıktan sonra öğrencilerin salon görevlileri ve birbirleri ile konuşmaları, kalem, silgi vb. şeyleri istemeleri yasaktır.
4. Değiştirmek istediğiniz bir cevabı, yumuşak silgiyle cevap kâğıdını yıpratmadan temizce siliniz ve yeni cevabınızı kodlayınız.
5. Cevaplarınızı, cevap kâğıdındaki ilgili soru numarasını dikkate alarak yuvarlağın dışına taşırmadan kodlayınız.
6. Soru kitapçığının sayfalarını kontrol ediniz, baskı hatası var ise değiştirilmesini sağlayınız.
7. Soru kitapçığı üzerinde yapılmış cevap kâğıdına işaretlenmeyen cevaplar değerlendirmeye alınmayacaktır.
8. Soru kitapçığının içindeki boş alanları çözümlerinizi için kullanabilirsiniz.
9. Cevaplamaya istediğiniz sorudan başlayabilirsiniz.
10. Cevabını bilmediğiniz sorular üzerinde fazla zaman kaybetmeden diğer sorulara geçiniz. Zamanınız kalırsa bu sorulara daha sonra dönebilirsiniz.
11. Sınav puanınızın hesaplanmasında sadece doğru cevaplarınız dikkate alınacaktır.
12. Sınav bitiminde, cevap kâğıdını salon görevlilerine teslim ediniz.
13. Sınav sırasında sözlük, hesap makinesi, saat fonksiyonu dışında özellikleri bulunan saat veya çağrı cihazı, cep telefonu, telsiz, radyo ve bilgisayar özelliği bulunan elektronik cihazları yanınızda bulundurmuyunuz.
14. Cevap kâğıdınızı sınav süresince hiçbir öğrencinin göremeyeceği şekilde önünüzde bulundurunuz.
15. Sınav süresince zorunlu haller hariç sınav salonu dışına çıkılmayacaktır.

SINAV GÖREVLİLERİNCE SINAV BAŞLAMADAN ÖNCE ÖĞRENCİLERE YAPILACAK SON UYARI

- Soracağınız bir şey var mı? Varsa, şimdi sorunuz.
- Sınav başladıktan sonra sorularınıza cevap verilmeyecektir.
- Başlama zilini bekleyiniz.

Hepinize Başarılar Dileriz.

Bu sınav, Isparta Milli Eğitim Müdürlüğü, Ölçme ve Değerlendirme Merkezince uygulanmaktadır.

Bu kitapçığın her hakkı saklıdır.

Hangi amaçla olursa olsun, kitapçığın tamamının veya bir kısmının Isparta İl Millî Eğitim Müdürlüğünün yazılı izni olmadan kopya edilmesi, fotoğraflarının çekilmesi, bilgisayar ortamına alınması, herhangi bir yolla çoğaltılması, yayımlanması veya başka bir amaçla kullanılması yasaktır. Bu yasağa uymayanlar, doğabilecek cezai sorumluluğu ve kitapçığın hazırlanmasındaki mali külfeti peşinen kabullenmiş sayılır.

ISPARTA ÖLÇME DEĞERLENDİRME MERKEZİ

<http://ispartaodm.meb.gov.tr>

(246) 280 32 55

odm32@meb.gov.tr