

İSPARTA MİLLİ EĞİTİM MÜDÜRLÜĞÜ
Ölçme Değerlendirme Merkezi

Türkçe

Matematik

Sosyal Bilgiler

6
sınıf

1. OTURUMU

DESTEKLEME VE YETİŞTİRME KURSLARI
DÖNEM SONU KAZANIM
DEĞERLENDİRME SINAVI

Adı ve Soyadı :

Sınıfı / Şubesi :

Okulu :

Kitapçık Türü ve Oturum Bilgilerini Optik Forma Kodlamayı Unutmayınız

ÖĞRENCİLERİN DİKKATİNE

- Cevap kâğıdının kendinize ait olup olmadığını kontrol ediniz.
 - Kitapçık türünü cevap kâğıdındaki ilgili alana kodlayınız.
 - Cevap kâğıdı üzerindeki kodlamaları kurşun kalemle yapınız.
- Soru Sayısı : 60
Sınav Süresi : 100

SINAV BAŞLAMADAN ÖNCE KİTAPÇIĞIN ARKA KAPAĞINDAKİ UYARILARI MUTLAKA OKUYUNUZ.

1. Öğretmen dersinde söz sanatlarını tekrar etmek istedi. Öğrenciler söz sanatları ile ilgili bildiklerini örnekler vererek söylediler:

Suzan: İnsan dışındaki cansız ve canlı varlıkları insan özellikleri vermeye kişileştirme sanatı denir. Örnek:Deniz kenarına yaşayanları deniz her zaman çağırır.

Sinan: İnsan dışındaki canlıları ve cansız varlıkları insan gibi konuşturmaya konuşturma sanatı denir. Örnek:Maymun :” Muz atmayın bana.” dedi.

Selim: Aralarında türlü yönlerden benzerlik ilgisi bulunan iki şeyden, güçsüz durumda olanı daha üstün olana benzetmeye benzetme denir. Örnek: Tarlada çalışan annelerin yüzleri ay gibi parlıyordu.

Soner: Zıt anlamlı kelimeleri aynı cümle içinde kullanmaya tezat denir. Örnek:Anadolu'da çeşmeler, az çok durmadan akar .

Bu bilgilerden sonra öğretmen aşağıdaki dördlüğü vererek söz sanatlarını bulmalarını ister.

*Karşı yatan ulu dağlar,
Kar kusar bellerin senin.
Yazın kışın belli olmaz,
Sert eser yellerin senin. (AŞIK CELALİ)*

Yukarıdaki dördlüğün üçüncü dizesinde hangi öğrencinin anlattığı söz sanatı vardır?

- A) Suzan B) Sinan
C) Soner D) Selim

2. Genç ve özgürken, düşlerim sonsuzken, dünyayı değiştirmek istedim. Yaşlanıp akıllanınca dünyanın değişmeyeceğini anladım. Ben de düşlerimi biraz kısıtlayarak sadece ülkemi değiştirmeye karar verdim ama o da değişeceğe benzemiyordu. İyice yaşlandığımda artık son bir gayretle, sadece ailemi ve kendime en yakın olanları değiştirmeyi denedim. Ve birden fark ettim ki önce kendimi değiştirseydim ailemi ve yakınlarımı da değiştirebilirdim. Onlardan alacağım cesaret ve ilhamla, ülkemi daha ileri götürebilirdim. Kim bilir belki dünyayı bile değiştirebilirdim.

Yukarıdaki paragrafa göre yazar nerede hata yapmıştır?

- A) Önce dünyayı değil, kendini değiştirmek istemesi,
B) Önce ülkesini değil, ailesini değiştirmek istemesi,
C) Önce ailesini değil, ülkesini değiştirmek istemesi,
D) Önce kendini değil, başkalarını değiştirmek istemesi,

3.



Kınalı keklik : Türkülere konu olan bu türler Anadolu'da yaygın olarak yaşamaktadır. Gagalarının ve ayaklarının renginden ötürü bu isimle anılırlar. Bıraktıkları yumurta sayısı 10-12 kadardır. Yılda bir kez kuluçkaya yatarlar. Gaga üzerinden başlayan göze kadar inen ve boyun bölgesinde biten siyah halkaları vardır. Gözlerinin üzerinde beyaz renkli sürme bulunur. Yan taraflarında 9-10 adet siyah çizgi vardır.



Kaya kekligi: Kınalı keklige benzeyen yapısı, kül renkli gövdeyle ve kahverengi alt kısımla ayrılır. Gagadan başlayıp göz hizasından geçerek göğüs bölgesinde kapanan siyah halkası vardır. Gagasının etrafının siyah olması da kınalı keklikten ayrılmasına sebep olur. Gözlerinin üzerinde kınalı keklik gibi sürme bulunmaz. Yan taraflarındaki çizgiler düzensiz olup, 9-13 adettir. Ötüşü kınalı keklikten daha değişik ve tizdir. Ülkemizde Ege, Trakya, Marmara ve Batı Akdeniz bölgelerinde ve türkülerinde görülürler.

Yukarıdaki paragraflarda iki keklik türü hakkında bilgi verilmektedir. Kekliklerin hangi özelliği ayırdır?

- A) Türkülere konu olması
B) Gagalarının etrafındaki renkler
C) Kekliklerin ses tonları
D) Gözlerinin üzerindeki sürmeleri

4 ve 5. soruları aşağıdaki parçaya göre cevaplandırınız.



Ve günlükler... Bilmiyorum hala günlüklere inananlar var mı ama ben inanıyorum. Kimsenin bilmediği, annenize bile göstermediğiniz, her şeyinizi yazdığınız o günlük... Nasıl bir dosttur, değil mi? Çevrendeki onca adamı toplasan tek sayfası etmez. Ne iç döküşlerinizi almış, bağına basmıştır. Peçetelerin, havluların silemediği gözyaşlarınızı silmiştir o günlük. Kimseyle konuşamadıklarınızı konuştuğunuz, kimsenin dinlemediklerini dinleyen bir dosttur.

4. Parçada asıl vurgulanmak istenen düşünce hangisidir?

- A) Günlükler, her zaman yanımızda olan fedakar dostlarımızdır.
- B) Günlükler; sırdaşımız, dertlerimizi paylaştığımız gerçek dostlarımızdır.
- C) Günlükler; her sayfası çok kıymetli, paha biçilmez dostlarımızdır.
- D) Günlükler, bizi her zaman dinleyen sabırlı ve eğlenceli dostlarımızdır.

5. Aşağıda paragrafın anlatımıyla ilgili verilen bilgilerden hangisi yanlıştır?

- A. Deyim kullanılmıştır.
- B. Kişileştirme vardır.
- C. Nesnel anlatım hakimdir.
- D. Samimi bir dille yazılmıştır.

6. bir- daima- dürüst- kalır- insan- çocuk
I II III IV V VI

Yukarıda karışık olarak verilen kelimelerden anlamlı ve kurallı cümle oluşturduğumuzda baştan üçüncü kelime hangisi olur?

- A) çocuk
- B) insan
- C) dürüst
- D) kalır

7 ve 8. soruları aşağıdaki parçaya göre cevaplayınız.

KARGA İLE TILKI

Bir dala konmuştu karga cenapları. Ağzında bir parça peynir vardı. Sayın tilki kokuyu almış olmalı. Ona nağme yapmaya başladı: "Ooo! Karga cenapları, merhaba! Ne kadar güzelsiniz, - ne kadar şirinsiniz! Gözüm kör olsun yalanım varsa. Tüyleriniz gibiyse sesiniz, Sultanı sayılırsınız bütün bu ormanın."

Keyfinden aklı başından gitti bay karganın. Göstermek için güzel sesini açınca ağzını, düşürdü peyniri. Tilki kapıp onu dedi ki: "Efendiciğim, Size güzel bir ders vereceğim: Her dalkavuk bir safın sırtından geçinir, Bu derse de fazla olmasa gerek bir peynir." Karga şaşkın, - mahcup, biraz da geç ama yemin etti gayrı faka basmayacağına.

(Bazı kelimelerin anlamları)

Dalkavuk: 1. Kendisine çıkar sağlayacak olanlara aşırı bir hayranlık göstererek yaranmak isteyen kimse, yalaka.

Cenap: . Saygı, onur ve büyüklük anlamıyla kullanılan bir söz.

7. Fablın bize vermek istediği dersi en iyi özetleyen özlü söz hangisidir?

- A) Düşmanın tatlı sözlerine aldanma.
- B) İyilik yapan insanlar, iyilik bulur.
- C) Doğru söyleyeni dokuz köyden kovarlar.
- D) Yalancının mumu yatsıya kadar yanar.

8. Yukarıdaki fablda altı çizili deyim anlamı aşağıdakilerden hangisidir?

- A) Çok korkudan ne yapacağını şaşırarak.
- B) Çok sevinçten ne yapacağını şaşırarak.
- C) Çok heyecandan ne yapacağını şaşırarak.
- D) Çok üzüntüden ne yapacağını şaşırarak.

9. Bahçe, parlak bahar güneşi... İçerinin renklerinden ve kokusundan birdenbire ayrılan tatlı bir parlaklık, çamların yeşili ve taze bir tabiat kokusu. Kumlu yolda yürüyen ayakların çitirtısı. (Dokuzuncu Hariciye Koşuşu, Peyami Safa)

Parçada altı çizili kelimenin metindeki anlamı aşağıdaki cümlelerden hangisinde kullanılmıştır?

- A) Yıldızların tatlı bir görüntüsü vardı.
- B) Tatlı elma, ağacın dalından düştü.
- C) Bu acı adam, tatlı ve nüktedandı.
- D) Baklava, revani, lokma birer tatlıdır.

10. (I) Halkadaki çocuklar, bülbülleri dışarı çıkarmamak için hemen birbirlerinin ellerini tutar ve kafesin açık yerini kapatır.
 (II) Kafesten kaçabilen oyuncular, oyunu kazanmış olur.
 (III) Oyuncular el ele tutuşarak bir halka oluşturur. Bu halka bülbül kafesi olur. Oyuncular arasında iki-üç 'bülbül' seçilir.
 (IV) Bülbüller kafes içinde dolaşır. Oyun sırasında halkadaki oyuncular ellerini bırakarak, "bülbül kafeste" der. Bu sırada bülbüller halkanın dışına çıkmaya çalışır.

Yukarıda Bülbül Kafeste oyunun kuralları karışık olarak verilmiştir. Numaralanmış olan cümleleri doğru bir şekilde sıralarsak sıralama nasıl olur?

- A) III- IV- I- II
 B) I- II- III- IV
 C) IV- III- II- I
 D) IV- I- III- II

11. Yalnız başına anlamı olmayan, cümle içinde sevinme, korku, özlem, kızma gibi duyguları anlatan ya da seslenme bildiren sözcüklere ünlem denir.

Görev bakımından ünlemler:

1. Seslenme Ünlemleri: Ör: Ey Türk Gençliği!
 2. Duygu Ünlemleri: Ör: Eyvah, geç kaldım!

Yukarıda verilen açıklamalar doğrultusunda aşağıdakilerden hangisi görev yönünden farklıdır?

- A) Of, bu kadar yeter!
 B) Arkadaş! Bakar mısın?
 C) Vah, çocuğum ne oldu sana!
 D) A! Siz de mi geldiniz?

12. Aşağıdakilerden hangisi " Çocuk oynayarak öğrenir ve oyun hayata hazırlıktır." sözünü anlamca desteklemektedir?

- A. Çocuklar, durmadan evde veya sokakta oynamak isterler.
 B. Günümüzde çocuklar, en çok cep telefonu ile oyun oynarlar.
 C. Oyun yaşamın bir parçası olduğu için çocuklara yaşamı öğretir.
 D. Oyun oynarken teknolojik aletler daha çok şey öğretir çocuklara.

- (13 ve 14. soruları aşağıdaki parçaya göre cevaplayınız.)

Kasabadaki okulun ön bahçesi bakımsız kalmış, her yanı yabancı otlar kaplamış. O yıl karlar eriyip toprak ekilmeye hazır hale geldiğinde okulun hademeleri beraber işe girişmiş. Hevesle çalıştıklarından az zamanda bahçenin her tarafını çapalamışlar. Kayısı, vişne, kiraz, dut artık ne buldularsa dikmişler. Bahçenin ortasına güzel bir havuz konurmuşlar. Havuzun üzerine de sarmaşıklardan bir çardak kurmuşlar. Bahar gelmiş, çiçekler yapraklar açmış. Önceleri çöplüğe dönmüş olan bahçe bu bahar cennetten bir köşe haline gelmiş.

13. Yukarıdaki paragrafa başlık koymak istersek nasıl bir başlık koyarsınız?

- A) Okulun Bahçesi
 B) Meyve Ağaçları ve Sarmaşıklar
 C) Okuldaki Havuz
 D) Bakarsan Bağ Olur

14. Yukarıdaki paragrafta altı çizili kelime grubu hikayenin unsurlarında hangisiyle ilgilidir?

- A) Yer
 B) Olay
 C) Zaman
 D) Kahraman

15. O Türkiye demek...
 O şan demek...
 O şeref demek...
 O barış demek...
 Ona bizden başkasının
 Eli asla değmeyecek... (Altay Taşkın)

Yukarıdaki şiirde üzerinde durulan kavram aşağıdaki dizelerde geçmektedir.

Vatan varsa ibadetin tadını bulursun,
 Vatan olursa sen olursun.
 Vatanla, aşın tatlanır,
Mutluluk ve barış vatanla katlanır.
Bayrak, vatanın namusu,
 Ezanlar, bu yurdun tapusu! (Kazım Öztürk)

Sizce birinci şiirde anlatılan kavram, ikinci şiirde altı çizili kelimelerden hangisidir?

- A) İbadet
 B) Barış
 C) Bayrak
 D) Mutluluk

16.

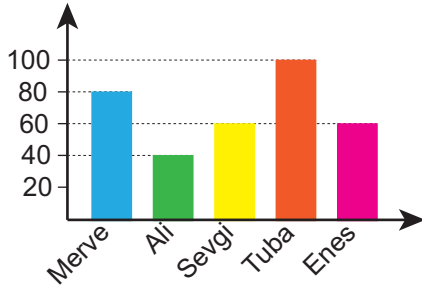


(I)İnce ve naif görüntüsüyle yüzümüze mutluluk düşüren benzersiz kokusuyla bizi hayal ettiğimiz her yere götüren eşsiz çiçektir Isparta gülü.(II) İlk başlarda yağ gülü diye bilinen daha sonra Isparta halkının güle gösterdiği özenle ismini Isparta gülü diye değiştiren bu harika gül Isparta'yla 1870'lerin başında Bulgar göçmenler sayesinde tanışmıştır.(III) 1888 yılında üretimine başlanan Isparta gülünün gül yağı şekline bürünmesi 1892 yılında Müftü zade İsmail Efendi sayesinde olmuştur.(IV) 1935 yılına kadar kazanlarda kaynatılarak üretilen, kokusuyla insanı rahatlatan, huzur veren gül yağı, Cumhuriyetimizin kurucusu Atatürk'ün güzel Isparta'ya gelişyle üretiminde sıra dışı bir ilerleme yaşanmıştır.

Yukarıdaki numaralanmış cümlelerden hangisi öznelik-nesnellik açısından farklıdır?

- A) I B) II
C) III D) IV

17. Okuduğu Kitap Sayısı



Yukarıdaki grafikten hangi yorumu kesinlikle çıkarmayız?

- A) Tuba en çok hikaye kitapları okumayı sever.
B) Grafiğe göre en az kitabı Ali okumuştur.
C) Sevgi Merve'den daha az okumuştur.
D) Enes ile Sevgi aynı sayıda kitap okumuşlar.

18. Türkçe Öğretmeni derste işleyeceği parçayı sınıfta önce kendisi okudu. Sonra öğrencilere okuttu. Parçanın türü ile ilgili aşağıdaki soruları sordu: Metin bir olay yazısı mı yoksa düşünce yazısı mıdır?

Cevap: Olay yazıdır.

Olay kurgusal mı yoksa yaşanmış mıdır?

Cevap: İkisi de olur.

Olağanüstü olaylar var mı yoksa yaşanabilir olaylar mı var?

Cevap: Olağanüstü olaylar yoktur.

Her zaman mutlu sonla mı biter yoksa hem mutlu hem de mutsuz sonla mı biter?

Cevap: Hem mutlu hem de mutsuz sonla biter.

Kahramanların özel güçleri var mı?

Cevap: Hayır, günlük hayattaki kahramanlar vardır.

En sonunda ders bölümü var mı yoksa dersi parçanın tamamından mı çıkarıyoruz?

Cevap:Dersi parçanın tamamından çıkarırız.

Olay tanınmış insanların başından mı geçmiştir yoksa sıradan insanların mı başından geçmiştir?

Cevap: Her ikisi

Bu soruların cevaplarından yola çıkarak derste işlene parçanın türü aşağıdakilerden hangisidir?

- A) Anı B) Fabl
C) Masal D) Hikaye

19. Kekik, yavşan kokar dağda.
Kayısı, elma, üzüm bağda...
Hele bugün, yeni çağda;
Ne güzeldir Türkiyemiz!

(Yavşan: Özel kokulu, acı, kaynatılıp suyu em olarak içilen bir ot.)

Yukarıdaki dördlükte geçen altı çizili kelimenin anlamdaşı aşağıdaki cümlelerin hangisinde vardır?

- A) Asırlardır bağımsızlık için mücadele ettik.
B) Kayısı, kiraz ve erik yaz mevsimi meyvesidir.
C) Kekik, eski çağlarda bile sağlık için kullanılırdı.
D) Her dönemin bilginleri ve sanatkarları vardır.

20. kitap okudu.

Yukarıdaki boşluğu aşağıdakilerden hangisiyle tamamlarsak amaç-sonuç cümlesi olur?

- A) Hayallerini gerçekleştirmek için
B) Araştırma ödevi var diye
C) Evde çok sıkıldığı için
D) Boş vakti çok olduğundan

**TÜRKÇE TESTİ BİTTİ.
CEVAPLARINIZI KONTROL EDİNİZ.**

1. "Birden büyük, bir ve kendisinden başka pozitif bölüneni olmayan doğal sayılara asal sayı denir" Asal sayılarla ilgili bir oyun oynayan Aslı, Erdiç ve Pelin sırayla oyuna başlıyorlar. Doğal sayıların yazıldığı kartlar bir torbaya atılıyor ve 1. oyuncu bir kart çekiyor.

- ☞ Kart üzerindeki sayıyı okur
- ☞ Karttaki sayı asal ise 2. oyuncuya söyler
- ☞ Karttaki sayı asal değilse sayıya 4 ekler ve asal sayı bulunmaya kadar devam eder bulduğu asal sayıyı 2. oyuncuya söyler.

İşlemlerin aynısını 2. oyuncu uygular ve oyun böyle devam eder.

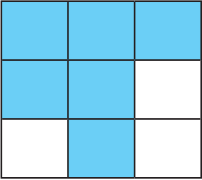
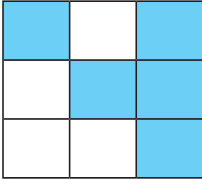
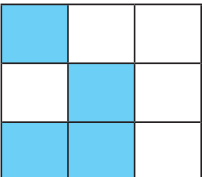
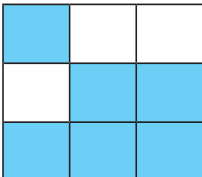
Aslı'nın oyunu başlatmak için çektiği kartta 4 yazdığına göre Pelin'in söyleyeceği sayı kaçtır?

- A) 29 B) 33
C) 37 D) 41

2.

	4	5	6
124			
210			
480			

Tabloyu doldurmak isteyen Doruk üst satırdaki sayılara tam bölünebilen sayıların kutularını boyuyacaktır. Buna göre Doruk'un elde edeceği desen hangisidir?

- A)  B) 
- C)  D) 

3. Öğle yemeği için pizzacıya giden 5 kişilik bir aile, 8 eş parçaya ayrılmış pizza parçalarından 3'er parça yemiştirler.

Buna göre bu 5 kişinin yediği toplam pizza miktarı ne kadardır?

- A) $\frac{3}{8}$ B) $\frac{15}{8}$
C) $\frac{29}{8}$ D) $\frac{43}{8}$

ISPARTA ÖLÇME DEĞERLENDİRME MERKEZİ

4. Yolculuğa çıkan Özlem Hanım bütün yolun $\frac{2}{7}$ ' sini gittikten sonra mola vermeyi düşünmektedir. Düşündüğü yolun $\frac{7}{8}$ ' ini geçtikten sonra mola vermiştir.

Buna göre Özlem Hanım bütün yolun ne kadarını gittikten sonra mola vermiştir?

- A) $\frac{1}{4}$ B) $\frac{9}{15}$
C) $\frac{14}{15}$ D) $\frac{9}{56}$

5. En küçük asal çarpanı 5, en büyük asal çarpanı 11 olan sayı hangisi olabilir?

- A) 110 B) 165
C) 385 D) 715

6. 1250 m² bahçesi olan Ahmet Amca bahçesinin $\frac{3}{5}$ 'ine sera yapmıştır. Yaptığı seranın $\frac{3}{10}$ 'una domates, kalanına ise salatalık ekmiştir.

Ahmet Amca'nın bahçesinde salatalık ektiği alan kaç m² dir?

- A) 75 B) 225
C) 525 D) 750

7. Matematik Öğretmeni Mehmet Bey dersinde tahtaya yazdığı $A=\{1, 2, \{1\}, 3, \{3,4\}, 5\}$ kümesi ile ilgili verdiği bilgilerden hangileri doğrudur?

- I. $1 \in A$
II. $4 \in A$
III. $s(A)=6$

- A) I ve II B) I ve III
C) Yalnız III D) I, II, III

8. 204,06 sayısını çözümleyen Mert aşağıdakilerden hangisini yazmalıdır?

- A) $2 \times 100 + 4 \times 1 + 6 \times \frac{1}{100}$
B) $2 \times 10 + 4 \times 10 + 6 \times \frac{1}{10}$
C) $2 \times 100 + 4 \times 1 + 6 \times \frac{1}{10}$
D) $2 \times 10 + 4 \times 1 + 6 \times \frac{1}{100}$

9. Hatice Hanım'a babasından miras kalan arazisinin $\frac{3}{5}$ 'ini ekonomik sıkıntılarını gidermek için satmıştır. Kalan arazisini ise 3 çocuğuna eşit olarak paylaşmıştır.

Buna göre Hatice Hanım'ın büyük çocuğu miras kalan arazisinin ne kadarını almıştır?

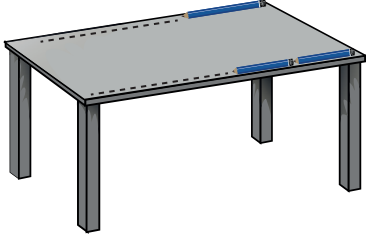
- A) $\frac{2}{15}$ B) $\frac{3}{15}$
C) $\frac{6}{15}$ D) $\frac{9}{15}$

10. Mutlak Değer: Sayı doğrusu üzerindeki bir noktanın başlangıç noktasına olan uzaklıktır. Matematik öğretmeni dersinde sayı doğrusu üzerindeki a ve b noktaları için a noktası b noktasına göre başlangıç noktasına daha uzak olduğunu söylemiştir.

Bu açıklamaya göre a ve b sayıları hangi seçenekteki gibi olabilir?

	<u>a</u>	<u>b</u>
A)	-4	+4
B)	-3	-4
C)	4	+5
D)	6	-5

11.

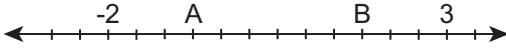


Yukarıdaki masanın boyunu ölçmek isteyen Azra 30cm uzunluğundaki, Ayşe ise 25cm uzunluğundaki kalemli kullanarak ölçüyorlar.

Azra ve Ayşe yaptığı ölçümlerde hiç boşluk kalmadığını söylediklerine göre masanın boyu hangisi olabilir?

- A) 180 B) 240
C) 300 D) 360

12.



Eşit parçalara ayrılan sayı doğrusunda gösterilen A ve B sayılarının çarpımı kaçtır?

- A) -7 B) -1
C) 1 D) 7

13. Betül ailesi ile birlikte köylerine gitmek için yola çıktılar. Betül babasına yolculuktan yorulduğunu söyleyip mola verebilir miyiz diye sordu. Babası yolun $\frac{2}{5}$ 'ini gidince 1. mola için, $\frac{1}{3}$ 'ini gidince ise 2. mola için duracaklarını söyledi. Babası Betül'e "2. moladan sonra yolun ne kadarı kalmıştır?" diye sordu.

Buna göre Betül'ün vereceği cevap hangisi olmalıdır?

- A) $\frac{11}{15}$ B) $\frac{6}{15}$
C) $\frac{5}{15}$ D) $\frac{4}{15}$

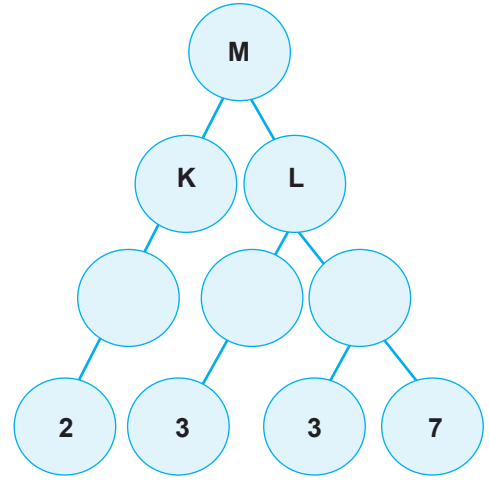
14. Masal annesine kaç yaşında olduğunu sormuştur. Annesi ise Masal'a "Benim yaşım senin yaşının 3 katından 7 fazladır." diyor.

Masal 8 yaşında olduğuna göre Masal'ın annesi kaç yaşındadır?

- A) 18 B) 29
C) 31 D) 59

ISPARTA ÖLÇME DEĞERLENDİRME MERKEZİ

15.



Yanda verilen çarpan ağacına göre M, K, L sayıları hangi seçenekte verilmiştir?

	M	K	L
A)	63	3	21
B)	105	3	35
C)	210	2	105
D)	126	2	63

16. $12.(4+A) = 12.4+B.7$ eşitliğinde $A+B$ kaçtır?

- A) 7 B) 12
C) 19 D) 25

17. $43A64 > 43679$ eşitsizliğinde A yerine yazılabilecek kaç tane doğal sayı vardır?

- A) 3 B) 5
C) 7 D) 9

18. Süt satarak geçimini sağlayan Zeynep Teyze ineklerinden bir günde sağdığı $\frac{75}{2}$ litre sütü $\frac{3}{2}$ litrelik şişelere doldurarak satmaktadır.

Zeynep Teyze'nin bir günde sattığı süt kaç şişedir?

- A) 20 B) 25
C) 30 D) 35

19. Bir bayrak yarışında 1. koşucu yolun $\frac{2}{9}$ 'unu 2. koşucu yolun $\frac{1}{3}$ 'ünü ve 3. koşucu yolun $\frac{4}{9}$ 'unu koşmuşlardır.

Buna göre koşucuların koştuğu mesafelerin büyükten küçüğe sıralanışı hangisidir?

- A) $\frac{4}{9} > \frac{1}{3} > \frac{2}{9}$ B) $\frac{4}{9} > \frac{2}{9} > \frac{1}{3}$
C) $\frac{1}{3} > \frac{4}{9} > \frac{2}{9}$ D) $\frac{1}{3} > \frac{2}{9} > \frac{4}{9}$

20. Bir sitede 3 apartman her apartmanda 3 kat her katta 3 daire ve her dairede 3 oda bulunmaktadır.

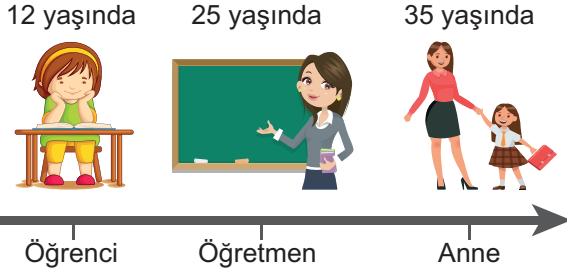
Bu sitede bulunan toplam oda sayısını veren üslü ifade hangisidir?

- A) 4^4 B) 4^3
C) 3^4 D) 3^3

MATEMATİK TESTİ BİTTİ.
CEVAPLARINIZI KONTROL EDİNİZ.

1. Sosyal Bilgiler dersinde sosyal rolleri öğrenen Ayşe evde annesine hangi rollere sahip olduğunu sorarak öğrendiklerini defterine yazmıştır.

ANNEMİN ROLLERİ



Buna göre belirtilen görseldeki en kapsamlı yargı hangisidir?

- A) Rollerimizi seçme şansımız yoktur.
B) Bazı rollere doğuştan sahip oluruz.
C) En önemli rolümüz okul içindekilerdir.
D) Rollerimiz zamanla değişebilir

- 2.

İnsanları kitaplar gibi düşün ve kapaklarına bakıp aldanma... Asıl değerini okumaya başlayınca anlarsın...

Hz. Mevlana

Bu sözle Mevlana insanlar arasındaki iletişimi ve duygusal bağın azalmasına yol açan hangi duruma değinmiştir?

- A) Ön yargılı olmak
B) Empati kurmak
C) Alaycı olmak
D) Bencillik yapmak

3. Orta Asya'nın coğrafi özellikleri, bozkır kültürünün ortaya çıkmasında etkili olmuştur. Doğaya karşı verilen mücadele Türklere çeşitli yetenekler kazandırmıştır. Bu sayede Orta Asya, dünya tarihinin büyük cihangirlerinin vatanı olmuştur. Çadır, kilim ve demir bu kültürün önemli unsurlarındandır. Türkler yılın belli bölümlerinde mevsim koşullarına göre yerlerini değiştirmişlerdir.

Verilen bu bilgilere göre Orta Asya'da yaşayan Türkler için hangi yargıya ulaşamayız?

- A) Savaşçı olmaları
B) Hayvancılıkla uğraştıkları
C) Yerleşik hayata geçtikleri
D) Sosyal ve ekonomik hayatlarında iklimin etkili olduğu

- 4.

Tuva Cumhuriyeti'nin Yenisey Nehri Kıyılarında Hun Kadın Savaşçılara Ait 2200 Yıllık Mücevherler Bulundu
Hun kadın savaşçılar tarafından takılmış göz alıcı kemer tokalar günümüz Yenisey Nehri'nin kıyılarında gömülü olarak bulunmuştur. Kadın savaşçıların kurganlara ilginç takılarla gömüldüğü görülmüştür. Bu takılar mercan, akik, yeşim taşı ve turkuazla kaplanmış kemer tokaları, alev biçimli bronz süslerdir.

Genel Ağ Haberi

Buna göre ilk Türk devletlerinin askeri özellikleri için ne söylenebilir?

- A) Sadece kadınlar savaşmıştır.
B) Paralı asker tutmuşlardır.
C) Ordu – millet anlayışı hakimdir.
D) Erkekler mecbur kaldıklarında savaşmışlardır.

ISPARTA ÖLÇME DEĞERLENDİRME MERKEZİ

- 5.



Benim yaşadığım yerde muz yetişir.

Osman

Benim yaşadığım yerde kışın yollar kapanır



Meltem



Benim yaşadığım yerde her mevsim yağışlıdır.

Ahmet

Benim yaşadığım yerde deniz turizmi yapılır.



Esra

Verilen bu bilgilere göre hangi çocuklar aynı bölgede yaşamaktadır?

- A) Osman ve Meltem
B) Osman ve Esra
C) Meltem ve Ahmet
D) Ahmet ve Esra

6.



Akdeniz Bölgesinde dağlar kıyıya batı-doğu yönünde uzanır. Akdeniz bölgesinde dağlar kıyıya kuzey-güney yönünde uzansaydı bu bölgede hangi değişikliklerin yaşanması beklenirdi?

- A) Kıyı kesimlerle iç kesimleri arası ulaşım kolaylaşır.
- B) Zeytinin yetiştirilme alanı daralır.
- C) İç kesimlerde yaz turizmi artardı.
- D) Akdeniz Bölgesinde bozkır bitki örtüsü görülürdü.

8. Tarih, insan topluluklarının birbirleriyle olan ilişkilerini yer-zaman göstererek, neden-sonuç ilişkisi içinde ve doğru olarak anlatan bir bilimdir. Tarih yeni nesillerde milli bilincin oluşmasında, milli birlik ve beraberliğin sağlanmasında rol oynar.

Bu bilgilere göre;

- I. Tarih toplumsal birlikteliğimizi güçlendirir.
- II. Kültürün bazı unsurları varlığını tarihe borçludur.
- III. Millet hayatındaki devamlılık yalnız tarih sayesinde sağlanır.


yargılarından hangilerine ulaşılır?

- A) I-II-III
- B) I-II
- C) I-III
- D) II-III

ISPARTA ÖLÇME DEĞERLENDİRME MERKEZİ

7.

- 1. Boyları birbirine eşittir.
- 2. Aralarındaki mesafe 111 km' dir.
- 3. Yerel saat hesaplanmasında kullanılır.
- 4. Kutuplara gidildikçe aralarındaki mesafe kısalmır.



Paralellerin Özellikleri



Meridyenlerin Özellikleri

Parallere ve meridyenlere ait verilen bu özellikler sepetlere yerleştirirken kaç numaralı özellik yanlış sepete konmuştur?

- A) 1
- B) 2
- C) 3
- D) 4

9. Doğukan akşam yemeğinde ailesiyle birlikte haber izlemektedir. Son dakika haberlerde bir uçak kazasının olduğunu duymuştur ve bu duruma çok üzülmüştür. Haber spikeri uçağın Ekvator'un kuzeyinde Atlas Okyanusu üzerine düştüğünü söylemiştir. Doğukan merakla haritadan uçağın düştüğü yeri bulmaya çalışmıştır.



Doğukan'ın bulunduğu bölge haritadaki kaç numaralı yerdir?

- A) 1
- B) 2
- C) 3
- D) 4

10.

Ey insanlar! Kadınların haklarına riayet etmenizi ve bu hususta Allah'tan korkmanızı tavsiye ederim. Dikkat edin! Sizin kadınlar üzerinde hakkınız olduğu gibi onların da sizin üzerinizde hakları vardır. Kadınlar hususunda Allah'tan korkun ve onlara en iyi şekilde davranın.

Veda Hutbesi

Peygamberimiz Veda Hutbesi'nde hangi konuda insanlara öğüt vermektedir?

- A) Kadınların üstünlüğü
- B) Kan davaları
- C) Kadın-erkek eşitliği
- D) İnsan sevgisi

11. Hangisi sosyal dayanışma ve yardımlaşmayı olumsuz etkileyen davranışlardan birisidir?

- A) Maddi durumu yetersiz olan öğrenciye burs vermek.
- B) Okullara engelli öğrenciler için engelli rampaları yapmamak.
- C) Muhtaç insanlar için yardım kampanyalarının düzenlenmesi.
- D) Kan bağıışı kampanyasında, kan bağıışında bulunmak.

12. Bireyler bir haksızlık veya olumsuzluk yaşadıklarında bu olumsuzluğu ortadan kaldırmak için birtakım faaliyetlerde bulunurlar. Bu sorunu ortadan kaldıran hak ve sorumluluk çerçevesinde hareket etmeleri gerekmektedir.

Verilen örneklerden hangisinde hak ve sorumluluk ilkesine uyulmamıştır?

- A) Yeni aldığı kitabın sayfalarının eksik olduğunu gören Yiğit'in kitabı iade etmemesi.
- B) Hatice Hanım'ın mahallesinde kötü kokular olduğu için, kokunun sebebini belediyeden dilekçe ile öğrenmesi.
- C) Zeynep'in ailesi tarafından okula gitmesine izin verilmediği için kaymakamlığa başvurması.
- D) Gökalp'in, sokakta gördüğü kavgayı 155 polis imdat hattını kullanarak yetkililere bildirmesi.

13. Türkler'in İslamiyeti kabul etmesiyle birlikte Arapça kelimeler toplumda daha fazla kullanılmaya başlandı. Birçok Arapça eser Türk ülkelerinde okunmaya başladı. Türkler birçok şehirde camii, medrese, türbe gibi eserler yaptı. Ülke yöneticileri eskiden kullandıkları han, hakan gibi ünvanların yanında sultan gibi ünvanlar da kullanmaya başladı.

Buna göre Türkler'in İslamiyeti kabul etmeleriyle hangi alanda herhangi bir değişim yaşanmamıştır?

- A) Yönetim
- B) Mimari
- C) Askeri
- D) Kültürel

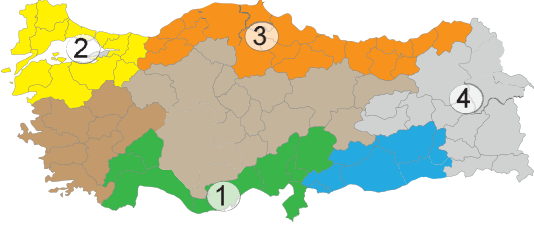
14. Yapılan savaşlardan hangisi Anadolu'nun kesin olarak Türk yurdu olmasını sağlamıştır?

- A) Malazgirt Savaşı
- B) Dandanakan Savaşı
- C) Köseadağ Savaşı
- D) Miryokefalon Savaşı

15. Hangisi İpek Yolu'na ait bir bilgi değildir?

- A) Türkler ile Çinliler bu yolu ele geçirmek için savaşmıştır.
- B) İpeğin yanı sıra baharat, porselen, kürk gibi değerli ürünler taşınmıştır.
- C) Hindistan'dan başlayıp Afrika'ya kadar devam eden bir yoldur.
- D) Doğu batı arasında siyasi, ekonomik, kültürel etkileşimin yaşanmasını sağlamıştır.

16.



Haritada numaralandırılmış bölgelerin hangisinde sanayi daha çok gelişmiştir?

- A) 1
- B) 2
- C) 3
- D) 4

17.



Yaşadığım yer yazların bol yağışlı ve sıcak olduğu Hindistan. Burada kışlar soğuk ve yağışsız geçmektedir. Ancak yine de sıcaklık hiçbir zaman sıfırın altına düşmez. Temel geçim kaynağımız pirinç tarımına dayanmaktadır.

Özellikleri verilen iklim tipi hangisidir?

- A) Karasal iklim
- B) Akdeniz iklimi
- C) Çöl iklimi
- D) Muson iklimi

18. Günümüzden yüzyıllar önce insanlar bir yerden bir yere gitmek için hayvanları kullanıyorken, günümüzde çok daha kısa sürede uçak veya araçlarla istediğimiz yere ulaşabiliyoruz. Yine Ay'a çıkmak bir hayalken günümüzde Ay'da birçok araştırma yapılabilmektedir. Zaman içerisinde bir zamanlar insanlar için hayal olan düşünceler günümüzde gerçeğe dönüşmektedir.

İnsanları hayalden gerçeğe götüren gelişmelerin yaşanmasının temel sebebi hangisidir?

- A) Bilim ve teknolojik alanda yaşanan gelişmeler.
- B) İletişim yaygınlaşması.
- C) Eğitim seviyesinin yükselmesi.
- D) Sosyal medyanın kullanılmaya başlanması.

19. Kaşgarlı Mahmud tarafından Abbasi halifesine sunulan Dîvânü Lügati't-Türk, Araplara Türk dilini öğretmek amacıyla yazılmış önemli bir eserdir. Kitapta Bizans sınırından Çin sınırına kadar çeşitli Türk topluluklarının lehçelerinden örnekler verilmiştir. Türklerin yaşadığı coğrafyaya, ekonomisine, sosyal hayatına ve inançlarına ait önemli bilgiler içerir. Ayrıca Türk dünyasını gösteren bir harita bulunur. Türkçe kelimelerin anlamları ve bir kelimenin farklı kullanım şekilleri eserde yer almaktadır?

Divan-ü Lügatit Türk ile ilgili hangi bilgiye ulaşamayız?

- A) İlk yazılı Türkçe sözlüktür
- B) Kitapta coğrafi bilgiler de yer almaktadır
- C) Dönemin kültür ve ekonomisi hakkında bilgi verir
- D) Devlet yönetimi ve siyaset bilgisi öğretmektedir

20. Malazgirt Savaşı'ndan sonra Büyük Selçuklu Sultanı Alp Arslan önde gelen komutanlarını toplayarak onlara Anadolu'daki fethettikleri toprakları kendilerine vereceğini söyledi.

Alp Arslan'nın böyle bir politika izlemesinin temel sebebi hangisidir?

- A) Anadolu'nun bir an önce fethedilmesini sağlamak.
- B) Anadolu'da yeni beylikler kurulmasını sağlamak.
- C) Kendi yetkisini diğer komutanlarla paylaşmak.
- D) Çıkabilecek isyanları önlemek.

SINAV BAŞLAMADAN AŞAĞIDAKİ UYARILARI MUTLAKA OKUYUNUZ!

1. Öğrenciler, sınav kurallarına ve salon görevlilerinin tüm uyarılarına uymak zorundadırlar.
2. Cevap kâğıdındaki isminizin doğruluğunu kontrol ediniz. Bilgiler size ait değilse veya cevap kâğıdı kullanılmayacak durumdaysa sınav görevlilerine bildiriniz.
3. Sınav başladıktan sonra öğrencilerin salon görevlileri ve birbirleri ile konuşmaları, kalem, silgi vb. şeyleri istemeleri yasaktır.
4. Değiştirmek istediğiniz bir cevabı, yumuşak silgiyle cevap kâğıdını yıpratmadan temizce siliniz ve yeni cevabınızı kodlayınız.
5. Cevaplarınızı, cevap kâğıdındaki ilgili soru numarasını dikkate alarak yuvarlağın dışına taşırmadan kodlayınız.
6. Soru kitapçığının sayfalarını kontrol ediniz, baskı hatası var ise değiştirilmesini sağlayınız.
7. Soru kitapçığı üzerinde yapılmış cevap kâğıdına işaretlenmeyen cevaplar değerlendirmeye alınmayacaktır.
8. Soru kitapçığının içindeki boş alanları çözümlerinizi için kullanabilirsiniz.
9. Cevaplamaya istediğiniz sorudan başlayabilirsiniz.
10. Cevabını bilmediğiniz sorular üzerinde fazla zaman kaybetmeden diğer sorulara geçiniz. Zamanınız kalırsa bu sorulara daha sonra dönebilirsiniz.
11. Sınav puanınızın hesaplanmasında sadece doğru cevaplarınız dikkate alınacaktır.
12. Sınav bitiminde, cevap kâğıdını salon görevlilerine teslim ediniz.
13. Sınav sırasında sözlük, hesap makinesi, saat fonksiyonu dışında özellikleri bulunan saat veya çağrı cihazı, cep telefonu, telsiz, radyo ve bilgisayar özelliği bulunan elektronik cihazları yanınızda bulundurmuyunuz.
14. Cevap kâğıdınızı sınav süresince hiçbir öğrencinin göremeyeceği şekilde önünüzde bulundurunuz.
15. Sınav süresince zorunlu haller hariç sınav salonu dışına çıkılmayacaktır.

SINAV GÖREVLİLERİNCE SINAV BAŞLAMADAN ÖNCE ÖĞRENCİLERE YAPILACAK SON UYARI

- Soracağınız bir şey var mı? Varsa, şimdi sorunuz.
- Sınav başladıktan sonra sorularınıza cevap verilmeyecektir.
- Başlama zilini bekleyiniz.

Hepinize Başarılar Dileriz.

Bu sınav, Isparta Milli Eğitim Müdürlüğü, Ölçme ve Değerlendirme Merkezince uygulanmaktadır.

Bu kitapçığın her hakkı saklıdır.

Hangi amaçla olursa olsun, kitapçığın tamamının veya bir kısmının Isparta İl Millî Eğitim Müdürlüğü'nün yazılı izni olmadan kopya edilmesi, fotoğraflarının çekilmesi, bilgisayar ortamına alınması, herhangi bir yolla çoğaltılması, yayımlanması veya başka bir amaçla kullanılması yasaktır. Bu yasağa uymayanlar, doğabilecek cezai sorumluluğu ve kitapçığın hazırlanmasındaki mali külfeti peşinen kabullenmiş sayılır.

ISPARTA ÖLÇME DEĞERLENDİRME MERKEZİ

<http://ispartaodm.meb.gov.tr>

(246) 280 32 55

odm32@meb.gov.tr