

İSPARTA MİLLİ EĞİTİM MÜDÜRLÜĞÜ
Ölçme Değerlendirme Merkezi

İngilizce

Fen Bilimleri

Din Kültürü ve
Ahlak Bilgisi

6
sınıf

2. OTURUMU

DESTEKLEME VE YETİŞTİRME KURSLARI
DÖNEM SONU KAZANIM
DEĞERLENDİRME SINAVI

Adı ve Soyadı :

Sınıfı / Şubesi :

Okulu :

Kitapçık Türü ve Oturum Bilgilerini Optik Forma Kodlamayı Unutmayınız

ÖĞRENCİLERİN DİKKATİNE

- Cevap kâğıdının kendinize ait olup olmadığını kontrol ediniz.
 - Kitapçık türünü cevap kâğıdındaki ilgili alana kodlayınız.
 - Cevap kâğıdı üzerindeki kodlamaları kurşun kalemle yapınız.
- Soru Sayısı : 60
Sınav Süresi : 100

SINAV BAŞLAMADAN ÖNCE KİTAPÇIĞIN ARKA KAPAĞINDAKİ UYARILARI MUTLAKA OKUYUNUZ.

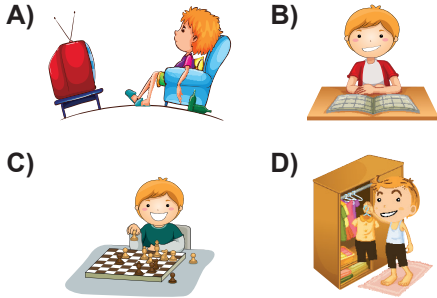
Read the text and answer the 1st and 2nd questions.

Harry is a 13 year-old boy. He is at Heights Secondary School. He wakes up at quarter past seven. He gets dressed and has breakfast at half past seven. His lessons start at eight o'clock. At twelve o'clock he has lunch. His school finishes at ten past three. After school he plays basketball with his friends. He arrives home at half past four. He does his homework at five o'clock. He has dinner with his family. After dinner, he plays chess with his brother. He goes to bed at twenty to ten.

1. Harry wakes up at

- A) 04:30 B) 07:15
C) 11:20 D) 03:10


2. Which activity is NOT one of Harry's activities?



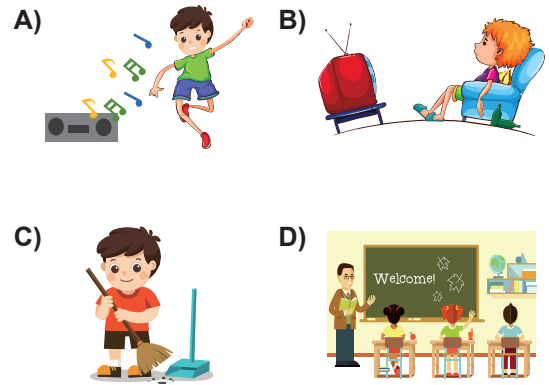
Read the text and answer the 3th and 4th questions below.

Hi! I'm Nick. I am 9 years old. Here is my daily routines on weekdays. I always get up at 6:30. I wash my face and get dressed. I have breakfast with my family at 7:00 and leave home at 7:30. I start classes at 8:00. At 12:15 I have lunch at the canteen.

3. Which activity does NOT Nick do?



4. What does Nick do at eight o'clock?



Read the text and circle the correct options to fill in the gaps.

Hello! My name is Egemen. I am twelve years old. On weekdays I get up at 7:00. I have a breakfast. I get dressed and go to school at 08:00. My lessons (5) at 08:15 a.m. I have lunch at school canteen at noon. After school I (6)..... drama club. In the evenings I have dinner with my family. After dinner, I do my homework and go to bed at 10:00 o'clock.

5.

- A) finish B) start
C) finishes D) starts

6.

- A) attends B) play
C) plays D) attend

7. Put the words in the correct order.


a train / is / comfortable /
more / than / a bus / ?

- A) Is a train comfortable more than a bus?
B) Is a bus than more comfortable a train?
C) Is a bus more comfortable than a train?
D) Is more comfortable a bus than a train?

8. Circle the correct option.

Emma : What is the date today?
Patrick: It is 10th2019.

- A) Winter
B) January
C) Friday
D) O'clock

9. Look the picture. What does **NOT** Andy have for breakfast?

Andy's breakfast

- A) bread
B) sausage
C) muffin
D) tea

10. Read the dialogue and answer the question.

Waiter: Do you want an omelette for your breakfast?

Charles: No, thanks. I don't like it.

Waiter: Do you want a toast?

Charles: No, I don't. I want a bagel, please.

Waiter: Sorry, it is all gone. Do you want a croissant?

Charles: Sure. I want a croissant with jam. Thanks.

Which breakfast does Charles have?

A)



B)























C)



D)



Look at the table and answer the questions 11th and 12th.

					
Mine					
Sare					
Hazal					

11. Which sentence is **FALSE**?

- A) Mine likes cheese, but Sare doesn't.
- B) Sare and Hazal like orange juice.
- C) Hazal and Mine don't like coffee.
- D) Hazal doesn't like olives, but Sare likes.

12. Who is Hazal?

- A)  I want cheese and olives for breakfast.
- B)  I want muffin and coffee for breakfast.
- C)  I want orange juice and cheese for breakfast.
- D)  I want olives and muffin for breakfast.

13. Circle the correct answer.

Dave :

Marion: I want an egg, tomatoes and tea, please.

- A) Can I have some soup?
- B) Do you want some soup?
- C) What do you want for breakfast?
- D) What about orange juice?



Read the text and answer the 14th and 15th questions.

Hi! I am Alan. I always have breakfast with my family. I usually have milk and an egg for breakfast. My sister, Martha has chips and coffee. My parents usually have cheese, olives, tomatoes and cucumbers for breakfast.

14. Who has **UNHEALTHY** breakfast habits in Alan's family?

- A) Alan
- B) Martha
- C) Alan and Martha's mother
- D) Alan and Martha's father

15. Which one is **NOT** in the text?



Read the text and answer the questions 16th and 17th.



I am Veysel. I am a sixth grade student. I live in a city with grandparents. Today is Saturday. Now, I am doing my homework. My mother is preparing the dinner. My sister is setting the table.

My grandparents are watching TV. My father is watering the flowers in the garden.

16. What is Veysel's sister doing?

- A) She is doing her homework.
- B) She is preparing the dinner.
- C) She is setting the table.
- D) She is watering the table.

17. Where do they live?

- A) They live in a village.
- B) They live in a town.
- C) They live in a city.
- D) They live in a country.

18. Read the dialogue and answer the question.

Carl: Do you like city or village life?

Anita: I like village life because a village is cleaner and quieter than a city. What about you?

Carl: I like city life because a city is more enjoyable than a village. I enjoy doing shopping and there are shopping centres in cities.

Anita: There is traffic jam in cities and I hate it. Life is busier in cities, but a village is more relaxing than a city.

Choose the **CORRECT** sentence.

- A) Carl thinks village life is more boring than city life.
- B) Anita thinks a village is dirtier than a city.
- C) Carl hates doing shopping.
- D) Anita likes doing shopping.

19. Look at the picture and choose the correct option to complete the dialogue.





Jack :

Emily: He is climbing.

- A) Where is he climbing?
- B) What is he doing?
- C) Is he climbing?
- D) Is he swimming?

20. Look at the table and answer the question.

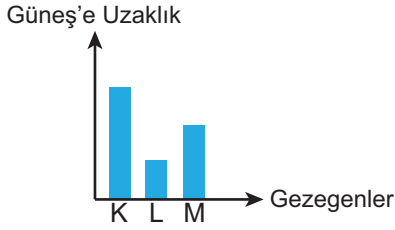
	
ELEPHANT	MOUSE
AGE: 5	AGE: 2
WEIGHT: 1500 KG	WEIGHT: 700 GR
HEIGHT: 210 CM	HEIGHT: 20 CM

Which sentence is **CORRECT**?

- A) Elephant is heavier than mouse.
- B) Elephant is younger than mouse.
- C) Elephant is smaller than mouse.
- D) Elephant is shorter than mouse.

İNGİLİZCE TESTİ BİTTİ.
CEVAPLARINIZI KONTROL EDİNİZ.


1. K, L ve M gezegenlerinin Güneş'e uzaklıklarını gösteren grafik aşağıda verilmiştir.



Buna göre K, L ve M gezegenleri hakkında verilen ifadelerden hangisi doğru olabilir?

- A) L gezegeni Mars ise, K gezegeni Merkür olabilir.
 B) M gezegeni Jupiter ise, L gezegeni Satürn olabilir.
 C) M gezegeni Dünya ise K gezegeni Güneş sistemindeki en büyük gezegen olabilir.
 D) K gezegeni Venüs ise, L gezegeni Satürn olabilir.

2. Görselde vücudumuzdaki bazı yapılar verilmiştir.



Görseldeki organlarda bulunan kaslar ile ilgili verilen özelliklerden hangisi yanlıştır?

- A) Kol kasları hızlı çalışıp çabuk yorulurlar.
 B) Koldaki kasların yapısı kalp kasının yapısına benzer.
 C) Mideyi oluşturan kaslar istemsiz çalışır.
 D) Mideyi oluşturan kaslar çizgili kaslardır.

3. Boşaltım sistemi hakkında;

- I. Böbreklerimiz kanımızı süzerek idrarı oluşturur.
 II. Üreter süzülerek temizlenen kanı vücuda geri verir.
 III. Sağlıklı bir insanda iki tane böbrek bulunur.

verilen ifadelerden hangileri doğrudur?

- A) Yalnız I
 B) Yalnız II
 C) I ve III
 D) I, II ve III

4. Sindirime uğrayan besin maddeleri ve organlar tablosu aşağıda verilmiştir.

	Ağız	Mide	İnce bağırsak
Karbonhidrat			
Protein			
Yağ			

Tabloda besin maddelerinin sindirimini başlattığı organa ▲ işareti, besin maddelerinin sindirimlerinin bittiği organa ise ■ işareti konulduğunda tablonun görünümü hangi seçenekteki gibi olur?

- A)

▲		■
	▲	■
		▲ ■

 B)

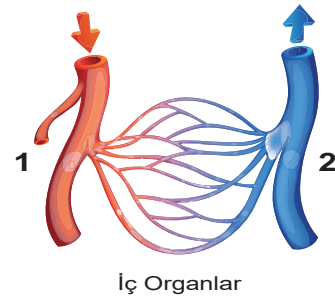
▲	■	
	▲	■
	▲	■
- C)

	▲	■
▲		■
	▲	■

 D)

	▲	■
	▲	■
		▲ ■

5. Aşağıda büyük kan dolaşımını anlatan bir görsel verilmiştir.



İç Organlar

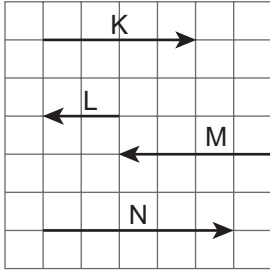
Buna göre;

- I. 1 numaralı damar kalbin sol bölümünden çıkan kanı taşır.
 II. 2 numaralı damar kirli kan taşır.
 III. 1 ve 2 numaralı yapılar atardamardır.

verilen ifadelerden hangileri doğrudur?


- A) Yalnız I
 B) I ve II
 C) II ve III
 D) I, II ve III

6. Aşağıdaki şekilde K, L, M ve N kuvvetleri gösterilmiştir.



Buna göre kuvvetler hakkında verilen ifadelerden hangisi doğrudur? (Kuvvetlerin gösteriminde her bir birim kare 1 N' u göstermektedir.)

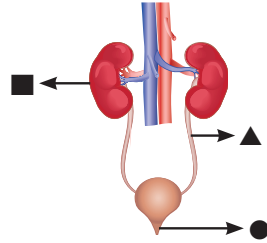
- A) K kuvveti L kuvvetinin dengeleyici kuvvetidir.
 B) K ve M kuvvetlerinin bileşkesi N kuvvetini verir.
 C) M ve N kuvvetlerinin bileşkesi L kuvvetini verir.
 D) L ve M kuvvetleri aynı doğrultudadır.
7. Sınıf arkadaşları olan Mete ve Fatih okul bahçesinde bir etkinlik yapıyorlar.



Mete ve Fatih, ikisine de eşit uzaklıkta bulunan bayrağa doğru aynı anda koşmaya başlıyorlar. **Fatih bayrağa Mete'den daha önce ulaştığına göre hangi seçenekte verilen ifade kesinlikle doğrudur?**

- A) Fatih daha fazla yol almıştır.
 B) Fatih daha hızlı koşmuştur.
 C) Mete daha az yol almıştır.
 D) Mete'nin birim zamanda aldığı yol daha fazladır.

8. Görselde boşaltım sistemini oluşturan yapı ve organlardan bazıları geometrik şekillerle gösterilmiştir.



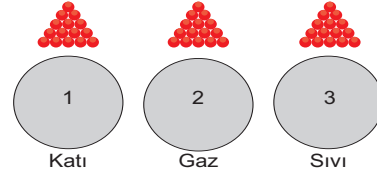
Bu yapı ve organlarla ilgili olarak;

- I. ■ Kanı süzüp atık maddelerden uzaklaştıran bölümdür.
 II. ▲ İdrarın depolandığı bölümdür.
 III. ● İdrarın vücut dışına atıldığı bölümdür.

verilen ifadelerden hangileri doğrudur?

- A) Yalnız I
 B) Yalnız III
 C) I ve III
 D) I, II ve III

9. Ecrin, aşağıda verilen küreleri ve boncukları kullanarak maddenin katı, sıvı ve gaz halinin tanecik modellerini yapacaktır.



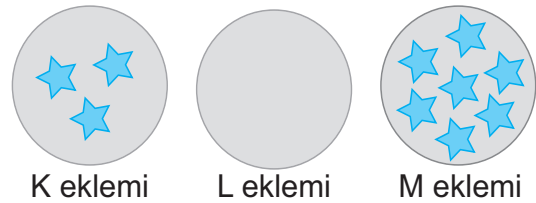
Maddenin tanecik yapısına göre şekilde verilen boncuklar kürelerin üzerine yapıştırılacaktır.

Buna göre 1, 2 ve 3 numaralı kürelere yapıştırılan boncukların arasındaki uzaklık sıralaması hangi seçenekteki gibi olabilir?

- A) $1 > 2 > 3$
 B) $2 > 3 > 1$
 C) $3 > 2 > 1$
 D) $1 = 2 = 3$

ISPARTA ÖLÇME DEĞERLENDİRME MERKEZİ

10. Tolga ve arkadaşları eklemleri hareket yeteneklerine göre sınıflandırmak için bir etkinlik tasarlarlar. Etkinliklerine ait görsel aşağıda verilmiştir.



Etkinlikte K, L ve M eklemlerini temsil edecek küreler çizerler. Daha sonra ellerinde bulunan yıldızları eklemlerin hareket yeteneklerine göre kürelerin içerisine dağıtırlar.


Etkinlik kuralı: Hareket yeteneği fazla olan eklem daha fazla yıldız alır.

Buna göre etkinlikteki K, L ve M eklemleri hangi seçenekte verilen eklemler olabilir?

K Eklemi **L Eklemi** **M Eklemi**

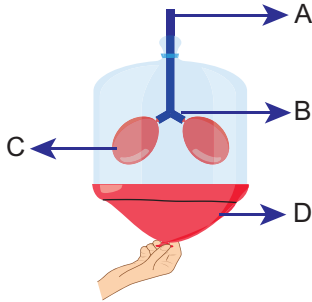
- A) Omur Kafatası Bacak
 B) Bacak Kafatası Omur
 C) Omur Bacak Kafatası
 D) Kafatası Bacak Dirsek

- 11 Şekildeki kapların herbirine eşit kütleli ancak farklı boyutlardaki et parçaları, su ve mide öz suyu eklenmiştir. Bir süre sonra kaplardaki sindirim en hızlı birinci kaptaki en yavaş üçüncü gerçekleşmiştir.



Bu etkinliğin sonucunda, aşağıdaki bilgilerden hangisine ulaşamaz?

- A) Kimyasal sindirimin hızlı gerçekleşebilmesi için fiziksel sindirime ihtiyaç vardır.
 B) Besin maddelerinin temas yüzeyi arttıkça enzimlerin etki hızı artar.
 C) Proteinlerin kimyasal sindirimi ince bağırsakta tamamlanır.
 D) Sindirilecek besinlerin büyüklüğü sindirim hızını etkiler.
12. Aşağıda solunum sistemi modeli verilmiş ve bu modelde bazı bölümler harflerle gösterilmiştir.




Harflerle temsil edilen organ ve yapıların özellikleri hangi seçenekte doğru verilmiştir?

- A) C'nin kıkırdak halkalardan oluşan bir yapısı vardır.
 B) A yapısı, B yapısının dallara ayrılması ile oluşur.
 C) D yapısının şekli normalde düzdür, kasıldığı zaman kubbeleşir.
 D) C organının içerisinde kan oksijenle zengin hale getirilir.
13. ▲'in yapısındaki kaslar, yapısal olarak bacak kaslarımızla, çalışma prensibi açısından ise midemizdeki kaslarla benzerlik gösterir.

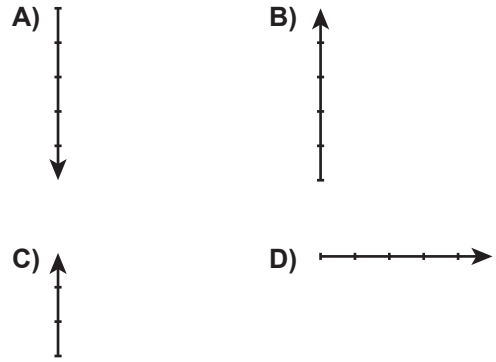
İfadedeki ▲ yerine hangi seçenekte verilen organ yazılmalıdır?

- A) Kalp
 B) İnce bağırsak
 C) Mide
 D) Diyafram

14. Buse öğretmen kuvvetin özelliklerini anlattıktan sonra öğrencilerinden görseldeki kutuya "Kuzey-güney doğrultusunda, kuzey yönünde 5 N luk kuvvet uygulayın." demiştir.




Buna göre hangi seçenekteki kuvvet, öğretmenin öğrencilerinden istediği kuvvettir? (Her birim 1 N büyüklüğündedir.)



ISPARTA ÖLÇME DEĞERLENDİRME MERKEZİ


15. Aşağıdaki resimde bir grup öğrenci halat çekme yarışını yapıyor. Resimde bazı çocukların uyguladığı kuvvetler belirtilmiş ancak Yiğit ve Umut'un uyguladığı kuvvetler belirtilmemiştir.



Yiğit ve Umut seçeneklerde verilen kuvvet değerlerinden hangilerini uygularlarsa yarışma berabere biter ?

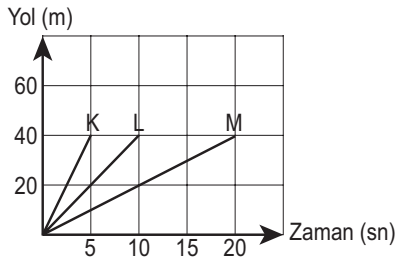
	Yiğit	Umut
A)	35 N	25 N
B)	20 N	45 N
C)	15 N	25 N
D)	25 N	5 N

16. Aşağıda suyun hal değişimi ile ilgili bir resim verilmiştir.



Resimdeki maddeler ve hal değişimleriyle ilgili hangi seçenekte verilen bilgi doğrudur?

- A) Madde ok yönündeki değişimler için ısı vermiştir.
 B) Su buharının taneciklerinin hareketi diğer taneciklerin hareketinden daha hızlıdır.
 C) Buz suya dönüşürken tanecikler arası mesafe azalır.
 D) Suyun tanecikleri sadece titreşim hareketi yapar.
17. Aşağıda K, L ve M hareketlilerine ait grafikler verilmiştir.



Hareketlilerle ilgili hangi seçenekteki ifade doğrudur?


- A) Araçların birim zamanda aldıkları yol miktarları aynıdır.
 B) Sürati en fazla olan araç L aracıdır.
 C) K ve M araçlarının sürati aynıdır.
 D) Eşit sürede L aracı M aracından daha fazla yol alır.
18. Görselde bir cisme etki eden F kuvveti gösterilmiştir.



F kuvvetinin özellikleriyle ilgili hangi seçenekte verilen ifade hatalıdır? (Her birim 1 N büyüklüğündedir.)

- A) Kuvvet Doğu-Batı doğrultusundadır.
 B) Kuvvetin büyüklüğü 3 N'dur.
 C) Kuvvet batı yönündedir.
 D) Kuvvet cismi hareket ettirebilir.

19. Ezgi görseldeki oyun alanında Güneş sistemiyle ilgili bir oyun oynamaktadır. Amacı astronotun istediği yere, uzay mekiğini götürmektir. Ezgi'nin astronotu istediği yere götürebilmesi için kod bloklarını kullanması gerekmektedir. Oyun başlangıç noktasından ok yönünde başlamakta ve oyun alanındaki her kare bir adımı temsil etmektedir.



Ezgi'nin oyunu başarılı bir şekilde tamamlaması için kullanması gereken kod blokları hangi seçenekte verilmiştir?

- A) Başladığında
 2 adım git
 Yönüne Dön
 1 adım git
- B) Başladığında
 3 adım git
 Yönüne Dön
 2 adım git
- C) Başladığında
 3 adım git
 Yönüne Dön
 4 adım git
- D) Başladığında
 2 adım git
 Yönüne Dön
 1 adım git

20. Panoda bir maddeye ait özellikler verilmiştir.

- Tanecikleri titreşim, öteleme ve dönme hareketi yapar.
- Bulduğu kabın hacmini tamamen doldurur.

Özellikleri verilen bu madde aşağıdakilerden hangisi olabilir?

- A) Hava
 B) Su
 C) Tahta
 D) Alkol

FEN BİLİMLERİ TESTİ BİTTİ.
 CEVAPLARINIZI KONTROL EDİNİZ.

1. Kılınışları yönüyle bazı namazlar tek başına kılınabileceği gibi cemaatle de kılınabilir. Bazı namazlar ise sadece cemaatle kılınabilir. Yüce Allah Müslümanları birlik beraberliğe teşvik için bazı namazları cemaatle kılmayı zorunlu tutmuştur. Kişinin toplumdandan soyutlanmaması, müslüman kardeşinin acısına ortak olma, sevinçlerini paylaşma gibi yönlerden cemaatle namaz sosyal işlevi olan bir ibadettir.

Verilen öncüllerden hareketle şıklarda yer alan namazlardan hangisi cemaatle kılınıp kılınmaması yönüyle diğerlerinden farklıdır?

- A) Cenaze namazı
B) Cuma namazı
C) Bayram namazı
D) Teravîh namazı

2.

- I. Topraktan yaratılmıştır
II. İlk insandır
III. Eşi Hz. Hacer'dir.
IV. Habil ile Kabil adında iki oğlundan söz edilmektedir.

Hız. Âdem'le (a.s) ilgili verilen bilgilerden hangileri doğrudur?

- A) I ve II
B) III ve IV
C) I, II ve III
D) I, II ve IV

3. İsrail oğullarına gönderilen Peygamberlerden biri de Zekeriya (a.s)'dır. Zekeriya peygamber, O zamanların Yahudilerinin de değer verdikleri Beyt-il Makdis'te taptıkları putları bırakarak Allah (c.c)'ın varlığına iman etmeleri yönünde tebliğde bulunan bir peygamberdir. .

Metne göre Zekeriya (a.s) Peygamberin tebliği neye yöneliktir?

- A) Namaz
B) Tevhid
C) Doğruluk
D) İbadet

4.

I	Hız. Dâvud (as)	a	Zebur
II	Hız. Musa (as)	b	İncil
III	Hız. İsâ (as)	c	Tevrat
IV	Hız. Muhammed (sav)	d	Kur'ân-ı Kerim

Kutsal kitap ve Peygamber eşleştirmelerinden hangileri yer değiştirirse tablodaki bilgilerin tamamı doğru olur?

- A) II ve IV
B) I ve III
C) II ve III
D) I ve II

5. Allahım! Senden yardım isteriz, günahlarımızı bağışlamamı isteriz, razı olduğun şeylere hidayet etmeni isteriz. Sana inanırız, sana tevbe ederiz. Sana güveniriz. Bize verdiğin bütün nimetleri bilerek seni hayır ile överiz. Sana şükrederiz. Hiçbir nimetini inkar etmez ve onları başkasından bilmeyiz. Nimetlerini inkar eden ve sana karşı geleni bırakırız. Allahım! Biz yalnız sana kulluk ederiz. Namazı yalnız senin için kılarız, ancak sana secde ederiz. Yalnız sana koşar ve sana yaklaştıracak şeyleri kazanmaya çalışırız. İbadetlerini sevinçle yaparız. Rahmetinin devamını ve çoğalmasını dileriz. Azabından korkarız, şüphesiz senin azabın kafirlere ve inançsızlara ulaşır.

Kunut dualarının anlamını bilen bir müslümandan hangi davranışı sergilemesi beklenmez?

- A) Yardımı yalnızca Allah'tan beklemesi
B) Her zaman Allah'a şükretmesini
C) Yalnızca Allah'a kulluk etmesini
D) Nimetleri işvereninden bilmesini

6. Namazlar Farz, Vacip ve Sünnet olmak üzere hüküme göre çeşitli sınıflara ayrılabilir

Buna göre hüküm ve namaz eşleştirmelerinden hangisi yanlıştır?

	NAMAZ	HÜKMÜ
A)	Beş vakit namaz	Farz
B)	Bayram namazı	Sünnet
C)	Cenaze namazı	Farz
D)	Teravih namazı	Sünnet

7.



İlhan'ın namaz esnasında resimde verilen oturuşu sırasında şıklardaki dualardan hangisini okumaması doğru olur?

- A) Tahiyat Duası
B) Salli ve Barik Duaları
C) Kunut Duaları
D) Rabbenâ Duâları
8. Namaz esnasında hangi davranışı yaparsak hataya düşmüş oluruz?
- A) Esnemek
B) Ayetlerin anlamlarını düşünüp ağlamak
C) Namaz esnasında gülmek
D) Namazı Allah'ın huzurunda olma bilinciyle kılmak

9. Namazın hazırlık şartlarından hangisi gusûl abdestli ve namaz abdestli olmayı ifade eder?

- A) Hadesten taharet
B) Necasetten taharet
C) Setr-i avret
D) Niyet

10. Abdesti bozan durumlardan hangisi yanlış verilmiştir?

- A) Bayılmak
B) Bir yerin kanaması
C) Bir şey yiyip içmek
D) Yellenmek

11. Guslûn farzları hangi şıkta doğru olarak verilmiştir?

- A) Ağza ve Burna su vermek, bütün vücudu yıkamak
B) Ağza ve burna su vermek, yüz kol ayakları yıkamak
C) Bütün vücudu yıkamak başın dörtte birine mesh vermek
D) Eller, kollar, yüz ve ayakları yıkamak, başa mesh vermek

12. Namazın hazırlık şartlarından hangisi maddi temizliği hedefler?

- A) Setr-i Avret
- B) Necasetten taharet
- C) İstikbâl-i Kible
- D) Vakit

13. Namazın hazırlık ve kılınış şartlarını öğrenen Elif hangisinin açıklamasında hataya düşmüştür?

- A) Kıyam: Ayakta bir süre beklemek demektir.
- B) Kıraat: Namazda Kur'ân'dan belli bir bölüm okumaktır.
- C) Rukû: Namazda bir süre eğilmektir.
- D) Kade-i Ahire: Gusûl abdesti almak demektir.

14. Namaz mü'minin miracıdır. Günde beş vakit Allah'la buluşan Müslümanın kulluk şuuru daima canlı tutulur. Beş vakit nehrin kenarında yıkanan bir kişi gibi namaz kılan mü'minde hem maddi hem manevi kirlere arınır. Namaz insana zamanın kıymetini öğretir. Namaz sevgiliyle buluşma, ona içini dökmedir.

Bu metne en uygun başlık hangisi olmalıdır?

- A) Namazın insana kazandırdıkları
- B) Namaz ve benlik
- C) Namaz ve şuur
- D) Namazın önemi

15. Atacem: Duygu dünyamızı zenginleştirir.

Aygün: Davranışlarımızda bilinçli olmamızı sağlar
Ege: Birlikte yaşama ve dayanışma bilincimizi geliştirir.

Nisanur: Temizlik alışkanlığı kazandırır.

Aybüke: Zamanı iyi kullanmayı öğretir.

Öğrencilerin namazla ilgili söylediklerinden bir metin oluşturulduğunda, bu metne en uygun başlık hangisi olmalıdır?

- A) Namazın insana kazandırdıkları
- B) Namaz ve temizlik
- C) Namaz ve benlik
- D) Farz olan namaz

16. Allah (c.c.) insanlara, emir ve yasaklarını Peygamberleri aracılığı ile bildirmiştir.

Buna göre hangisi Allah'ın insanlara gönderdiği Peygamberlere verilen isimlerden birisi değildir?

- A) Elçi
- B) Ümmet
- C) Nebi
- D) Resûl

17. Topluma örnek olma onları iyiye ve güzele yönlendirme görevi bulunan peygamberlerin bazı önemli sıfatları vardır. Bu sıfatlar; doğruluk, güvenilirlik, akıllı ve zeki olmak, günah işlememek ve Allah'tan aldıkları mesajları olduğu gibi insanlara bildirmek şeklinde özetlenebilir.

Peygamberlerin özelliklerinin verildiği metinde 'akıllı ve zeki olmak' şıklardan hangisinde yer alırsa doğru cevap olur?

- A) Emânet
- B) Fetânet
- C) Sıdk
- D) İsmet

18. Gönderilen son ilahi kitaptır. Kıyamete kadar korunacaktır. Daha önce gönderilen İlahi kitaplar tahrif olduğu halde o hiçbir bozulmaya uğramamış ve uğramayacaktır.

Verilenlerden hareketle hangi şıkta tarif edilen kutsal kitap yer almaktadır?

- A) İncil
- B) Kur'ân-ı Kerim
- C) Zebur
- D) Tevrat

19. İnsanlık tarihi boyunca Yüce Allah her kavme bir Peygamber göndermiştir. Bazı peygamberlere İlahi kitap verilirken bazılarında sahifeler verilmiştir. Bazı Peygamberlere ise herhangi bir kitap ya da sahife verilmemiştir.

Buna göre kendisine kitap verilmeyen peygamberlere gönderilen mesajların bulunduğu sahifelere ne ad verilir?

- A) Kutsal Kitap
- B) İlahi mesaj
- C) Kitab-ı Mukaddes
- D) Suhuf

20. Yüce Allah her millete merhameti gereği bir uyarıcı göndermiştir. Gönderilen Peygamberlere öğretmenlik vazifesi verilmiş aynı zamanda hem peygamberlere hem de insanlara rehber olması için ilahi mesajlar (vahiyler) gönderilmiştir. Bu mesajlar Allah'ın emir ve yasaklarından oluşmaktadır. İnsanlık bir gemide yol alırken bu geminin kaptanları Peygamberler rehberleri ise vahiylerdir.

Buna göre hangi ifade metinle çelişir?

- A) Vahyin muhatabı yalnızca Peygamberlerdir
- B) Vahyin uygulayıcısı Peygamberlerdir
- C) Vahiy insanlar için bir pusula gibidir
- D) Vahiy insanlara yol gösterir

**DİN KÜLTÜRÜ VE AHLAK BİLGİSİ TESTİ BİTTİ
CEVAPLARINIZI KONTROL EDİNİZ.**

SINAV BAŞLAMADAN AŞAĞIDAKİ UYARILARI MUTLAKA OKUYUNUZ!

1. Öğrenciler, sınav kurallarına ve salon görevlilerinin tüm uyarılarına uymak zorundadırlar.
2. Cevap kâğıdındaki isminizin doğruluğunu kontrol ediniz. Bilgiler size ait değilse veya cevap kâğıdı kullanılmayacak durumdaysa sınav görevlilerine bildiriniz.
3. Sınav başladıktan sonra öğrencilerin salon görevlileri ve birbirleri ile konuşmaları, kalem, silgi vb. şeyleri istemeleri yasaktır.
4. Değiştirmek istediğiniz bir cevabı, yumuşak silgiyle cevap kâğıdını yıpratmadan temizce siliniz ve yeni cevabınızı kodlayınız.
5. Cevaplarınızı, cevap kâğıdındaki ilgili soru numarasını dikkate alarak yuvarlağın dışına taşırmadan kodlayınız.
6. Soru kitapçığının sayfalarını kontrol ediniz, baskı hatası var ise değiştirilmesini sağlayınız.
7. Soru kitapçığı üzerinde yapılabilecek cevap kâğıdına işaretlenmeyen cevaplar değerlendirmeye alınmayacaktır.
8. Soru kitapçığının içindeki boş alanları çözümlerinizi için kullanabilirsiniz.
9. Cevaplamaya istediğiniz sorudan başlayabilirsiniz.
10. Cevabını bilmediğiniz sorular üzerinde fazla zaman kaybetmeden diğer sorulara geçiniz. Zamanınız kalırsa bu sorulara daha sonra dönebilirsiniz.
11. Sınav puanınızın hesaplanmasında sadece doğru cevaplarınız dikkate alınacaktır.
12. Sınav bitiminde, cevap kâğıdını salon görevlilerine teslim ediniz.
13. Sınav sırasında sözlük, hesap makinesi, saat fonksiyonu dışında özellikleri bulunan saat veya çağrı cihazı, cep telefonu, telsiz, radyo ve bilgisayar özelliği bulunan elektronik cihazları yanınızda bulundurmuyunuz.
14. Cevap kâğıdınızı sınav süresince hiçbir öğrencinin göremeyeceği şekilde önünüzde bulundurunuz.
15. Sınav süresince zorunlu haller hariç sınav salonu dışına çıkılmayacaktır.

SINAV GÖREVLİLERİNCE SINAV BAŞLAMADAN ÖNCE ÖĞRENCİLERE YAPILACAK SON UYARI

- Soracağınız bir şey var mı? Varsa, şimdi sorunuz.
- Sınav başladıktan sonra sorularınıza cevap verilmeyecektir.
- Başlama zilini bekleyiniz.

Hepinize Başarılar Dileriz.

Bu sınav, Isparta Milli Eğitim Müdürlüğü, Ölçme ve Değerlendirme Merkezince uygulanmaktadır.

Bu kitapçığın her hakkı saklıdır.

Hangi amaçla olursa olsun, kitapçığın tamamının veya bir kısmının Isparta İl Millî Eğitim Müdürlüğü'nün yazılı izni olmadan kopya edilmesi, fotoğraflarının çekilmesi, bilgisayar ortamına alınması, herhangi bir yolla çoğaltılması, yayımlanması veya başka bir amaçla kullanılması yasaktır. Bu yasağa uymayanlar, doğabilecek cezai sorumluluğu ve kitapçığın hazırlanmasındaki mali külfeti peşinen kabullenmiş sayılır.

ISPARTA ÖLÇME DEĞERLENDİRME MERKEZİ

<http://ispartaodm.meb.gov.tr>

(246) 280 32 55

odm32@meb.gov.tr