

İSPARTA MİLLİ EĞİTİM MÜDÜRLÜĞÜ Ölçme Değerlendirme Merkezi

Türkçe

Matematik

Sosyal Bilgiler

7
sınıf

1. OTURUMU

DESTEKLEME VE YETİŞTİRME KURSLARI DÖNEM SONU KAZANIM DEĞERLENDİRME SINAVI

Adı ve Soyadı :

Sınıfı / Şubesi :

Okulu :

Kitapçık Türü ve Oturum Bilgilerini Optik Forma Kodlamayı Unutmayınız

ÖĞRENCİLERİN DİKKATİNE

- Cevap kâğıdının kendinize ait olup olmadığını kontrol ediniz.
 - Kitapçık türünü cevap kâğıdındaki ilgili alana kodlayınız.
 - Cevap kâğıdı üzerindeki kodlamaları kurşun kalemle yapınız.
- Soru Sayısı : 60
Sınav Süresi : 100

SINAV BAŞLAMADAN ÖNCE KİTAPÇIĞIN ARKA KAPAĞINDAKİ UYARILARI MUTLAKA OKUYUNUZ.

1. I. Çocuk yıllardır görmediği amcasıyla karşılaşınca gözlerine inanamadı.
II. Ölünceye kadar torunu Esmâ'nın adını ağzından düşürmedi.
III. Yan komşusunun tarlasına göz dikti.
IV. Başımı kaldırıp yukarı bakınca şaşkınlıktan ağzım açık kalıyor.

Cümlelerde yer alan deyimlerden hangileri anlam ilişkisi bakımından benzerlik gösterirler?

- A) II ve III
B) I ve IV
C) III ve IV
D) II ve IV

2. Yar Deyince Kalem Elden Düşüyor
Gözlerim Görmüyor Aklım Şaşıyor
Lambada Titreyen Alev Üşüyor
Aşk Kâğıda Yazılmıyor Mihriban

Abdurrahim Karakoç'a ait olan "Mihriban" şiirinin 3. mısrasında hangi söz sanatına başvurulmuştur?

- A) Abartma
B) Konuşturma
C) Benzetme
D) Kişileştirme

3. Verilen cümlelerdeki ikilemelerden hangisi zarf göreviyle kullanılmamıştır?

- A) Dedem yazları yaylada serin serin yaşıyor.
B) Bu konu hakkında az çok bilgim var.
C) Kardeşi parkta düşse kalka yürüyordu.
D) Aslı ile Kerem mutlu mesut yaşadılar.

4. (1) Babam işe giderken yine kaza yapmış. (2) Kazada en çok bizim araç zarar görmüş. (3) Polis kaza yüzünden babama üç yüz liralık ceza yazmış. (4) Babam bu cezaya da itiraz edecekmış.

Numaralanmış cümlelerin hangisinde örtülü anlam yoktur?

- A) 4
B) 3
C) 2
D) 1

5. Ön yargılarımız, düşüncelerimize hükmeder dolayısıyla davranışlarımızı kısıtlar. Ön yargılardan oluşan iç seslerimiz bize hep bunu yapamazsın, yaparsan da eline bir şey geçmez gibi cümleler kurar. Biz de beynimize, ben bunu asla yapamam, yapılabilecek olsa başkası zaten çoktan yapardı gibi sinyaller gönderir. Bu sinyalleri hücrelerine işleyen beyin, artık bu işin yapılamayacağını hükümünü verir. Ön yargılar beynimize taktığımız kelepçelerdir.

Bu paragrafından yola çıkarak hangisine ulaşamaz?

- A) Ön yargılar, başarılarımız önünde büyük bir engeldir.
B) Ön yargılar olumlu düşüncelerimizin önüne geçer.
C) Ön yargılar sayesinde beyin hücrelerimiz daha hızlı çalışır.
D) Ön yargılardan kurtulunca düşüncelerimiz özgürleşir.

6. Etrafımızdaki insanların negatif düşünceleri bizim enerjimizi düşürür. Başarılı kişilerin hayatlarını incelediğimizde, hemen hepsinin bu tip negatif düşünceli insanlarla karşı karşıya kaldıkları görülmüş ancak onlar, yılmadan amaçları doğrultusunda azimle ilerlemişler ve hedefe ulaşmışlardır.

Bu parçanın ana fikri aşağıdakilerden hangisidir?

- A) Başarılı olmanın pek çok yolu vardır.
B) Negatif düşünceli insanlar her zaman başarısız olur.
C) Pozitif düşünceler ve kararlılık başarının anahtarıdır.
D) Başarılı olmak için çok çalışmalıyız.

7, 8, 9, 10 ve 11. soruları aşağıdaki metne göre cevaplayınız.

Hayvanat bahçesindeki kanguruyu, her sabah dışarıda gezerken bulan görevliler, kangurunun zıplama yeteneklerini düşünerek tel örgüleri bir metre yükseltirler. Ertesi gün kanguruyu yine dışarıda gezerken bulurlar. Tel örgüleri iki metre daha yükseltirler. Bizim kanguru ertesi sabah yine özgürlüğüne kavuşmuş bir halde hayvanat bahçesinde dolaşmaktadır. Görevliler, tel örgüleri onbeş metreye yükseltmeyi düşünürken, kangurunun komşusu olan deve sorar:

“Kanguru kardeş ne olacak senin bu halin? Tel örgüler yine yükseliyor baksana. Ne zamana kadar devam edecek bu durum?”

Kanguru gülerken cevap verir:

“Görevlilerin, giderken kapımı kilitlemeyi akıl edecekleri zamana kadar devam edecek.”

7. Parçadaki yazım yanlışları aşağıdakilerden hangisiyle düzeltilebilir.

- A) “Onbeş” ifadesi “on beş” yazılarak.
- B) “Kanguru kardeş” ifadesi “Kanguru Kardeş” şeklinde yazılarak.
- C) “Ertesi gün” ifadesi “ertesigün” yazılarak.
- D) “Hayvanat bahçesinde” ifadesi “hayvanat bahçesin’de” yazılarak.

8. Parçadaki altı çizili fiillerden hangisi farklı bir haber kipiyle çekimlenmiştir?

- A) yükseltirler
- B) bulurlar
- C) sorar
- D) yükseliyor

9. Parçaya göre aşağıdaki ifadelerden hangisine veya hangilerine ulaşılabilir?

- 1. Hayatta karşılaştığımız problemleri çözmek için farklı çözümler üretmeliyiz.
- 2. Karşılaştığımız problemin sebebini doğru tespit etmeliyiz.
- 3. Bir problemle karşılaştığımızda farklı çözüm yollarını denemek bize zaman kaybettirir.
- 4. Bakış açımızı değiştirmeden problemleri çözemeyiz

- A) 1,2 ve 4
- B) 3 ve 4
- C) Yalnız 3
- D) 1,3 ve 4

10. Bu metinle ilgili hangisi söylenemez?

- A) Konuşurma sanatına yer verilmiştir.
- B) Deyim kullanılmıştır.
- C) İkilemelere yer verilmiştir.
- D) Kişileştirmeye yer verilmiştir.

11. Metnin ilk cümlesinde geçen “görevliler” kelimesi hikayenin unsurlarından hangisiyle ilgilidir?

- A) Mekan
- B) Şahıs Kadrosu
- C) Zaman
- D) Olay

12. Çocukluk obezitesinde çevresel etmenler içinde ailenin beslenme biçimi ve aktivasyon azlığı bulunmaktadır. Uzun süre televizyon izleyen ve televizyon izlerken yüksek kalorili yiyeceklerin tüketilmesi obeziteyi daha da artırmaktadır. Obezite sıklığı 4 saatten daha fazla televizyon izleyen çocuklarda 1 ya da 1 saatten daha az televizyon izleyen çocuklara göre daha yüksek olarak saptanmıştır.

Bu parçanın konusu aşağıdakilerden hangidir?

- A) Obezitenin zararları
B) Obezite ve televizyon
C) Ülkemizdeki obezite oranları
D) Sağlıklı yaşam

13. (1) Bazı insanlar daha yolun başında pes ederler. (2) İlk başarısızlık onların motivasyonlarını yok eder. (3) Kaybetme korkusu ile baş başa kalırlar. (4) Bugün başarılı insanların hayatlarına baktığınızda, birçok başarısızlıkla baş başa kaldıklarını görürsünüz. (5) Tek farkları asla pes etmemeleridir.

Bu parça iki paragrafa bölünürse ikinci paragraf hangi cümleyle başlar?

- A) 5
B) 4
C) 3
D) 2

14. Fiil kipleri, farklı zaman ve anlamları ifade edecek şekilde kullanılabilir. Buna anlam kayması denir.

Hangi seçenekte açıklamaya uygun örnek vardır?

- A) Yaptığı son hamleyle rakibini köşeye sıkıştırdı.
B) Kaybetme korkusundan en sonunda kurtulmuş.
C) Azimle çalışan her zaman hedefine ulaşır.
D) Günlerden bir gün kasabaya bilge bir adam gelir.

- 15 ve 16. soruları aşağıdaki bilgilere göre cevaplayınız.

Bir okulun ortak sınav takvimi yayınlanmış ve takvime göre 1. Haftada Türkçe, Matematik, Din Kültürü ve Ahlak Bilgisi, Fen Bilimleri, İngilizce ve Sosyal Bilgiler derslerinden Pazartesi, Çarşamba ve Cuma günlerinde günde iki dersten yazılı sınav yapılacaktır.

☞ Pazartesi, Türkçe dersinden yazılı sınav yapılacağı kesin olarak bilinmektedir.

☞ Matematik, dersi yazılı sınavını Çarşamba gün yapmayacaktır.

☞ Fen Bilimleri ve Din Kültürü ve Ahlak Bilgisi derslerinin yazılı sınavları aynı gün yapılacaktır.

☞ İngilizce dersi yazılı sınavı Cuma günü yapılacaktır.

15. Metne göre

- I. Pazartesi
II. Çarşamba
III. Cuma

Matematik dersi yazılı sınavı hangi günler yapılabilir?

- A) I.
B) II.
C) I. Ve II.
D) I. Ve III.

16. Metne göre, hangi seçenek doğrudur?

- A) Pazartesi, İngilizce ve Türkçe sınavı yapılmıştır.
B) Çarşamba, Matematik ve Fen Bilimleri sınavı yapılmıştır.
C) Cuma, yalnızca Din Kültürü ve Ahlak Bilgisi dersi sınavı yapılmıştır.
D) Çarşamba, Fen Bilimleri ve Din Kültürü ve Ahlak Bilgisi sınavı yapılmıştır.

17. Hangi seçenek, kanıtlanabilirlik açısından diğerlerinden farklıdır?

- A) Selanik Mülkiye Rüştüyesinde iken mahallemizdeki Binbaşı Kadri Bey'in oğlu Ahmet askerî rüştiyeye (ortaokul) devam ediyor ve askerî üniforma giyiyordu.
- B) Turgut UYAR'ın yazdığı "Göğe Bakma Durağı" adlı şiir kitabı yüz sayfadan oluşan ve herkesin zevkle okuduğu bir kitaptır. Kitabın 29. Baskısı yeşil renklidir.
- C) Sonbahar mevsiminde başlayan yolculuk yaklaşık dört ay sürmüştür. Planlanan tüm limanları dolaştıktan sonra yolcularını başladığı yere geri getirmiştir.
- D) Dünyanın Kuzey ve güney kutuplarına yakın bölgelerinde bazı geceler gökyüzünde renkli ışıklar görülür. Bu ışıklara "şafak" anlamına gelen aurora (arora) denir

18. Serçekuş birdenbire aklının karıştığını, deminden beri kurduğu düşünce sisteminin sarsıldığını ve ayaklarının altında toprağın sallanır gibi olduğunu hissetti. Bunları bırakarak dam toprağını gagaladı. Bir kırıntı yem mi yoksa toprak parçası mı tadını anlamadan yuttu.

Metnin dil ve anlatımıyla ilgili verilenlerden hangisi doğrudur?

- A) Deyim kullanılmamıştır.
- B) Bilgilendirici bir yazıdır.
- C) Kişileştirme yapılmıştır.
- D) Benzetme yapılmıştır.

19. Hangi seçenekte durum bildiren bir fiil kullanılmıştır?

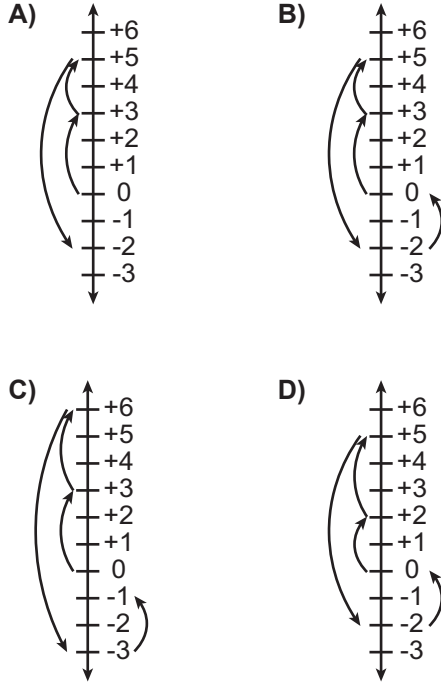
- A) Çocuk, eliyle kadını gösterdi.
- B) Bana alındığını biliyorum.
- C) Gülerek gönlümü almanı bekliyorum.
- D) Çocuk, başını yavaşça kaldırıp gülümsedi.

20. "Hayatım boyunca defalarca başarısız oldum ve işte tam da bu yüzden başarılı oldum."
Böyle düşünen biri için hangisi söylenebilir?

- A) Hayalperest
- B) Üşengeç
- C) Mücadeleci
- D) Umursamaz

1. Ali okul çıkışı aynı apartmanda oturan arkadaşıyla ödev yapmak için zemin kattan bindiği asansörün 3 numaralı tuşuna basarak Selimlere gidiyor. Ödevini bitirdikten sonra 2 kat yukarda bulunan evine çıkıyor. Arkadaşının haber vermesi ile -2 .kattaki bisikletini alarak zemin katta bulunan çıkıştan arkadaşı ile buluşmak üzere apartmandan ayrılıyor.

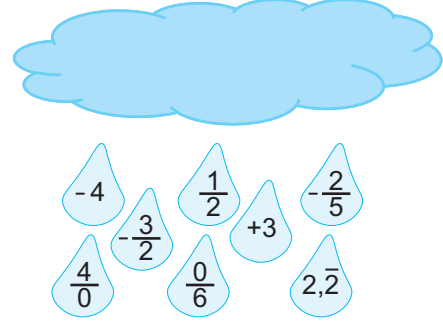
Buna göre Ali'nin asansörde aldığı yolu hangi seçenek doğru göstermiştir?



2. Aşağıda verilen ifadelerden hangisi kesinlikle doğrudur?

- A) Bir sayının 1'e bölümü toplama işlemine göre tersine eşittir.
 B) Bir sayı 0 ile toplandığında sonuç her zaman 0 dır.
 C) Pozitif bir rasyonel sayının çarpma işlemine göre tersi negatif bir rasyonel sayıdır.
 D) Pozitif bir rasyonel sayının toplama işlemine göre tersi ile çarpıldığında sonuç her zaman negatif bir rasyonel sayıdır.

3. Aşağıdaki buluttan damlayan bazı damlacıklar verilmiştir. Bu damlacıkların içinde rasyonel sayı olanları bitkilerin üzerine olmayanlarda toprağa düşmektedir.



Kaç tane damlacık bitkilerin üzerine düşmüştür?

- A) 8
 B) 7
 C) 6
 D) 1

ISPARTA ÖLÇME DEĞERLENDİRME MERKEZİ

4. Mehmet kardeşinin yaşının iki katının beş eksiğinin üç katından kardeşinin yaşını çıkardığında beş sonucunu bulmuştur.

Buna göre Mehmet'in kardeşinin yaşı kaçtır?

- A) 1
 B) 2
 C) 3
 D) 4

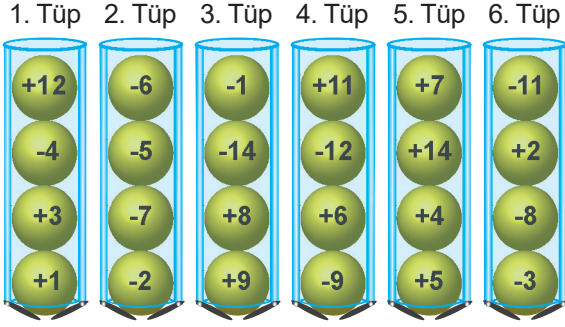
- 5.

7 - 12 - 17 - 22 - ...

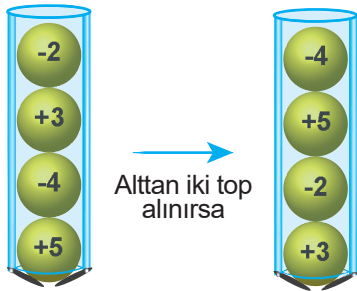
Şeklinde verilen bir sayı örüntüsünün genel terimini veren ifade aşağıdakilerden hangisidir?

- A) $3n+4$
 B) $4n+3$
 C) $5n+2$
 D) $2n+5$

6. Şekildeki tüplerde bulunan toplar sırayla alttan alınarak en üste konuluyor.



Örneğin;



Buna göre hangi işlemler yapılırsa tüplerde yatay hizada bulunan sayılar birbirlerinin toplamaya göre tersi olur?

- A) 1. tüpten 1 sayı, 3. tüpten 2 sayı
 B) 2. tüpten 2 sayı, 3. tüpten 1 sayı
 C) 3. tüpten 3 sayı, 6. tüpten 2 sayı
 D) 1. tüpten 1 sayı, 2. tüpten 2 sayı
7. Bir sınıfta bulunan öğrenciler sıralara ikişer ikişer otururlarsa tüm sıralar doluyor. Üçer üçer oturduklarında 5 sıra boş kalıyor.

Buna göre sınıfta kaç sıra vardır?

- A) 30 B) 15
 C) 10 D) 5

8. Matematik öğretmeni tahtaya bazı sorular yazmıştır. Bu işlemleri defterine çözen bir öğrencinin verdiği cevaplar şunlardır.

1. Soru: $\left(\frac{4}{3}\right)^2 = \frac{4}{3} + \frac{4}{3} = \frac{8}{3}$

2. Soru: $\left(-\frac{1}{3}\right)^2 = \left(-\frac{1}{3}\right)\left(-\frac{1}{3}\right)\left(-\frac{1}{3}\right) = \left(+\frac{1}{27}\right)$

3. Soru: $\left(-\frac{4}{5}\right)^2 = \left(-\frac{4}{5}\right)\left(-\frac{4}{5}\right) = \left(\frac{16}{25}\right)$

Buna göre hangi sorularda hata yapılmıştır?

- A) 1 ve 2
 B) 1 ve 3
 C) 2 ve 3
 D) 1,2 ve 3

- 9.

FİYAT LİSTESİ	
Su	1 TL
Ayran	2 TL
Tost	3 TL
Portakal suyu	4 TL

Ali, haftalık harçlığının $\frac{3}{10}$ ' ünün $\frac{1}{3}$ ' i ile kantinden su alabilmektedir. Buna göre harçlığının 0,2' si ile kantinden hangi ürünü alabilir?

- A) Su B) Ayran
 C) Tost D) Portakal Suyu

10. Aşağıda bazı ifadeler verilmiştir.

I. $0,12 = \frac{3}{5}$

II. $0,1\bar{2} = \frac{11}{90}$

III. $0,1\bar{3} = \frac{2}{15}$

Verilen ifadelerden hangileri doğrudur?

- A) I ve II B) II ve III
C) I ve III D) I,II ve III

11. En hızlı koşan kim yarışması yapılıyor. Bunun için öğrencilerin aynı zamanda koştukları mesafeler not

ediyorlar. Ali $\frac{37}{5}$ m, Mehmet $7,1\bar{4}$ m, Hasan $\frac{653}{90}$ m ve Erdem $\frac{356}{45}$ m olarak ölçüm yapılıyor.

Buna göre en hızlı kim koşmuştur?

- A) Ali B) Mehmet
C) Hasan D) Erdem

12. Aşağıda verilen işleminin sonucu kaçtır?

$$\left(\frac{1}{3} + \frac{2}{4}\right) - \left(\frac{2}{3}\right)^2$$

- A) $\frac{1}{4}$ B) $\frac{-5}{21}$
C) $\frac{23}{18}$ D) $\frac{7}{18}$

13. Aşağıda verilen işlemin sonucu kaçtır?

$$\frac{1 - \frac{3}{5}}{\frac{1}{4} + \frac{3}{20}}$$

- A) $\frac{4}{25}$ B) 1
C) $\frac{12}{5}$ D) 4

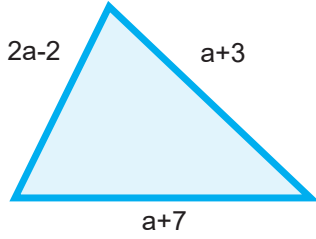
14. Eni 12 m ,boyu 4x m olan dikdörtgen şeklindeki bir seranın alanı kaç m² dir?

- A) 24 + 8x
B) 3x
C) 12 - 4x
D) 48x

15. $\frac{13}{90}$ rasyonel sayısı aşağıdakilerden hangisine eşittir?

- A) 0,13 B) $0,1\bar{3}$
C) $0,1\bar{4}$ D) $0,1\bar{4}$

16. Şekilde verilen üçgenin çevresi bir karenin çevre uzunluğuna eşittir.



Karenin bir kenar uzunluğunu veren cebirsel ifade aşağıdakilerden hangisidir?

- A) $4a + 8$
 B) $a + 8$
 C) $4a + 2$
 D) $a + 2$
17. İki basamaklı en büyük tek tam sayının,iki basamaklı negatif en büyük tek tam sayıya bölümü kaçtır?
- A) +1
 B) -1
 C) +9
 D) -9

18. $-2^2+(+3)^3-(-1)^2$ işleminin sonucu kaçtır?

- A) 22
 B) 24
 C) 30
 D) 32

- 19.

X	+3	-5	+5
-4	a	d	
+6		b	
+4			c

Verilen çarpma tablosuna göre aşağıdaki işlemin sonucu kaçtır?

$$a.(b + c - d)$$

- A) 360
 B) -360
 C) 120
 D) -120

20. Defne 400 soruluk ünite değerlendirme testinden 1.gün $2x-5$ tane, 2.gün $3x-10$ tane,3.günde x tane soru çözmüştür.

Buna göre testteki kalan soruları gösteren cebirsel ifade aşağıdakilerden hangisidir?

- A) $415 - 6x$
 B) $415 + 6x$
 C) $385 + 6x$
 D) $6x + 400$

1. Burçin Öğretmen nöbetçi olduğu koridorda zil çalınca öğrencilere sınıfa girmelerini söylemiştir. Sınıfın dışında bekleyen bir öğrenciye gülümseyerek kapıyı işaret etmiştir.

Buna göre;

- I. Sözlü iletişim
- II. Sözsüz iletişim
- III. Yazılı iletişim

Burçin öğretmeni belirtilen hangi iletişim yollarını kullanmıştır?

- A) I-II
- B) II-III
- C) I-III
- D) I-II-III

2. Medya: gazete, dergi, radyo, televizyon ve genel ağ için kullanılan terimdir. Medya sayesinde bilgiler kısa sürede yayılmakta ve bir toplumda meydana gelen değişim bu sayede diğer toplumları da etkilemektedir.

Açıklamalarda medyanın hangi özelliğinden bahsedilmektedir?

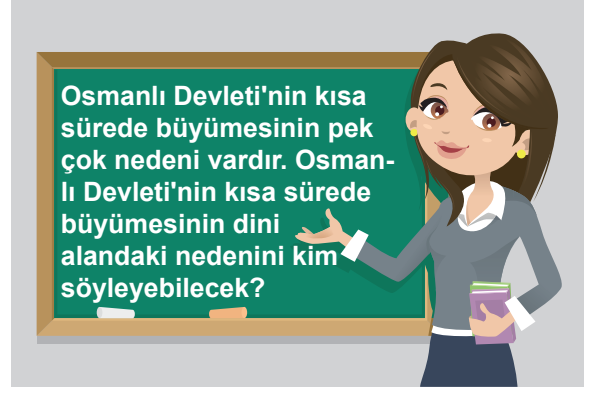
- A) Eğlendirme işlevinin olduğundan.
- B) Toplumsal değişim ve etkileşime neden olduğundan.
- C) Gazete ve radyodan oluştuğundan.
- D) Geçmiş ile günümüz arasında birleştirici özellik taşıdığından.

3. Osmanlı Devleti'nin sınırlarının genişlemesinde ve fetihlerin gerçekleşmesinde güçlü ekonomik ve toplumsal yapısının etkisi büyüktür. Osmanlı Devleti'nde yönetici ve askeri sınıf dışında tüccarlar, esnaf, köylüler ve konargöçerlerden oluşan "reaya" adlı sınıfta vardı.





Verilen bu bilgilere göre Osmanlı Devleti'nin ekonomik faaliyetleri arasında aşağıdakilerden hangisi yoktur?

- A) Ticaret
- B) Tarım
- C) Sanayi
- D) Hayvancılık

4.



Öğretmenin sorduğu soruya hangi öğrenci doğru cevap vermiştir?

- A)  Osman: Önemli ticaret yollarına sahip olması
- B)  Meltem: Bizans'a karşı gaza ve cihat anlayışına sahip olması
- C)  Ahmet: Bir uç beyliği olarak kurulması
- D)  Esra: Bizans'ın iç karışıklık yaşaması

5.

- I. Orta Çağ sona erdi Yeni Çağ başladı.
- II. Doğu Roma İmparatorluğu yıkıldı.
- III. Ticaret yolları el değiştirdi.

Verilen bu gelişmeler hangi olay sonucu ortaya çıkmıştır?

- A) Fransız İhtilali
- B) Kırım'ın fethi
- C) İstanbul'un fethi
- D) Sanayi İnkılabı

6. Görselde Fatih Sultan Mehmet'in İstanbul'u fethinden sonra Ortodoks Patriği olarak atadığı Gennadios 'a verdiği ferman anlatılmaktadır. Fermana patrikhaneye çok geniş haklar tanınmıştır.



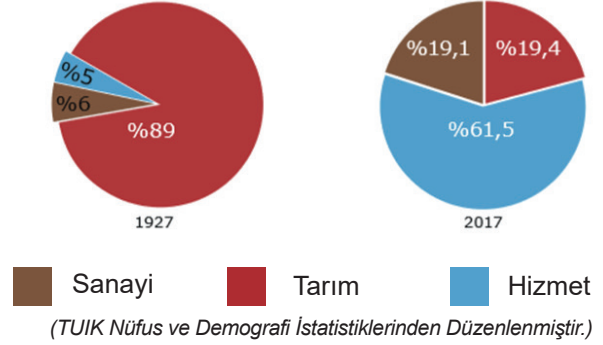
Bu bilgilerden yola çıkarak Fatih Sultan Mehmet'in hangi sistemi uygulamaya çalıştığını söyleyebiliriz?

- A) Tımar Sistemi
B) Devşirme Sistemi
C) Pençik sistemi
D) Millet sistemi
7. 1932 yıllarında henüz yerleşimin olmadığı, kuş uçmaz kervan geçmez çorak bir yere Ahmet KOŞAR bir bakkal dükkanı açar. Amacı tramvayla yolculuk yapan yazlıkçılara satış yapmaktır. Tramvayın penceresinden bakkalı görenler burada iş yapılmayacağını düşünerek Ahmet Koşar'a "şaşkın bakkal" yakıştırmaları yaparlar. Zamanla işleri büyüyen bu girişimci dönemin en önemli iş adamlarından biri olur. Bu yerin ismi günümüzde, İstanbul'un en ünlü semtlerinden biri olan Şaşkınbakkal Senti olarak geçmektedir. Bugün bu semtten ev almak ise New York'tan çok daha pahalıdır.

Anlatılan bu gerçek olayda yerleşmeyi etkileyen hangi faktörler bahsedilmektedir?

- A) Turizm ve ulaşım
B) Sanayi ve iklim
C) Yer şekilleri ve bitki örtüsü
D) Tarım ve hayvancılık

- 8.

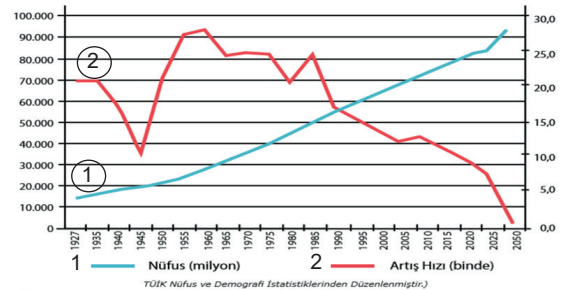


Yukarıda 1927-2017 yılları nüfus sayımlarına göre Türkiye'de çalışan nüfusun iş kollarına dağılım grafiği verilmiştir.

Bu verilere göre hangi bilgiye ulaşırız?

- A) 2017 yılında ülkemizde tarım alanları azalmıştır.
B) Hizmet sektöründe çalışan nüfusun çoğu Ankara'da yaşamaktadır.
C) 1927 yılında tarım sektöründe çalışan nüfus %90'a yaklaşmıştır.
D) 2017 yılında hizmet sektöründe çalışan nüfus diğer iki sektörde çalışan nüfusun toplamından azdır.

- 9.



Sosyal Bilgiler Öğretmeni 7.sınıf öğrencisi Sevgi'ye bu grafikteki bilgilerden yola çıkarak bazı sorular sormuştur. Sevgi hangi soruyu yanlış yapmıştır?

	VERİLER	D	Y
A)	Nüfus artış hızında bir azalma yaşansa da nüfusun artışı devam etmektedir.	✓	
B)	Türkiye'de nüfus artış hızının en yüksek seviyeye ulaştığı yıl 1960'tır.	✓	
C)	Nüfus artış hızında sürekli yavaşlama yaşanmaktadır.	✓	
D)	Kadın nüfusu erkek nüfusuna göre artmıştır.		✓

10. Sen dili ile olumsuz duygularını dile getirmek, eleştirmek ve hoşnutsuzluğunu belirtmek karşı tarafta çok olumsuz duygular ve sonuçlar doğurur. Kişinin direnmesine, karşı gelmesine kızmasına ve dolayısıyla söz dinlememesine yol açar. Ben dili direnç ve baş kaldırmayı daha az ortaya çıkarır ve davranışın değişmesinde karşı tarafa sorumluluk verir. Ben dili kişinin o anda, karşılaştığı durum veya davranış karşısında kişisel tepkisini duygu ve düşüncelerini açıklayan bir ifade tarzıdır.

Verilen bu bilgilere göre **Sen dili** ve **Ben diline** verilen örneklerin hangisinde hata yapılmıştır?

	SEN DİLİ	BEN DİLİ
A)	Çok dağınıksın! Çok kabasın	Evi dağınık görünce kendimi kötü hissediyorum
B)	Bunu hemen göndermelisin	Yazıyı hemen gönderirsen çok sevineceğim.
C)	Hep geç kalıyorsun	Eve geç gelmen beni endişelendiriyor
D)	Davranışın karşısında çok üzüldüm.	Hatalısın beni hep üzüyorsun

11.

Kağıt ve Matbaanın öğrenilmesiyle birlikte okur-yazar oranının artması

Bilim ve sanat adamlarını destekleyen "mesen" sınıfının varlığı

?

Eski Helen ve Roma dönemine ait eserlerin tercüme edilmesi.

İtalya'ya kaçan bilim adamlarının yapmış oldukları çalışmalar

Bu şemada soru işaretiyle gösterilen yere yazılabilecek en uygun başlık hangisidir?

- A) Rönesans'ın nedenleri
B) Reform'un nedenleri
C) Coğrafi Keşifler'in nedenleri
D) Sanayi İnkılabı'nın nedenleri

12. İletişimle ilgili hak ve sorumluluklarımız anayasa ile güvence altına alınmıştır. Bu haklardan bazıları şunlardır:

- ☞ Madde 20: Özel hayatın gizliliği.
☞ Madde 25: Düşünce ve kanaat özgürlüğü.
☞ Madde 22: Haberleşme hürriyeti.
☞ Madde 26: Düşünceyi yayma hürriyeti.

Hangi örnekte bu haklara aykırı bir davranışta bulunulmuştur?

- A) Ayşe Hanım'ın arkadaşıyla telefonla konuşması.
B) Sendika başkanı olan Hatice Hanım'ın televizyonda düşüncelerini ifade etmesi.
C) Erhan Bey'in gazetede köşe yazısı yazması.
D) Televizyon kanalında sunucu olan Özlem Hanım'ın haberleri gerçekliğinden saptırması.

13. Osmanlı Devleti ilk kez 1827 yılında İngiltere'den buharlı gemi satın almış, 1851 yılında da yolcu taşımak amacıyla "Şirket-i Hayriye" adı verilen vapur işletme şirketini kurmuştur.

Kurulan bu şirket toplumun hangi ihtiyacını karşılamaya yöneliktir?

- A) Ulaşım
B) Askeri
C) Eğitim
D) Sağlık

14. Osmanlı Devleti'ni gezip görmek bilgi edinmek amacıyla İstanbul'a ve Anadolu'ya birçok seyyah gelmiştir. Seyyahlar toplumun yaşantısı, beslenmesi, giyim ve kuşamıyla ilgili birçok bilgiyi seyahatnamelerinde yazıya dökmüşler, Türklerle ilgili bilgi vermişlerdir.

Seyahatnamelerde Türklere ait hangi özelliklerden bahsedilemez?

- A) Konukseverlikleri
B) Aile hayatına önem vermeleri
C) Hayırsever olmaları
D) Dini konuda baskı uygulamaları

15. Göç insanlık tarihinin başlangıcından itibaren var olan bir olgudur. Bireyin veya toplulukların doğa, ekonomik, toplumsal veya siyasi sebeplerle bir yerden başka bir yere gitmesine göç denir.

Hangi seçenekte göçün sonucundan bahsedilmiştir?

- A) Çarpık kentleşme
- B) İş bulma isteği
- C) Doğal afetler
- D) Savaş

16. Ülkelerinde iç savaş yaşandığı için ülkelerini terk etmek zorunda kalan Suriyeli vatandaşlar Avrupa'nın birçok ülkesine kaçak yollarla geçme yollarına başvurmuşlar. Bu zorlu göç esnasında uygun olmayan botlarla Akdeniz'i geçerken birçok insan hayatını kaybetmiştir. Bunun dışında açlık ve hastalık yüzünden de hayatını kaybeden binlerce insan olmuştur.

Yaşanan bu gelişmelerde insanların ellerinden alınan hak hangisidir?

- A) Haberleşme hürriyeti
- B) Eğitim hakkı
- C) Yerleşme ve seyahat hürriyeti
- D) Düşünce hürriyeti

17. Fransız İhtilali'nden sonra, "Her milletin kendi devletini kurup, kendi kendisini yönetmesi" anlamına gelen milliyetçilik akımı tüm dünyada yayılmıştır. Osmanlı Devleti bu akımdan en çok etkilenen devletlerden biri olmuştur.

Osmanlı Devleti'nin hangi özelliğinin milliyetçilik akımından etkilenmesine neden olduğu söylenebilir?

- A) Saltanatla yönetilmesi
- B) Sanayi İnkılâbı'nın gerçekleştirilememesi
- C) Çok uluslu bir devlet olması
- D) Ülkenin eyaletlere ayrılarak yönetilmesi

18. Osmanlı Devleti ilk kez Lale Devri'nde Paris'e geçici elçiler göndermiş, III. Selim Döneminde ise Avrupa'nın birçok başkentine daimi elçiler atanmıştır.

Osmanlı Devleti'nin Avrupa'ya elçi göndermesinin nedeni hangisidir?

- A) Devletin sınırlarının genişlemesi.
- B) Barış dönemlerinin yaşanması.
- C) Avrupalı devletlerle işbirliği yapılabilmek istenmesi.
- D) Avrupa'daki gelişmelerin yakından takip edilmek istenmesi.

19. Tanzimat Fermanı ile Osmanlı tarihinde yeni bir devir başlamıştır. Tanzimat ile devletin siyasi, sosyal, askerî ve hukuki alanlarda kötüye gidişini önlemek amacıyla daha geniş kapsamlı yenilikler yapılmıştır. Aşağıda Tanzimat Fermanı'nın bazı maddeleri verilmiştir.

- Mahkemeler herkese açık olacak
- Kanunlar önünde herkes eşit sayılacak.
- Kimse yargılanmadan cezalandırılmayacak.

Bu maddeler hangi alana yönelik yapılan yeniliklerdir?

- A) Sosyal
- B) Hukuki
- C) Siyasi
- D) Askeri

20. **Çocuk:** "Hocam, bilge bir insan olmanın sırrı nedir?"

Nasreddin Hoca: Bileni can kulağıyla dinleyeceksin. Söylerken de ağızından çıkanı kulağın duyacak

Nasreddin Hoca olumlu iletişim kurarken iletişimin hangi özelliklerine dikkat etmemizi söylemektedir?

- A) Empati kurmak
- B) Etkili dinlemek
- C) Jest ve mimikleri kullanmak
- D) Ses tonunu ayarlamak

SOSYAL BİLGİLER TESTİ BİTTİ.

SINAV BAŞLAMADAN AŞAĞIDAKİ UYARILARI MUTLAKA OKUYUNUZ!

1. Öğrenciler, sınav kurallarına ve salon görevlilerinin tüm uyarılarına uymak zorundadırlar.
2. Cevap kâğıdındaki isminizin doğruluğunu kontrol ediniz. Bilgiler size ait değilse veya cevap kâğıdı kullanılmayacak durumdaysa sınav görevlilerine bildirin.
3. Sınav başladıktan sonra öğrencilerin salon görevlileri ve birbirleri ile konuşmaları, kalem, silgi vb. şeyleri istemeleri yasaktır.
4. Değiştirmek istediğiniz bir cevabı, yumuşak silgiyle cevap kâğıdını yıpratmadan temizce siliniz ve yeni cevabınızı kodlayınız.
5. Cevaplarınızı, cevap kâğıdındaki ilgili soru numarasını dikkate alarak yuvarlağın dışına taşırmadan kodlayınız.
6. Soru kitapçığının sayfalarını kontrol ediniz, baskı hatası var ise değiştirilmesini sağlayınız.
7. Soru kitapçığı üzerinde yapılmış cevap kâğıdına işaretlenmeyen cevaplar değerlendirmeye alınmayacaktır.
8. Soru kitapçığının içindeki boş alanları çözümlerinizi için kullanabilirsiniz.
9. Cevaplamaya istediğiniz sorudan başlayabilirsiniz.
10. Cevabını bilmediğiniz sorular üzerinde fazla zaman kaybetmeden diğer sorulara geçiniz. Zamanınız kalırsa bu sorulara daha sonra dönebilirsiniz.
11. Sınav puanınızın hesaplanmasında sadece doğru cevaplarınız dikkate alınacaktır.
12. Sınav bitiminde, cevap kâğıdını salon görevlilerine teslim ediniz.
13. Sınav sırasında sözlük, hesap makinesi, saat fonksiyonu dışında özellikleri bulunan saat veya çağrı cihazı, cep telefonu, telsiz, radyo ve bilgisayar özelliği bulunan elektronik cihazları yanınızda bulundurmuyunuz.
14. Cevap kâğıdınızı sınav süresince hiçbir öğrencinin göremeyeceği şekilde önünüzde bulundurunuz.
15. Sınav süresince zorunlu haller hariç sınav salonu dışına çıkılmayacaktır.

SINAV GÖREVLİLERİNCE SINAV BAŞLAMADAN ÖNCE ÖĞRENCİLERE YAPILACAK SON UYARI

- Soracağınız bir şey var mı? Varsa, şimdi sorunuz.
- Sınav başladıktan sonra sorularınıza cevap verilmeyecektir.
- Başlama zilini bekleyiniz.

Hepinize Başarılar Dileriz.

Bu sınav, Isparta Milli Eğitim Müdürlüğü, Ölçme ve Değerlendirme Merkezince uygulanmaktadır.

Bu kitapçığın her hakkı saklıdır.

Hangi amaçla olursa olsun, kitapçığın tamamının veya bir kısmının Isparta İl Millî Eğitim Müdürlüğü'nün yazılı izni olmadan kopya edilmesi, fotoğraflarının çekilmesi, bilgisayar ortamına alınması, herhangi bir yolla çoğaltılması, yayımlanması veya başka bir amaçla kullanılması yasaktır. Bu yasağa uymayanlar, doğabilecek cezai sorumluluğu ve kitapçığın hazırlanmasındaki mali külfeti peşinen kabullenmiş sayılır.

ISPARTA ÖLÇME DEĞERLENDİRME MERKEZİ

<http://ispartaodm.meb.gov.tr>

(246) 280 32 55

odm32@meb.gov.tr