

İSPARTA MİLLÎ EĞİTİM MÜDÜRLÜĞÜ  
Ölçme Değerlendirme Merkezi

İngilizce

Fen Bilimleri

Din Kültürü ve  
Ahlak Bilgisi

7  
sınıf

2. OTURUMU

DESTEKLEME VE YETİŞTİRME KURSLARI  
DÖNEM SONU KAZANIM  
DEĞERLENDİRME SINAVI

Adı ve Soyadı : .....

Sınıfı / Şubesi : .....

Okulu : .....

**Kitapçık Türü ve Oturum Bilgilerini Optik Forma Kodlamayı Unutmayınız**

**ÖĞRENCİLERİN DİKKATİNE**

- Cevap kâğıdının kendinize ait olup olmadığını kontrol ediniz.
  - Kitapçık türünü cevap kâğıdındaki ilgili alana kodlayınız.
  - Cevap kâğıdı üzerindeki kodlamaları kurşun kalemle yapınız.
- Soru Sayısı : 60  
Sınav Süresi : 100

**SINAV BAŞLAMADAN ÖNCE KİTAPÇIĞIN ARKA KAPAĞINDAKİ UYARILARI MUTLAKA OKUYUNUZ.**



1. Circle the correct answer to fill in the gap below.



Hello! My name is Linda.  
I'm \_\_\_\_\_. I like giving  
things to my friends.

- A) responsible      B) easy-going  
C) generous        D) selfish

Read the text and answer the 3rd and 4th questions.

Henry is more responsible than Sam. He always does his homework. Sam is forgetful, but he is more thoughtful than Henry. Sam thinks about his friends' needs. Sam likes hanging out with his friends. He is more outgoing than Henry. Henry doesn't like being with people. He likes studying. He wants to be successful. He is more ambitious than Sam.

3. Who is Henry?



2. Look at the chart. Choose the correct sentence.

	Dave	Olivia	Mete
stubborn	● ● ●	●	● ●
generous	●	● ● ●	● ●
smart	● ● ●	● ●	●
forgetful	●	● ●	● ● ●

- A) Dave is stubborn. Mete is more stubborn than Dave.  
B) Olivia is smart. Mete is smarter than Olivia.  
C) Olivia is generous. Mete is more generous than Olivia.  
D) Dave is forgetful. Mete is more forgetful than Dave.

4. Circle the **FALSE** sentence.

- A) Henry likes studying.  
B) Sam forgets things.  
C) Sam likes doing sports.  
D) Henry is a hard-working person.

5. Look at the picture. Circle the **FALSE** sentence.



- A) Lizy and Suzan have got similar appearances.  
 B) Lizy is thinner than Suzan.  
 C) Suzan is fatter than Lizy.  
 D) Lizy and Suzan have got short hair.

Read the text and answer the 6th and 7th questions.

Pelin, Uğur, Bilge and Harun are university students. They live in Antalya. They like doing different sports. Harun's favourite activities are judo and karate. Pelin likes climbing and hiking. Uğur hates boxing. He is interested in playing basketball. Doing yoga is Bilge's favourite activity.



- 1 \_\_\_\_\_ likes martial arts.  
 2 \_\_\_\_\_ likes team sports.

6. Circle the correct answer.

- |    |          |          |
|----|----------|----------|
|    | <u>1</u> | <u>2</u> |
| A) | Pelin    | Harun    |
| B) | Bilge    | Uğur     |
| C) | Harun    | Bilge    |
| D) | Harun    | Uğur     |

7. Circle the **FALSE** option.

- A) Pelin loves outdoor games.  
 B) Bilge doesn't need a ball for her activity.  
 C) Uğur doesn't like boxing.  
 D) Harun and Bilge dislike individual sports.

8. Read the dialogue and fill in the gap.

**George:** What do you do at the weekends?

**Michael:** I sometimes go to a dance course.  
 And you?

**George:** I usually listen to music and play the piano. Pop music is my favourite.

**Michael:** What kind of music can't you stand?

**George:** Rap music. I think it is \_\_\_\_\_.

- A) exciting                      B) unbearable  
 C) fun                              D) fantastic

9. Look at the table and circle the **FALSE** option.

Deniz 	Esin 
Gökhan 	Emine 

- A) Emine usually goes walking in the park.  
 B) Esin never goes to pools or seas.  
 C) Deniz needs a bow and an arrow.  
 D) Gökhan rides a bike twice a week.

10. Read the dialogue and fill in the gap.

**Sam:** \_\_\_\_\_ do you go out at the weekends?

**Dave:** Never.

**Sam:** Why?

**Dave:** My mother likes cooking.

- A) How many                      B) How much  
 C) What time                      D) How often

11. Circle the suitable picture to fill in the gap.

I am William. I am a student. My favourite activity is \_\_\_\_\_. I hate playing team games.

A)



B)



C)



D)



12. Look at the picture and complete the sentence.



Irmak likes being in the nature. She has these materials to \_\_\_\_\_.

- A) swim in the pool      B) do the archery  
C) go hiking              D) go rollerblading

13. Look at the calendar and circle the correct option.

M. Kemal Atatürk opened the Turkish Grand National Assembly on \_\_\_\_\_. He became the first president of Turkish Republic.



APRIL 1920

Sun	Mon	Tue	Wed	Thu	Fri	Sat
				1	2	3
4	5	6	7	8	9	10
11	12	13	14	15	16	17
18	19	20	21	22	23	24
25	26	27	28	29	30	

- A) twenty-three of April Nineteen twenty  
B) the twenty-third April nineteen twenty  
C) the twenty-three of April Nineteen twenty  
D) the twenty-third of April nineteen twenty

Read the text and circle the correct options to fill in the gaps in questions 14, 15 and 16.

Who is Safiye AYLA?



Safiye Ayla is a singer of Turkish classical music. She (14) \_\_\_\_\_ on 14th July, 1917. Her mother died when she was three years old. Then she was grown up in Çağlayan Orphanage. After she finished primary school, she attended Muallim Mektebi in Bursa. She (15) \_\_\_\_\_ from there in 1920. Then, she worked as a primary school teacher in Beyoğlu. She married Şerif Muhittin Targan in 1950. Her voice was so beautiful that she began to take attention during her school days. She became famous with her song "Çile Bülbulüm Çile". She sang "Anam Olasın Ömer" song for Atatürk in 1932. Atatürk liked it so much and he asked her to sing it again. She was one of Atatürk's favourite (16) \_\_\_\_\_. She died on 14th January, 1998 in İstanbul.

ISPARTA ÖLÇME DEĞERLENDİRME MERKEZİ

14.

- A) were born              B) was born  
C) born                    D) is born

15.

- A) graduates              B) is graduating  
C) graduated              D) graduate

16.

- A) singer                    B) scientist  
C) explorer                D) inventor

17. Order the sentences according to chronology.

Mustafa Kemal opened the Turkish Grand National Assembly in nineteen twenty. 1

Atatürk died at 09:05 in Dolmabahçe Palace in nineteen thirty eight. 2

Mustafa was born in Salonika in eighteen eighty-one. 3

Mustafa Kemal ATATÜRK's Life


Gazi Mustafa Kemal became the first President in 1923. 4

Mustafa Kemal landed in Samsun and he started War of Independence in nineteen nineteen. 5

Mustafa entered the Military Preparatory School in Salonika in 1893. 6

- A) 3 - 6 - 5 - 1 - 4 - 2  
 B) 5 - 4 - 1 - 6 - 3 - 2  
 C) 3 - 5 - 6 - 1 - 4 - 2  
 D) 5 - 1 - 4 - 6 - 3 - 2


18. Look at the picture and circle the correct option.



Which question **CAN NOT** we answer?

- A) When was he born?  
 B) What was his surname?  
 C) When did he die?  
 D) Where did he study?

Answer the 19th and 20th questions according to the table.



NAME	Alexander Graham Bell, a famous inventor and scientist
When/Where Born	On 3rd March, 1847, in Edinburgh, Scotland.
Early Years	His mother educated him.
Later Years	He married Mabel Hubbard. In 1876 he invented the telephone. In 1880, Bell received the Volta Prize
When/Where Died	On 2nd August, 1922 in Beinn Bhreagh

19. Look at the table and circle the correct sentence about Alexander Graham Bell.

- A) He was born in nineteen twenty two.  
 B) He died in Edinburgh, Scotland.  
 C) He is the inventor of telephone.  
 D) He was born in Beinn Bhreagh.

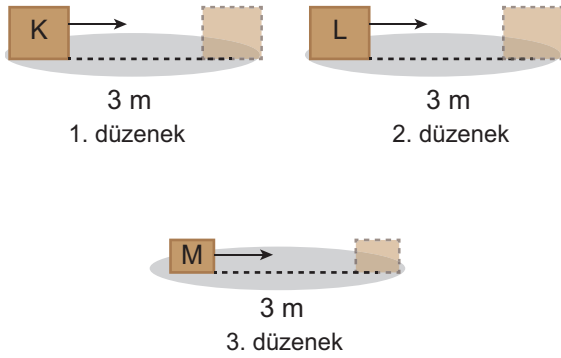
20. In eighteen eighty, Alexander Graham Bell

.....

- A) married Mabel Hubbard  
 B) was born in Edinburgh  
 C) received The Volta Prize  
 D) invented the telephone

İNGİLİZCE TESTİ BİTTİ.

1. Mete'nin kurduğu deney düzenekleri ve K, L ve M cisimlerine ait bilgilerin yer aldığı tablo aşağıda verilmiştir.



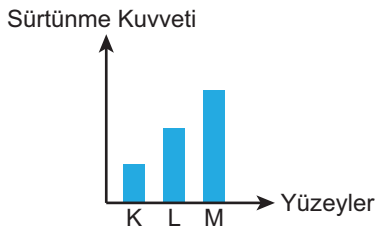
K,L,M cisimlerine tabloda verilen kuvvetler uygulanarak cisimlerin eşit yollar almaları sağlanıyor.

Cisim	Kütle (g)	Kuvvet (N)
K	200	8
L	200	6
M	100	8

Buna göre Mete'nin kurduğu düzeneklerdeki yapılan iş miktarlarının büyüklüklerinin sıralaması hangi seçenekteki gibi olur?

- A)  $1 > 2 > 3$       B)  $1 = 2 > 3$   
C)  $1 = 3 > 2$       D)  $3 > 2 > 1$

2. K, L ve M yüzeylerine ait sürtünme kuvvetlerini gösteren grafik aşağıda verilmiştir.

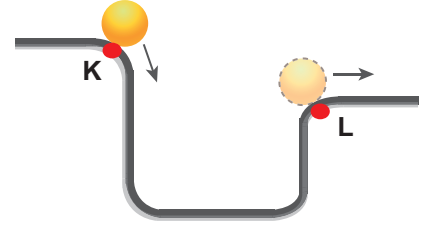


Şenay özdeş topları verilen yüzeylerde eşit kuvvetler uygulayarak itiyor.

Buna göre cisimlerin K, L ve M yüzeylerindeki hareket süreleri hangi seçenekteki gibi olabilir?

- |    | <u>K</u> | <u>L</u> | <u>M</u> |
|----|----------|----------|----------|
| A) | 2 sn     | 4 sn     | 6 sn     |
| B) | 6 sn     | 4 sn     | 2 sn     |
| C) | 4 sn     | 4 sn     | 4 sn     |
| D) | 6 sn     | 2 sn     | 2 sn     |

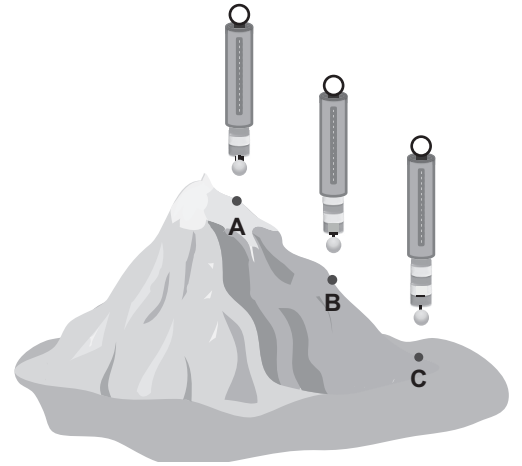
3. Şekilde K noktasında durmakta olan bir cisim harekete geçiyor ve L noktasından geçerek hareketine devam ediyor.



Buna göre bu cismin K ve L noktalarında sahip olduğu enerji çeşitlerinin değişimi hangi seçenekte verilmiştir? (P: Potansiyel enerji, K: Kinetik enerji)

- A)      B)      C)      D)

4. Selma, K cisminin aynı dinamometrede dağın farklı noktalarında meydana getirdiği uzama miktarlarını şekildeki gibi bulmuştur.

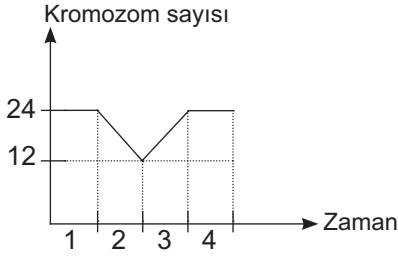


Buna göre Selma'nın elde ettiği gözlemlerinden çıkaracağı sonuç hangi seçenekte verilmiştir?

- A) Yerin merkezinden uzaklaştıkça yerçekimi kuvveti azalır.  
B) Yerin merkezine doğru inildikçe cisimlerin kütlesi artar.  
C) Yerin merkezinden uzaklaştıkça cismin madde miktarı azalır.  
D) Yerin merkezinden uzaklaştıkça cismin ağırlığı artar.



5. Aşağıdaki grafikte bir canlının kromozom sayısının zamana bağlı değişimi gösterilmiştir.



Buna göre hangi seçenekte verilen ifade **yanlıştır**?

- A) Canlının vücut hücrelerinde 24 kromozom bulunur.  
 B) I. zaman aralığında hücre mitoz bölünme geçirmiş olabilir.  
 C) Canlı iki kere mayoz bölünme geçirmiştir.  
 D) III. zaman aralığında döllenme olmuştur.
6. Görselde Uzay Araştırmalarına ait sayısal verilerin yer aldığı bir bilgi kartı verilmiştir.

### BİLGİ KARTI

1957( Sputnik 1 ) den günümüze kadar:

- ☛ Uzaya fırlatılan roket sayısı yaklaşık 5250'ye,
- ☛ Bu roketlerin yörüngeye yerleştirdiği yapay uydu sayısı yaklaşık 7500'e
- ☛ Halen uzayda olan uydu sayısı 4300'e
- ☛ Halen çalışan uydu sayısı 1200'e ulaşmıştır.

Yukarıda anlatılan sayısal verilere göre aşağıdaki bilgilerden hangisine ulaşılabilir?

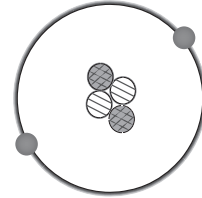
- A) Uzay araştırmalarına bütün ülkeler katkı sağlamaktadır.  
 B) Yapay uyduları yörüngeye yerleştirmede uzay mekikleri daha çok tercih edilir.  
 C) İşlevini yitiren 3100 uydu Dünya'ya geri gönderilmiştir.  
 D) Bir uzay roketi birden fazla uyduyu Dünya yörüngesine yerleştirebilir.

7. Tabloda M,N,S, ve P hücrelerinin verilen organelere sahip olma durumu "✓" sahip olmama durumu ise "x" ,işareti ile gösterilmiştir.

Hücre Çeşidi	Hücre Çeperi	Sentrozom	Kloroplast
M	✓	x	✓
N	x	✓	x
S	✓	x	✓
P	✓	x	✓

Verilen bilgilere göre bu hücreler ile ilgili verilen ifadelerden hangisi **yanlıştır**?

- A) M hücresi besin üretimi yapabilir.  
 B) S hücresinde sitoplazma bölünmesinde ara lamel oluşumu görülür.  
 C) P hücresinde bulunan kofullar küçük ve çok sayıdadır.  
 D) N hücresinde lizozom organeli de bulunur.
8. Beyza şekilde verilen halkanın etrafına hareket edebilecek boncuklar takmış, halkanın merkezine ise farklı desenlerde boncuklar koymuştur. "İşte atom modelimi tamamladım" diyerek arkadaşlarına göstermiştir.

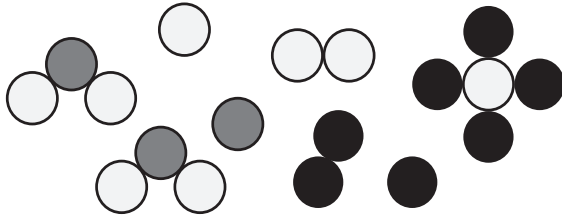


Beyza'nın yaptığı etkinlikle ilgili hangi seçenekte verilen ifade **yanlıştır**?

- A) Halkanın etrafına takılan boncuklar elektronları temsil etmektedir.  
 B) Halkanın merkezine konulan boncuklar proton ve nötronları temsil etmektedir.  
 C) Modelde atomun bütün parçacıkları temsil edilmiştir.  
 D) Halkanın etrafındaki boncukların hareketli olması elektronların hareketine benzetilebilir.
9. "Gerilmiş bir yay ▲ enerjisine sahiptir" Verilen ifadede "▲" yerine aşağıdaki enerji türlerinden hangisi yazılmalıdır?
- A) Hareket enerjisi  
 B) Kinetik Enerji  
 C) Esneklik potansiyel enerji  
 D) Çekim potansiyel enerji




10. Aysima oyun hamurlarıyla görseldeki modelleri oluşturuyor.



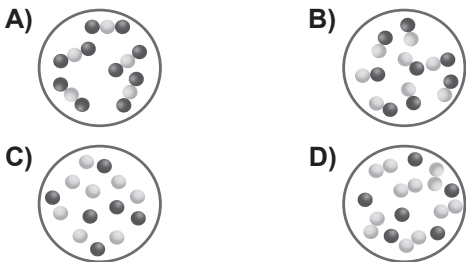
Aysima'nın oluşturduğu modellerde kaç tane element molekülü vardır?

- A) 2 B) 4  
C) 5 D) 8
11. Görselde eşit kütleli kuşların ağaç dalı etrafındaki konumları gösterilmiştir. P kuşu dalda durmakta iken diğer kuşlar uçmaktadır.

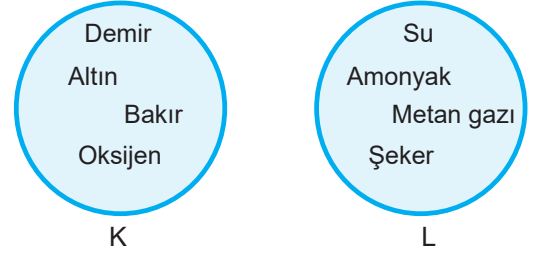


Buna göre kuşların enerji durumları ile ilgili yapılan yorumlardan hangisi doğrudur?

- A) K kuşunun çekim potansiyel enerjisi M kuşunun çekim potansiyel enerjisinden daha azdır.  
B) L kuşunun sadece çekim potansiyel enerjisi vardır.  
C) P kuşunun kinetik enerjisi N kuşunun kinetik enerjisinden fazladır.  
D) M kuşunun çekim potansiyel enerjisi N kuşunun çekim potansiyel enerjisinden fazladır.
12. Aşağıdaki modellerden hangisi Karbondioksit ( $CO_2$ ) gazının molekül modelini temsil eder?



13. Görselde bazı maddeler ortak özelliklerine göre gruplandırılmıştır.



Seçeneklerde verilen bilgilerden hangisi bu grupların özellikleri arasında yer almaz ?

- A) K grubundaki maddeler farklı bileşenlerine ayrılabilir.  
B) L grubundaki maddeler formül ile gösterilir.  
C) K grubundaki maddeler saf maddedir.  
D) L grubundaki maddelerin her birinin yapısında en az iki çeşit atom bulunur.
14. Görselde bazı canlıların yaptığı eylemler gösterilmiştir.



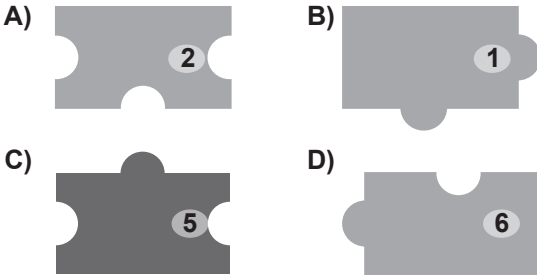
Yukarıdaki canlılardan hangileri fiziksel anlamda iş yapmaktadır?

- A) Osman, Erhan, Ahmet, Fatih, kuş  
B) Erhan, Ahmet, Fatih, kuş  
C) Ali, Erhan, Ahmet  
D) Kuş, Fatih, Ali
15. Aşağıdaki olaylardan hangisi mayoz bölünmede kalıtsal çeşitliliğin oluşmasını sağlar?
- A) Dört yavru hücre oluşması  
B) Oluşan hücrelerin kromozom sayısının yarıya inmesi  
C) Bölünme olayının iki aşamada gerçekleşmesi  
D) Homolog kromozomlar arasında gen alış verişi görülmesi

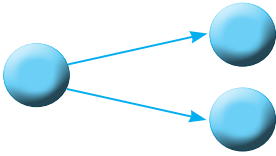
16. Görseldeki puzzleda hücrede bulunan bazı organel isimleri verilmiştir.



Puzzledan, bitki ve hayvan hücrelerinde ortak olarak bulunan organel isimlerinin yazılı olduğu parçalar çıkarıldığında, geriye kaç numaralı parça kalır?



17. Bir hücre bölünmesi görseldeki gibi çizimle gösterilmiştir.



Bu bölünmeyle ilgili olarak;

- I. Oluşan hücrelerde genetik çeşitlilik yoktur.
- II. Tek hücreli canlılarda üremeyi sağlar.
- III. Bölünme sonucunda oluşan hücrelerin organel sayıları birbirinden farklı olabilir.

verilen ifadelerden hangileri doğrudur?

- A) Yalnız I                      B) I ve II  
C) II ve III                      D) I, II ve III

18. Mayoz bölünmede  $2n$  kromozomlu eşey ana hücrelerinden  $n$  kromozomlu eşey hücreleri oluşur.

Mayoz bölünmede kromozom sayısında görülen bu değişimin canlılar için önemi hangi seçenekte doğru olarak verilmiştir?

- A) Tür içinde kalıtsal çeşitliliğin oluşmasını sağlar.  
B) Tür içinde kromozom sayısının sabit kalmasını sağlar.  
C) Anne ve babadan çocuklara geçecek genlerin farklılaşmasını sağlar.  
D) Yeni oluşacak bireylerin birbirinden farklı olmasını sağlar.

19. Aşağıda verilen ifadelerden hangisinde yıldızlar veya özellikleri ile ilgili yanlış bilgi verilmiştir?

- A) Büyük kütleli yıldızlar ömürlerini tamamladığında karadeliğe dönüşebilir.  
B) Güneş, orta büyüklükte bir yıldızdır.  
C) Küçük kütleli yıldızlar ömürlerini tamamladığında beyaz cüceye dönüşebilir.  
D) Süpernova, küçük kütleli bir yıldızın beyaz cüceye dönüşümünde görülen patlamadır.

20. Ali kurmalı arabasını kurup serbest bıraktıktan sonra, araba bir süre ilerlemekte ve sonra durmaktadır.

Ali'nin oyunu sırasında gerçekleşen olaylarla ilgili aşağıda verilen ifadelerden hangisi hatalıdır?

- A) Ali arabayı kurduğunda araçta esneklik potansiyel enerjisi birikir.  
B) Arabanın bir süre sonra durmasının sebebi sürtünmeden dolayı kinetik enerjinin ısı enerjisine dönüşmesidir.  
C) Araba yavaşlarken kinetik enerji, esneklik potansiyel enerjiye dönüşür.  
D) Arabanın hareketi süresince toplam enerji miktarı değişmez.

1. Seçeneklerdeki konulardan hangisini sadece Yüce Allah'ın haber vermesiyle bilmemiz mümkün olur?

- A) Uzay
- B) Ahiret
- C) Doğa
- D) Tarih

2. Yapayalnızken bile dertli değildir başım,  
Sağımda solumda melekler arkadaşım.  
(Gökhan Evliyaoğlu)

**Dizelerde bahsedilen meleklerin ismi hangi şıkta doğru olarak verilmiştir?**

- A) Vahiy meleği
- B) Münker Nekir
- C) Kiramen Kâtibin
- D) Ölüm meleği

3. "De ki: ruhunuzu -sizin için görevlendirilen- ölüm meleği alır." (Secde suresi, 11. ayet)

**Ayet'i kerimede bahsedilen melek hangi şıkta doğru olarak verilmiştir?**

- A) İsrail
- B) Mikail
- C) Cebrail
- D) Azrail

4. Aşağıdaki meleklerden hangisinin henüz vazifesini yerine getirmediğini fakat bunun için hazır beklediğini söyleyebiliriz?

- A) İsrail
- B) Mikail
- C) Cebrail
- D) Azrail

5. "Nihayet onlardan birine ölüm geldiği zaman der ki: 'Rabb'im! beni geri gönder, belki terk ettiğim dünyada yararlı bir iş yaparım.' Hayır, bu, onun söylediği (boş) bir sözdür. Önlüklerinde dirilecekleri güne kadar (dönmelerine engelolan) bir perde vardır." (Mü'minûn suresi, 99-100. Ayetler)

**Âyet-i Kerîme, seçeneklerdeki inanışların hangisinin batıl ve hurafe olduğunu kanıtlar niteliktedir?**

- A) Kahve falıyla geleceği öğrenmeyi istemek
- B) Nazar boncuğundan fayda ummak
- C) Ruh çağırarak
- D) Ağaçlara çaput bağlamak

6. Aşağıdaki kavramlardan hangisi diğerlerini de kapsayıcı bir manaya sahiptir?

- A) Uzay
- B) İnsan
- C) Melek
- D) Âlem

7. Ahiret inancı, insanı yok olma korkusundan kurtarır. Çünkü ahirete inanan insan için ölüm, geçici hayatın son bulması, yeni ve sonsuz bir hayatın başlaması demektir. Bu durumda ölümden kaçışın bir anlamı yoktur. Önemli olan, ölüm gerçeğini unutmamak ve ona hazır olmaktır. Hz. Peygamber (s.a.v.) "İnsanların en akıllısı, ..." buyurarak bu gerçeğe işaret etmiştir.

**Metinde verilen boşluğa hangisi gelirse paragrafın anlam akışını ve hadisi şerifin metnini doğru tamamlanmış olur?**

- A) Ramazan orucunu tutandır.  
B) Sadece ahiret işleriyle meşgul olandır.  
C) Ölümü unutmayan ve ona hazırlıklı olandır  
D) Kalbi temiz olan kişidir.
8. "... Onlar Rablerinin huzurunda toplanacaklardır." (En'âm suresi, 38. ayet.) ayetinde ahiret hayatının hangi aşaması anlatılmaktadır?
- A) Mahşer  
B) Mizan  
C) Berzah  
D) Sırat

9. Seçeneklerdeki ayetlerden hangisi insanın yaratılış amacıyla ilgilidir?

- A) "... Allah, dilediğine hesapsız rızık verir." (Bakara suresi, 212. ayet.)  
B) "Hiçbir kimse yok ki, ölümü Allah'ın iznine bağlı olmasın..." (Âl-i İmrân suresi, 145. ayet.)  
C) "Sizi boşuna yarattığımızı ve bize tekrar döndürülmeyeceğinizi mi sandınız?" (Mü'minûn suresi, 115. ayet.)  
D) "Sana kıyameti, ne zaman gelip çatacağını soruyorlar. De ki: Onun ilmi ancak Rabbimin katındadır..." (A'râf suresi, 187. ayet.)

10. Hz. İsa'nın (a.s.) hangi durumu Allah tarafından peygamberlere bahsedilen mucizeler ile ilişkilidir?

- A) Doğumu  
B) Kutsal kitap verilmesi  
C) İnsanları tevhid inancına çağırması  
D) İsrailoğullarına peygamber olarak gönderilmesi

11. "Rahman ve Rahîm olan Allah'ın adıyla.  
1-3. De ki: İnsanların Rabb'ine, Melik'ine ve İlah'ına sığınırım.  
4-5. İnsanlara kötü şeyler fısıldayan, onların gönüllerine şüphe ve tereddüt sokan sinsi vesvesecinin şerrinden,  
6. Cinlerin ve insanların kötülüklerinden (Allah'a sığınırım)."

**Meali verilen Nas suresinin ana fikri hangi seçenekte doğru olarak verilmiştir?**

- A) Yüce Allah'ın sıfatları  
B) Her türlü kötülükten Allah'a sığınma  
C) Batıl ve hurafenin, inanca zararları  
D) Görünmeyen varlıkların özellikleri

12. "Ey inananlar, Allah size hacı farz kılmıştır. O halde hacediniz." (Müslim, Hac, 412.)

**Seçeneklerdeki ayetlerden hangisi verilen hadiste bahsedilen ibadeti emreder?**

- A) "Namazı dosdoğru kılın, zekâtı verin ve rükû edenlerle birlikte siz de rüku edin." (Bakara suresi, 43. ayet)  
B) "Sana, hilalleri (doğuş halindeki ayları) sorarlar. De ki: "O, insanlar ve hac için belirlenmiş vakitlerdir..." Bakara suresi, 189. ayet)  
C) "...Yoluna gücü yetenlerin Kâbe'yi haccetmesi, Allah'ın insanlar üzerindeki bir hakkıdır..." (Âl-i İmrân suresi, 97. ayet.)  
D) "(Hac) ibadetlerinizi bitirdiğinizde, artık (cahiliye döneminde)atalarınızı andığınız gibi, hatta ondan da kuvvetli bir anma ile Allah'ı anın..." (Bakara suresi, 200. ayet)

13. Abdest olmadan namaz kılamayacağı gibi ..... girmeden de hac ibadetine başlanamaz.

**İfadeyi doğru şekilde tamamlayan kelime hangi seçenekte verilmiştir?**

- A) İhram
- B) Arafat
- C) Mikat
- D) Tavaf

14. Hac ibadetinin;

- I. İhram
- II. Vakfe
- III. Tavaf gibi farzları,
- IV. Şeytan taşlama gibi vacipleri vardır.

**Peygamberimiz Hz. Muhammed'in (s.a.v.) "Hac, Arafat'tır" hadisi verilen maddelerinden hangisinin gereğinden bahseder?**

- A) I
- B) II
- C) III
- D) IV

15. Hac ibadetini yerine getirme fırsatı bulamayan ve kutsal toprakları görmek isteyen Müslümanlar seçeneklerdeki ibadetlerden hangisini yapabilirler?

- A) Kurban
- B) Umre
- C) Namaz
- D) Zekât

16. Hac ve umre ibadetleri arasında şıklardaki konulardan hangisinde bir farklılığın söz konusu olmadığı kesindir?

- A) Yapılış zamanı
- B) Dini hükmü
- C) Uygulanışı
- D) Yapılma amacı

17. Ayetlerden hangisi kurban ibadetinin daha önceki toplumları da kapsayan bir gereklilik olduğunu ifade eder?

- A) "Bunun gibi, (Bize inanan) her ümmet için kurban kesmeyi bir kulluk eylemi olarak meşru kıldık ..." (Hac suresi, 34. ayet)
- B) "O halde Rabbin için namaz kıl ve kurban kes." (Kevser suresi, 2. ayet)
- C) "Onların ne etleri ne de kanları Allah'a ulaşır; fakat O'na sadece sizin takvânız ulaşır..." (Hac suresi, 37. ayet)
- D) "...Onlardan hem kendiniz yiyecek hem de ihtiyacını gizleyen-gizlemeyen fakirlere yedirin..." (Hac suresi, 36. ayet)

18. Ahmet Bey Kurban Bayramı yaklaşırken sekiz arkadaşıyla birlikte, üç yaşında sağlıklı bir inek alarak ibadet niyetiyle kesmeyi düşünmektedir.

**Seçeneklerdeki hangi durumu düzeltirsek Ahmet Bey ve arkadaşlarını doğru yönlendirmiş oluruz?**

- A) Kurbanın yaşını
- B) Ortakların sayısını
- C) Büyükbaş hayvanın cinsini
- D) Hayvanın sağlığını

19. "... Mabed'in ( Kabe) temellerini yükseltirken yalvardılar: "Ey Rabbimiz! Bunu kabul et; Sensin her şeyi bilen, her şeyi duyan!" (Bakara suresi, 127. ayet)

**Ayette sözü edilen duayı yapan peygamberler hangi seçenekte birlikte ve doğru olarak verilmiştir?**

- A) Hz. Âdem- Hz. İsmail
- B) Hz. İbrahim- Hz. İsmail
- C) Hz. İbrahim- Hz. İshak
- D) Hz. Âdem- Hz. Nuh

ISPARTA ÖLÇME DEĞERLENDİRME MERKEZİ

20. "Gul inne salâtî ve ... ve mahyâye ve ... lillahi Rabbi'l âlemîn."

**En'am suresinin 162. ayetindeki boşlukları seçeneklerdeki hangi ifadeler sırasıyla ve doğru şekilde tamamlar?**

- A) eydîhim- yühîtûne
- B) nüsükî- mematî
- C) şerrinneffâsâti- hâsidin
- D) âbidûne- veliye dîn.

DİN KÜLTÜRÜ VE AHLAK BİLGİSİ TESTİ BİTTİ.





## **SINAV BAŞLAMADAN AŞAĞIDAKİ UYARILARI MUTLAKA OKUYUNUZ!**

1. Öğrenciler, sınav kurallarına ve salon görevlilerinin tüm uyarılarına uymak zorundadırlar.
2. Cevap kâğıdındaki isminizin doğruluğunu kontrol ediniz. Bilgiler size ait değilse veya cevap kâğıdı kullanılmayacak durumdaysa sınav görevlilerine bildirin.
3. Sınav başladıktan sonra öğrencilerin salon görevlileri ve birbirleri ile konuşmaları, kalem, silgi vb. şeyleri istemeleri yasaktır.
4. Değiştirmek istediğiniz bir cevabı, yumuşak silgiyle cevap kâğıdını yıpratmadan temizce siliniz ve yeni cevabınızı kodlayınız.
5. Cevaplarınızı, cevap kâğıdındaki ilgili soru numarasını dikkate alarak yuvarlağın dışına taşırmadan kodlayınız.
6. Soru kitapçığının sayfalarını kontrol ediniz, baskı hatası var ise değiştirilmesini sağlayınız.
7. Soru kitapçığı üzerinde yapılmış cevap kâğıdına işaretlenmeyen cevaplar değerlendirmeye alınmayacaktır.
8. Soru kitapçığının içindeki boş alanları çözümlerinizi için kullanabilirsiniz.
9. Cevaplamaya istediğiniz sorudan başlayabilirsiniz.
10. Cevabını bilmediğiniz sorular üzerinde fazla zaman kaybetmeden diğer sorulara geçiniz. Zamanınız kalırsa bu sorulara daha sonra dönebilirsiniz.
11. Sınav puanınızın hesaplanmasında sadece doğru cevaplarınız dikkate alınacaktır.
12. Sınav bitiminde, cevap kâğıdını salon görevlilerine teslim ediniz.
13. Sınav sırasında sözlük, hesap makinesi, saat fonksiyonu dışında özellikleri bulunan saat veya çağrı cihazı, cep telefonu, telsiz, radyo ve bilgisayar özelliği bulunan elektronik cihazları yanınızda bulundurmuyunuz.
14. Cevap kâğıdınızı sınav süresince hiçbir öğrencinin göremeyeceği şekilde önünüzde bulundurunuz.
15. Sınav süresince zorunlu haller hariç sınav salonu dışına çıkılmayacaktır.

## **SINAV GÖREVLİLERİNCE SINAV BAŞLAMADAN ÖNCE ÖĞRENCİLERE YAPILACAK SON UYARI**

- Soracağınız bir şey var mı? Varsa, şimdi sorunuz.
- Sınav başladıktan sonra sorularınıza cevap verilmeyecektir.
- Başlama zilini bekleyiniz.

**Hepinize Başarılar Dileriz.**

Bu sınav, Isparta Milli Eğitim Müdürlüğü, Ölçme ve Değerlendirme Merkezince uygulanmaktadır.

Bu kitapçığın her hakkı saklıdır.

Hangi amaçla olursa olsun, kitapçığın tamamının veya bir kısmının Isparta İl Millî Eğitim Müdürlüğü'nün yazılı izni olmadan kopya edilmesi, fotoğraflarının çekilmesi, bilgisayar ortamına alınması, herhangi bir yolla çoğaltılması, yayımlanması veya başka bir amaçla kullanılması yasaktır. Bu yasağa uymayanlar, doğabilecek cezai sorumluluğu ve kitapçığın hazırlanmasındaki mali külfeti peşinen kabullenmiş sayılır.

## **ISPARTA ÖLÇME DEĞERLENDİRME MERKEZİ**

<http://ispartaodm.meb.gov.tr>

(246) 280 32 55

odm32@meb.gov.tr