

İSPARTA MİLLÎ EĞİTİM MÜDÜRLÜĞÜ Ölçme Değerlendirme Merkezi

İngilizce

Fen Bilimleri

Din Kültürü ve
Ahlak Bilgisi

8
sınıf

2. OTURUMU

DESTEKLEME VE YETİŞTİRME KURSLARI DÖNEM SONU KAZANIM DEĞERLENDİRME SINAVI

Adı ve Soyadı :

Sınıfı / Şubesi :

Okulu :

Kitapçık Türü ve Oturum Bilgilerini Optik Forma Kodlamayı Unutmayınız

ÖĞRENCİLERİN DİKKATİNE

- Cevap kâğıdının kendinize ait olup olmadığını kontrol ediniz.
 - Kitapçık türünü cevap kâğıdındaki ilgili alana kodlayınız.
 - Cevap kâğıdı üzerindeki kodlamaları kurşun kalemle yapınız.
- Soru Sayısı : 60
Sınav Süresi : 100

SINAV BAŞLAMADAN ÖNCE KİTAPÇIĞIN ARKA KAPAĞINDAKİ UYARILARI MUTLAKA OKUYUNUZ.

Read the invitation card and answer the 1st and 2nd questions.



1. Which question is **NOT** answered in the invitation?

- A) What is the event about?
- B) Where is the event ?
- C) When is the event ?
- D) Who is the sender?

2. What is the deadline in the invitation?

- A) 27th December
- B) 08:00 p.m.
- C) 25th December
- D) 10:00 p.m.

Read the dialogue. Answer the 3rd and 4th questions.

Samantha: Hi, William!

William : No, nothing. Why are you asking?

Samantha: I am planning a picnic this Saturday. Would you like to come?

William : That sounds awesome, but I can't. I don't feel well.

Samantha: O.K. See you later. Bye!

William : Bye!

3. Complete the sentence in the dialogue with the correct question.


- A) What do you do every Friday?
- B) Are you doing anything this weekend?
- C) Do you eat out at the weekends?
- D) How often does your mother make a cake?

4. Read the dialogue and complete the sentence.

"William can't join the picnic because"

- A) he is ill.
- B) his mother is in the hospital.
- C) he has an exam.
- D) his uncle visits him on that day.

5. Complete the dialogue.



I always play computer games. I usually surf the net and listen to pop music. I go out and I hang around with my friends. I come back home at about 09.00 p.m.

- A) What is your favourite computer game
- B) Do you like reading book
- C) How often do you listen to music in the morning
- D) What do you do at the weekends

6. Read the text and circle the correct option.

You have an invitation from one of your friends. The event is about a slumber party, but you are not into it. Refuse her invitation kindly.

- A) Cool! When is the party?
- B) Why not?
- C) Sorry, maybe another time.
- D) That sounds great.

7. Read and complete the dialogue with the correct question.

Emily : What do you do in the evenings?

Jackson: I go to the gym.

Emily :

Jackson: Three times a week.

- A) How do you go to the gym
- B) Do you like doing sports
- C) How often do you go to the gym
- D) Are you keen on sports

8. Read the text. Who is Mary?

Mary is a laid-back student. She doesn't like reading books and learning new subjects. She never goes to the library. She is an easy-going person. She gets on well with her friends. She always meets with them.



9. Look at the picture and choose the correct answer.



Bill : What sports would you like to try ?Why?

Judy: I'd like to try..... because it is

.....

- A) skydiving / boring
- B) parachuting / frightening
- C) snowboarding / expensive
- D) skydiving / exciting

10. Read the text and circle the **ODD** sentence.

George is my best friend, (1)I can count on him. (2)I know that he always backs me up. (3)He sometimes tells me a lie. (4)We get on well with each other.

- A) 4
- B) 3
- C) 2
- D) 1

Read the “Recipe of Menemen” and answer the 11th, 12th, and 13th questions.

Recipe of Menemen

At first, peel some tomatoes, onions and green peppers. Second, chop all the vegetables. Then heat some olive oil in a frying pan and put the mixture into pan. Next, crack the eggs into the pan and add salt and chilli pepper. After that, cook the mixture nearly 15 minutes. Grate cheese on it. Finally turn off the heat when the cheese melts. Serve it hot!

11. Choose the correct ingredient list for the recipe.

A)

Ingredients List

- Onion
- Tomatoes
- Green Pepper
- Eggs
- Salt
- Olive oil
- Chilli pepper
- Cheese

B)

Ingredients List

- Eggs
- Tomatoes
- Green Pepper
- Rice
- Onion
- Olive oil
- Chilli pepper
- Salt

C)

Ingredients List

- Cheese
- Eggs
- Green Pepper
- Meat
- Onion
- Olive oil
- Chilli pepper
- Salt

D)

Ingredients List

- Green Pepper
- Salt
- Flour
- Eggs
- Baking Powder
- Onion
- Olive
- Tomatoes

12. Circle the correct option to complete the sentence.

“before cracking the eggs into the pan.”


- A) Add some salt and chilli pepper
- B) Put the mixture into pan
- C) Cook the mixture about fifteen minutes
- D) Chop all the vegetables

13. Circle the correct option to complete the sentence.

“After chopping all the vegetables,
..... .”

- A) crack the eggs
- B) peel some tomatoes and onions
- C) heat some olive in a frying pan
- D) turn off the heat

14. Read and complete the dialogue.



- A) She always tells me lies.
- B) She never backs me up.
- C) She is an arrogant girl.
- D) She is a reliable person.

15. Read and complete the dialogue with the correct question.

Carmen:?
Jack : I don't know because my mother always cooks it. I will ask her how to do it.

- A) What is your favourite meal
- B) How often do you eat meat stew
- C) What are the ingredients of meat stew
- D) Do you like eating meat stew

16. Circle the correct answer to fill in the gap.

To me, a good friend is a/an person because he/she helps you when you need help.

- A) self-centered B) stubborn
C) unreliable D) supportive

17. Circle the correct order.

1. Well, I'd like chicken soup first.
2. I'd like meatballs, please.
3. Chicken soup. OK. What would you like to have for a main course?
4. No, thank you.
5. How can I help you? What would you like to have?
6. All right. And anything to drink?

- A) 2-1-4-5-3-6
B) 5-1-3-2-6-4
C) 2-3-1-5-6-4
D) 5-1-3-6-4-2

18. Circle the correct answer to fill in the gap.

First , put all the mixture into a bowl and then knead

- A) the garlic C) the lemon
B) the dough D) the onion

Read the text and answer 18th and 19th questions.

Betty is a hardworking girl. She usually studies her lessons. She goes to the library on weekdays. At the weekends she gets up late and she helps her mother and likes cooking. She always makes a cake and invites her friends on Sundays.

19. Which activity does NOT Betty do at the weekends?

- A)  B) 
- C)  D) 

20. According to the text circle the TRUE sentence.

- A) Betty makes a cake on weekdays.
B) She goes to the library twice a week.
C) Every evening her friends visit Betty.
D) She likes attending to school and doing her homework.

1. Lübnan'da yazlar sıcak ve kuru, kışlar yağışlı ve ılımandır. Yaz aylarında yağışın neredeyse hiç görülmediği ülkede nem oldukça yüksektir. Ortalama yaz sıcaklıkları geceleri 25°C, gündüzleri ise 35°C'dir. Kıyı kesimlerinde sıcaklıkların kimi zaman 40°C'yi geçmesinden dolayı Lübnan halkı nem ve sıcaklıktan etkilenmemek için nispeten daha serin ve yağışlı olan Lübnan Dağları bölgesine seyahat ederler. Kış aylarında kar yağışının sadece yüksek rakımlı Lübnan Dağları'nda görüldüğü ülkede sonbahar ve ilkbahar aylarında bol yağış görülür.

Metinle ilgili aşağıdakilerden hangisi söylenmez ?

- A) Verilen bilgiler Lübnan'daki hava olaylarının uzun yıllar yapılan takipleri sonucu elde edilmiştir.
B) Bu bilgiler bölge hakkında araştırma yapan klimatologların çalışmaları ile elde edilir.
C) Ülkenin bütün kesimlerinde günlük sıcaklık ortalamaları eşittir
D) Uzun yıllara dayanan bu verilerde günlük değişimler meydana gelebilir.

2. Canlıların bulundukları kalıtsal özellikleriyle ortam şartlarına uyum sağlamasına adaptasyon denir.
 Çevrenin etkisiyle canlılarda kalıtsal olmayan değişikliklere modifikasyon denir.

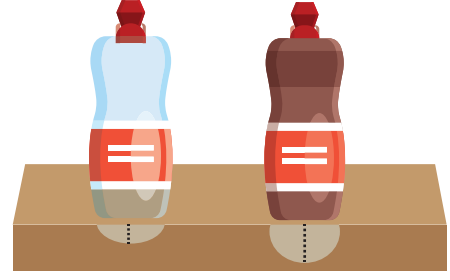
Buna göre;

- I. Dış döllenme yapan canlıların iç döllenme yapan canlılara göre daha fazla üreme hücresi oluşturması
II. Bukalemunun bulunduğu ortama göre renk değiştirmesi
III. Arılar larvalarının beslenme şekillerine göre işçi yada kraliçe arı olması
IV. Çuha çiçeğinin sıcaklık değişimine göre beyaz ya da kırmızı renk çiçek açması

Yukarıda verilen örneklerin adaptasyon ve modifikasyon olarak sınıflandırılması aşağıdakilerden hangisinde doğru olarak verilmiştir?

	<u>Adaptasyon</u>	<u>Modifikasyon</u>
A)	I ve II	III ve IV
B)	II ve III	I ve IV
C)	I,II ve III	IV
D)	III ve IV	I ve II

3. Aşağıdaki şekilde boş şişe ve renklendirilmiş su ile dolu olan şişeden oluşan deney düzeneği görülmektedir.



Görselde boş şişenin kum zeminde bıraktığı iz ile renkli su dolu şişenin zeminde bıraktığı iz farklı olduğu gözlemlenmektedir.

Yalnız bu deney düzeneğinden yararlanarak;


- I. Cismin ağırlığı arttıkça zemine uyguladığı basınç artar mı?
II. Sıvı basıncı sıvının derinliğine bağlı mıdır?
III. Cismin kum zeminde bıraktığı iz, zemine uyguladığı basınç hakkında bilgi verir mi?

verilen sorulardan hangilerine cevap bulunabilir?(Düzenekte kullanılan şişeler özdeştir.)

- A) Yalnız I
B) Yalnız III
C) I ve III
D) I, II ve III

ISPARTA ÖLÇME DEĞERLENDİRME MERKEZİ

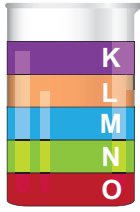
4. **Hipotez:** Eşit kütlelere sahip iki insandan, ince topuklu ayakkabı giyen kişi kar üzerinde yürüdüğünde karın içine daha çok batır. Aysu bu hipotezin doğruluğunu ispatlamak için özdeş tuğlalar ve kum birikintisi kullanarak bir deney düzeneği tasarlıyor.



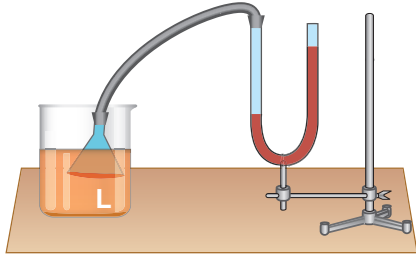
Aysu'nun oluşturacağı deney düzeneği ile ilgili aşağıda verilen bilgilerden hangisi doğrudur ?

- A) Farklı sayıda tuğladan oluşan iki düzenek oluşturmalı ve bu düzeneklerin kum üzerinde bıraktığı izlerin derinliğini ölçmelidir.
B) Deneyinde bağımsız değişken olarak tuğlaların yüzey alanını kullanmalıdır.
C) Doğru sonuç elde etmek için kum birikintilerinden birini ıslatıp çamur haline getirmelidir.
D) Kütleleri farklı olan tuğlaları aynı yüzeylerinin üzerinde kum zemine bırakmalıdır.

5. Şekil-1' de birbirine karışmayan sıvılar beherglas içinde verilmiştir.



Şekil-1

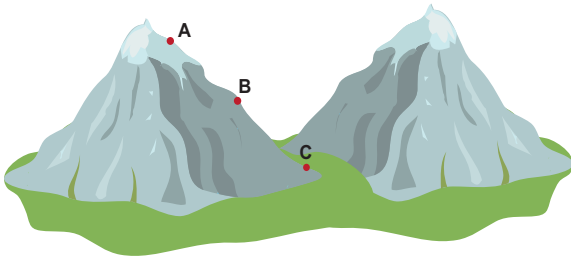


Şekil-2

L sıvısı Şekil-2 deki düzenekte U borusundaki civa seviyesini 5 cm yükselttiğine göre aşağıdaki yorumlardan hangisi hatalıdır?

- A) Kurulan düzenekte L sıvısı yerine M sıvısı kullanılırsa, U borusundaki civa seviyesi 3 cm yükselir.
 B) O sıvısı ile deney yapılırsa L sıvısında elde edilen civa seviyesinden daha yüksek bir civa seviyesi elde edilir.
 C) K sıvısı L sıvısına göre şekil 2 deki düzenekte daha az bir yükselmeye sebep olur.
 D) N sıvısı U borusunda 6 cm lik civa yükselmesine neden olabilir.

6.



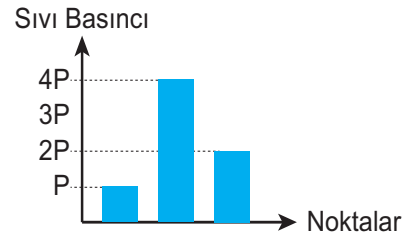
Yukarıda verilen fotoğrafta yer alan A,B,C noktaları ile ilgili aşağıdaki yorumlardan hangisi yanlıştır?

- A) C noktasından B noktasına doğru çıkılırken açık hava basıncı azalır.
 B) C noktasından A noktasına çıkan bir dağcının burnu kanayabilir.
 C) A noktasında sisirilen bir balon C noktasına indirilirse hacmi artar.
 D) B noktasından A noktasına çıkılırken açık hava basıncı azalır.

7. Göky basıncı konusunda ilgili bir oyun oynamaktadır. Oyun alanı üzerinde denizaltını, K, L, M, N, P ve R noktalarına götürerek basıncı değişimlerini gözlemlemektedir.

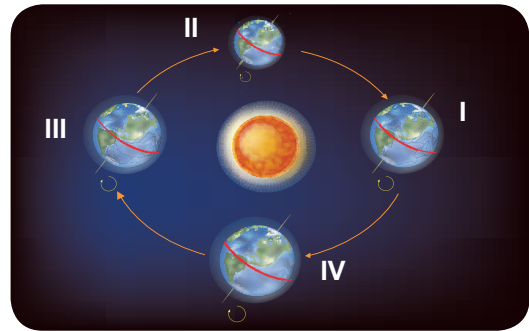
		M	P
	L		
K		N	R

Denizaltını hareketi ettiren Göky aracın ulaştığı noktalarda, araca etki eden sıvı basınçlarını sırasıyla grafikteki gibi çiziyor.



Grafik verilerine göre Göky deniz altını sırayla hangi seçenekteki noktalara götürmüştür?

- A) M-N-L
 B) P-R-N
 C) K-L-N
 D) L-N-R
8. Görselde Dünya'nın, Güneş etrafındaki dolanımı sırasında bulunduğu dört farklı konum verilmiştir.



Buna göre hangi seçenekte verilen ifade doğrudur ?

- A) Dünya 1 numaralı konumunda iken Güney Yarımkürede yaz mevsimi başlar.
 B) Dünya 3 numaralı konumda iken Kuzey Yarımküre'de gece ve gündüz süreleri eşit olur.
 C) Dünya 2 numaralı konumda iken her iki yarımküre'de de aynı mevsim yaşanır.
 D) Dünya 4 numaralı konumda iken Güney Yarımküre'de ağaçlar yapraklarını dökmeye başlar.

14. Tır şoförü Remzi Bey, aracını şekildeki gibi farklı zamanlarda, iki farklı konumda aynı zemin üzerine park etmiştir.



I. Konum



II. Konum

Tırın her iki konumda da yük miktarı ve deposundaki yakıt miktarı eşittir.

Buna göre;

- Aynı tır aynı zemin üzerinde farklı konumlarda iken zemine uygulanan basınçlar da farklı olur.
- Remzi Bey tır ile 4 saat yol aldıktan sonra tırın yere yaptığı basınç azalır.
- Tır yükünü boşalttıktan sonra yere uygulanan basınç artar.
- Tırın tekerlek sayısı yere uyguladığı basıncı değiştirir.

ifadelerden hangileri doğrudur?

- I ve II
- II ve IV
- I ve III
- III ve IV

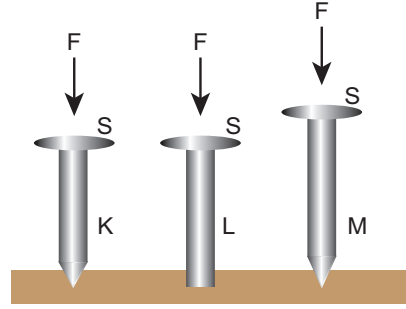
15. Maddenin uğradığı bazı değişim örnekleri panoya asılmıştır.



Verilen örnekler ve örneklerin ait olduğu değişim türüyle ilgili hangi seçenekteki ifade yanlıştır?

- Panodaki örnekler fiziksel değişim örnekleridir.
- Panodaki değişimler maddelerin dış görünüşüyle ilgilidir.
- Ezme ve kesme gibi değişimler maddenin tane-cik yapısını değiştirir.
- Kesilen kağıdın tekrar eski haline getirilebilmesi fiziksel değişim olduğunu kanıtlar.

16. Görselde aynı kalınlıktaki K, L ve M çivilerinin üzerine uygulanan kuvvetler görülmektedir.



Şekildeki K, L ve M çivileri ile ilgili aşağıdaki bilgiler veriliyor:

- Her üç çivinin başlarının yüzey alanları eşittir.
- K ve M çivilerinin sivri uçlarının alanları aynı, L çivisinin ucu kırıktır.
- K ve L çivileri aynı uzunlukta, M çivisi biraz daha uzundur.

Her üç çiviye aynı büyüklükte F kuvveti uygulandığına göre aşağıdaki ifadelerden hangisi yanlıştır?

- Kuvvetin etkisiyle M çivisi tahtaya, L çivisinden daha fazla batar.
- K ve L çivilerinin tahtaya uyguladığı basınçlar eşittir.
- Çivilerin baş kısımlarındaki basınçlar eşittir.
- K ve M çivilerinin tahtaya batma miktarları eşittir.

17. Bir öğrenci grubu, rengarenk deseni olan kumaşın üzerine farklı renklerdeki pulları serpiştiriyor. Sonra serpiştirdikleri pullardan, rengine bakmaksızın, 60 saniye içerisinde maksimum sayıda toplamaya çalışıyor.

Zemin üzerinde kalan pulların renk ve sayılarını tespit eden öğrenciler, kumaşta bulunmayan renklerdeki pulların tamamının toplanmış olduğunu, kumaşta bulunan renklerdeki pulların ise birçoğunun zemin üzerinde kaldığını tespit ediyorlar.

Öğrenciler yapmış oldukları deneyle aşağıdaki olaylardan hangisine açıklama getirebilirler?

- Arı sütü ile beslenen arı larvalarının kraliçe arıya dönüşürken polen ile beslenenlerin işçi arılara dönüşmesi.
- Radyasyona maruz kalmış olan bir kişinin kan kanseri olması.
- Sağlıklı bir annenin özürülü bir çocuk dünyaya getirmesi.
- Develerin bacaklarının ve kirpiklerinin uzun olması.

18. Damla, Emre, Burak ve Eylem sınıfta bazı genetik kavramları arkadaşlarına canlandırma yaparak anlatmaya çalışıyorlar.

DAMLA: Canlılık olayları benden sorulur çünkü ben hücrenin yönetici molekülüyüm.

EMRE: Vardır yapımda Adenin, Timin, Guanin, Sitozin. Bunlarla birlikte DNA'nın yapı birimiyim.

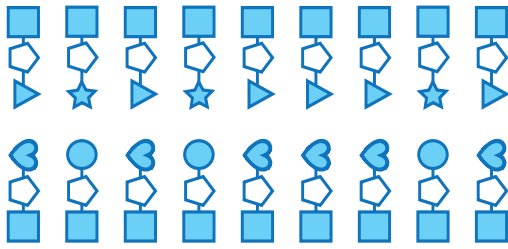
BURAK: Kalıtsal özelliklerinizi ben belirlerim.

EYLEM: Anne ve babanızdan gelen özellikleri üzerimde taşıyorum.

Buna göre Damla, Emre, Burak ve Eylem'in canlandırdıkları genetik kavramlar aşağıdakilerden hangisinde doğru verilmiştir?

	Damla	Emre	Burak	Eylem
A)	DNA	Nükleotit	Gen	Kromozom
B)	Kromozom	Nükleotit	Gen	DNA
C)	DNA	Nükleotit	Kromozom	Gen
D)	Gen	Nükleotit	DNA	Kromozom

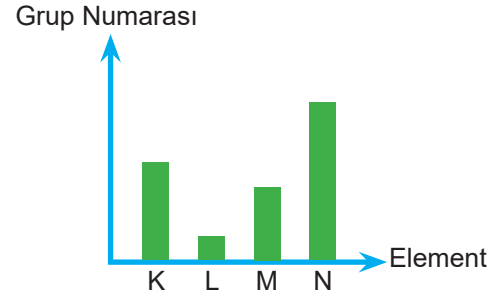
19. Sude'nin evde bulunan boncuklarla yaptığı DNA modelinin bir kısmı şekilde görülmektedir.



Bu modele göre aşağıdaki yorumlardan hangisi doğru olur?

- A) Daire şeklindeki boncuklar deoksriboz şekerini temsil eder.
 B) Kalp şeklindeki boncuklar adenin organik bazını temsil ediyorsa, yıldız şekilli boncuk timin organik bazını temsil eder.
 C) Üçgen şeklindeki boncukların sayısı ile kalp şeklindeki boncukların sayısının oranı 1 dir.
 D) Kare şeklindeki boncuklar ile beşgen şeklindeki boncukların sayılarının toplamı modeldeki nükleotit sayısını verir.

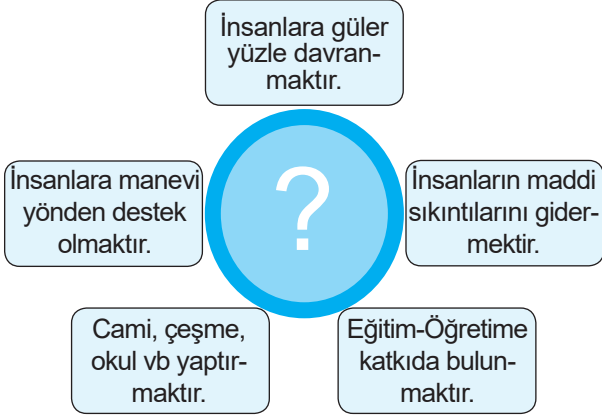
20. Grafikte bazı elementlerin grup numaraları arasındaki ilişki gösterilmiştir.



M elementinin ısı ve elektriği iyi iletmediği bilinmektedir. Buna göre hangi seçenekte verilen ifade yanlıştır?

- A) L elementi Hidrojen olabilir.
 B) N elementi gaz halde olabilir.
 C) K elementi ısı ve elektriği iyi iletmez.
 D) L ve M elementlerinin atom numaraları aynı olabilir.

1.



Kavram haritasında bir terim için yazılan örnek maddeleri görüyoruz.

Merkezdeki soru işaretinin olduğu yere yazılabilecek terim için seçeneklerdeki tahminlerden hangisinin yanlış olduğu söylenebilir?

- A) Sadaka
- B) Paylaşmak
- C) Zekât
- D) Yardımlaşmak

2. "Oturulan ev, ailenin gıda ihtiyacı için ayrılan yiyecek, evde kullanılan eşyalar, giyilen elbiseler, kullanılan araç , kişinin mesleğini yerine getirirken yararlandığı araç-gereçler için ..."

Paragraf aşağıdakilerden hangisi ile tamamlanırsa zekât konusu için doğru bilgi verilmiştir?

- A) ... temel ihtiyaca girdiğinden dolayı zekât verilmez."
 - B) ... şükürünü yerine getirme amacıyla zekât verilir."
 - C) ... zengin olanlar 1/20 oranında zekât vermeli-dir."
 - D) ... sadece nakit para üzerinden zekat verilmelidir."
3. Hadislerin hangisinde zekât ya da sadaka almanın yerine bunları verebilir hale gelmek için çalışmaya teşvik vardır?
- A) "İnsanlara merhamet etmeyene, Allah merhamet etmez."
 - B) "Sabreden başarıya ulaşır."
 - C) "Müslüman, Müslümanın kardeşidir."
 - D) "Veren el, alan elden hayırlıdır."

4. "... (Şuayb) Ey kavmim, ölçüyle tartıyla yaptığınız alışverişte dürüst ve duyarlı olun; insanları kendi hakları olan şeylerden yoksun bırakmayın ve kötülüğü yayarak yeryüzünde karışıklık çıkarmayın." (Hûd suresi, 85. ayet)

Hz. Şuayb (a.s.) ayet'i kerimdeki sözleriyle hangi ahlaki ilkeye öncelikle özen gösterilmesi konusunda toplumunu uyarmaktadır?

- A) Hoşgörü
- B) Merhamet
- C) Yardımseverlik
- D) Adalet

5. "Allah'ın (c.c.) birliği vurgulanarak İslam'ın en temel ilkesi olan tevhit üzerine durulmuştur. Kainattaki bütün olayların O'nun ilmi, iradesi ve kudretiyle gerçekleştiğine değinilmiştir. Yüce Allah'ın bütün kâinatın sahibi olduğu, her şeyin Allah'a (c.c.) ait olduğu, bütün işlerin ancak O'nun izniyle gerçekleşeceği ayette geçen diğer hususlardır."

Metinde verilen açıklama şıklardaki hangi başlığa aittir?

- A) Maun suresi
- B) Ayet'el- Kürsi
- C) Kureyş suresi
- D) Asr suresi

6. Herkesin yararlanabileceği şeylerden bazı kişiler yararlanır da başkalarına kullanma imkânı vermezlerse bundan büyük kavga çıkar. Toplum düzenini sağlayan asıl öğelerden biri de sosyal hak eşitliğidir. Toplumun bir kesimi zor şartlar altında geçirenken, diğer kesim çok yüksek bir hayat seviyesi tutturmuşsa, bu çelişkili durum sosyal patlamalara neden olur. Barış içinde yaşamak için nimetlerin bölüşmesinde eşit haklara sahip olunmalıdır.

Metne uygun örneği oluşturan söz hangisinde doğru olarak verilmiştir?

- A) Umut, fakirin ekmeğidir.
- B) Biri yer, biri bakar; kıyamet ondan kopar.
- C) Hayır dile komşuna, hayır gele başına.
- D) Bir elin verdiğini öbür elin duymasın.

7. "Hiç dini yalanlayan (birini) düşünebilir misin? İşte böyle biridir, yetimi itip kakan, Yoksulu doyurma arzusu/gayreti duymayan. Yazıklar olsun şu namaz kılip duranlara, Onlar ki kalpleri namazlarına yabancıdır, Onlar ki niyetleri yalnızca görülüp takdir edilmektir Ve üstelik onlar, (insanlara) en ufak bir yardımı bile reddederler!"

Seçeneklerin hangisi Maun suresinden çıkarılabilecek mesajlarla ilgili yanlış bir yorum içerir?

- A) Allah, riya masadıyla yapılan ibadetleri kabul etmez.
B) Allah'a iman etmek topluma karşı sorumluluğu da gerektirir.
C) Namaz mükemmel kılınmıyorsa, kılmamak daha iyi bir tercih olabilir.
D) Merhametsiz olmak, ahirete hakkıyla iman edilmediğine işaret eder.

8. I. ... annesine: "Onu emzir, şayet onun için korkacak olursan, onu suya bırak, korkma ve üzülme; çünkü onu Biz sana tekrar geri vereceğiz ve onu gönderilen (elçilerden) kılacağız" diye vahyettik (bildirdik). (Kasas Suresi, 7. ayet)
II. Nihayet Firavun'un ailesi, onu (ileride bil-meksizin) kendileri için bir düşman ve üzüntü konusu olsun diye sahipsiz görüp aldılar. Gerçekte Firavun, Haman ve askerleri bir yanılığ içindeydi. (Kasas Suresi, 8. ayet)
III. "...O, Allah'ın Elçisi ve bütün peygamberler 'in sonuncusu 'dur. Ve Allah her şeyi hakkıyla bilendir. " (Ahzab suresi ,40.ayet)
IV. Firavun'un karısı dedi ki: "Benim için de, senin için de bir göz bebeği; onu öldürmeyin; umulur ki bize yararı dokunur veya onu evlat ediniriz." Oysa onlar (başlarına geleceklerin) şuurunda değillerdi. (Kasas Suresi, 9. ayet)

Ayetlerin hangisi Hz.Musa (a.s.) ile ilgili olamaz?

- A) I B) II
C) III D) IV

9. **Kasten işlediği suçlar nedeniyle hapse düşenlere "kader mahkûmu" denildiğinde , insanın hangi imkana sahip olmadığı iddia edilmiş olur?**

- A) İrade
B) Hoşgörü
C) Akıl
D) Sağlık

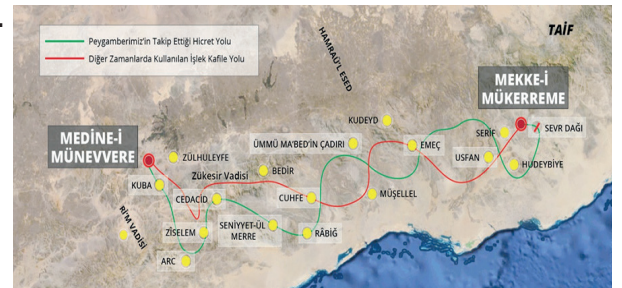
10. "Sizi boş yere yarattığımızı ve bize tekrar döndürülüp hesap vermeyeceğinizi mi sandınız?" (Mü'minûn suresi, 115. ayet)

Ayette vurgulanan husus hangi seçenekte doğru olarak verilmiştir?

- A) Rızık
B) Ecel
C) Ömür
D) Sorumluluk

ISPARTA ÖLÇME DEĞERLENDİRME MERKEZİ

11.



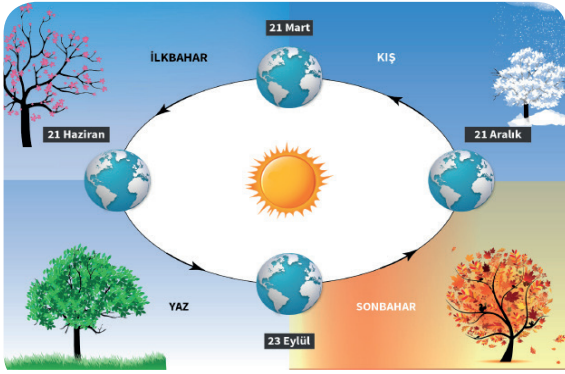
Peygamberimiz Hz. Muhammed'in (s.a.v) hicret yoluna çıkarken kendisini yakalamak isteyen Mekke müşrikleri atlatmak için kullandığı güzergahı gösteren harita, seçeneklerdeki hangi konu için en uygun örneği oluşturur?

- A) Ecel
B) Tevekkül
C) Rızık
D) Kaza

12. "Kaza" teriminin kullanımlarının hangisi "Kader inancı" ünitesindeki terim anlamına uygundur?

- A) Elim kazada vefat edenler dualarla anıldı.
- B) Yalvaç, Isparta'nın eski kazalarından biridir.
- C) Namaz, özürsüz olarak kazaya bırakılmaz.
- D) Kaza, Allah'ın yaratma sıfatıyla ilgilidir.

13.



Verilen görsel aşağıdaki anlatımların hangisinde kullanmak için iyi bir örnek oluşturmaz?

- A) Toplumsal yasalar
- B) Alemdeki düzen
- C) Fiziksel Yasalar
- D) Biyolojik yasalar

14. Alınan bütün önlemlere rağmen insanlar yine de hasta olabilir. Böyle durumlarda "Hasta olmak benim kaderimde varmış." diyerek tedavi olmamak veya hastalığa çare aramamak doğru bir kader anlayışı değildir.

Paragraftaki altı çizili olan ifade, seçeneklerde yer alan kelimelerden hangisi ile değiştirilirse cümlenin anlamı korunmuş olur?

- A) Kaza
- B) Ömür
- C) Tevekkül
- D) Rızık

15. "Hiçbiriniz kendisi için istediğini kardeşi için de istemedikçe hakkiyla iman etmiş sayılmaz." (Buhârî, İmân, 7)

Hadis'i şerif hangisinden sakınılmasını öğütlemektedir?

- A) Yalan
- B) Haset
- C) Hırsızlık
- D) Gıybet

16. Allah rızasından başka bir amacın taşınmadığı sırf iyilik niyetiyle yapılan maddi ve manevi hayır çeşitlerinin dinimizdeki ortak adı sadakadır."

Tanımaya göre seçeneklerdeki kavramlardan hangisi İslam hukukunda farz olan sadakayı ifade eder?

- A) İnfak
- B) Fidyeye
- C) Zekât
- D) Fitre

ISPARTA ÖLÇME DEĞERLENDİRME MERKEZİ

- 17.
- I. Zekat
 - II. Oruç
 - III. Sadaka
 - IV. Namaz

Verilen ibadetlerin hangileri fakirlik, dilencilik ve sosyal adaletsizlik gibi sorunların çözümüne doğrudan katkı sağlar?

- A) I ve III
- B) II ve IV
- C) I ve II
- D) III ve IV

18. Bayramlarda, düğünlerde, sünnet merasimlerinde çocuklara harçlık vermek, Ramazan'da iftarlarda yemek ikram etmek, vefat eden yakınlar için hayrat yaptırmak, arkadaşlara bir şeyler ısmarlamak gibi davranışlar hangisiyle öncelikle ilişkilidir?

- A) Toplumda ihtiyaç sahibi insanların olmasıyla
- B) İnfak kültürünün gelenek üzerindeki etkisiyle
- C) Ramazan ayının diğer aylardan daha faziletli oluşuyla
- D) İnsanın toplum içinde hayatını sürdürebileceğiyle

19. "Akıl sahibi bireyleri kendi özgür iradeleriyle iyiye ve doğruya yönelten ve onların mutluluğunu hedefleyen ilahî kurallar bütünüdür."

Metinde din ile ilgili hangi bilgiye yer verilmiştir?

- A) Tanımı
- B) Kaynağı
- C) Amacı
- D) Konusu

20. "İnsanlık tarihi incelendiğinde, her dönemde ve her yerde inanan insan ve din gerçeği ile karşılaşılır. Arkeolojik kalıntılarda, tarihi kaynaklarda, ilahi kitap yazmalarında ve toplumların kültürlerinde dinî motiflerin varlığı yoğun olarak görülür."

Metinde din olgusunun hangi yönüne vurgu yapılmıştır?

- A) Evrenselliğine
- B) Amacına
- C) İçeriğine
- D) İlahi yönüne

DİN KÜLTÜRÜ VE AHLAK BİLGİSİ TESTİ BİTTİ.
CEVAPLARINIZI KONTROL EDİNİZ.

SINAV BAŞLAMADAN AŞAĞIDAKİ UYARILARI MUTLAKA OKUYUNUZ!

1. Öğrenciler, sınav kurallarına ve salon görevlilerinin tüm uyarılarına uymak zorundadırlar.
2. Cevap kâğıdındaki isminizin doğruluğunu kontrol ediniz. Bilgiler size ait değilse veya cevap kâğıdı kullanılmayacak durumdaysa sınav görevlilerine bildirin.
3. Sınav başladıktan sonra öğrencilerin salon görevlileri ve birbirleri ile konuşmaları, kalem, silgi vb. şeyleri istemeleri yasaktır.
4. Değiştirmek istediğiniz bir cevabı, yumuşak silgiyle cevap kâğıdını yıpratmadan temizce siliniz ve yeni cevabınızı kodlayınız.
5. Cevaplarınızı, cevap kâğıdındaki ilgili soru numarasını dikkate alarak yuvarlağın dışına taşırmadan kodlayınız.
6. Soru kitapçığının sayfalarını kontrol ediniz, baskı hatası var ise değiştirilmesini sağlayınız.
7. Soru kitapçığı üzerinde yapılmış cevap kâğıdına işaretlenmeyen cevaplar değerlendirmeye alınmayacaktır.
8. Soru kitapçığının içindeki boş alanları çözümlerinizi için kullanabilirsiniz.
9. Cevaplamaya istediğiniz sorudan başlayabilirsiniz.
10. Cevabını bilmediğiniz sorular üzerinde fazla zaman kaybetmeden diğer sorulara geçiniz. Zamanınız kalırsa bu sorulara daha sonra dönebilirsiniz.
11. Sınav puanınızın hesaplanmasında sadece doğru cevaplarınız dikkate alınacaktır.
12. Sınav bitiminde, cevap kâğıdını salon görevlilerine teslim ediniz.
13. Sınav sırasında sözlük, hesap makinesi, saat fonksiyonu dışında özellikleri bulunan saat veya çağrı cihazı, cep telefonu, telsiz, radyo ve bilgisayar özelliği bulunan elektronik cihazları yanınızda bulundurmuyunuz.
14. Cevap kâğıdınızı sınav süresince hiçbir öğrencinin göremeyeceği şekilde önünüzde bulundurunuz.
15. Sınav süresince zorunlu haller hariç sınav salonu dışına çıkılmayacaktır.

SINAV GÖREVLİLERİNCE SINAV BAŞLAMADAN ÖNCE ÖĞRENCİLERE YAPILACAK SON UYARI

- Soracağınız bir şey var mı? Varsa, şimdi sorunuz.
- Sınav başladıktan sonra sorularınıza cevap verilmeyecektir.
- Başlama zilini bekleyiniz.

Hepinize Başarılar Dileriz.

Bu sınav, Isparta Milli Eğitim Müdürlüğü, Ölçme ve Değerlendirme Merkezince uygulanmaktadır.

Bu kitapçığın her hakkı saklıdır.

Hangi amaçla olursa olsun, kitapçığın tamamının veya bir kısmının Isparta İl Millî Eğitim Müdürlüğü'nün yazılı izni olmadan kopya edilmesi, fotoğraflarının çekilmesi, bilgisayar ortamına alınması, herhangi bir yolla çoğaltılması, yayımlanması veya başka bir amaçla kullanılması yasaktır. Bu yasağa uymayanlar, doğabilecek cezai sorumluluğu ve kitapçığın hazırlanmasındaki mali külfeti peşinen kabullenmiş sayılır.

ISPARTA ÖLÇME DEĞERLENDİRME MERKEZİ

<http://ispartaodm.meb.gov.tr>

(246) 280 32 55

odm32@meb.gov.tr